

## 2021 年河南省普通高中招生考试试卷 历 史

### 注意事项:

1. 本试卷共 6 页, 分为选择题和非选择题, 满分 50 分, 考试时间 50 分钟。
2. 开卷考试, 可查阅参考资料, 但应独立答题, 禁止交流资料。
3. 本试卷上不要答题, 请按答题卡上注意事项的要求直接把答案填写在答题卡上。答在试卷上的答案无效。

### 选择题 (共 20 小题, 20 分)

下列每小题列出的四个选项中, 只有一项是最符合题目要求的。请将正确选项的英文字母代号涂写在答题卡相应位置上。

1. 下列三幅图片中的文物共同反映了我国先民的



陕西宝鸡出土的小口尖底陶瓶  
(约公元前5000—前3000年)



河南陕县出土的陶釜、陶灶  
(约公元前5000—前3000年)



山东泰安出土的白陶鬲  
(约公元前4200—前2500年)

- A. 农耕工具丰富多样  
B. 商品贸易较为活跃  
C. 陶器文化历史悠久  
D. 彩陶艺术绚丽多彩
2. 甲骨文包含着丰富的社会历史信息。下列商周时期的甲骨文共同呈现了当时的

甲骨文				
对应汉字	王	臣	劓	刖

注: 劓、刖, 均为古代残酷的刑罚。

- A. 政治状况  
B. 经济发展  
C. 科技进步  
D. 军队建设
3. 西汉前期, 币制十分混乱, 诸侯、达官、豪富多私造牟利, 不同的货币同时流通于市场, 折算困难, 交易不便。面对这样的情况, 汉武帝采取的措施是
- A. 兴办太学  
B. 平抑物价  
C. 盐铁专卖  
D. 统一铸币

4. 隋炀帝时，南方和北方的经济形势，使得加强它们之间的水路交通运输成为一件迫切的事情。于是，隋炀帝
- A. 南下灭陈      B. 营建东都      C. 开通大运河      D. 创立科举制
5. 与唐代长安相比，北宋东京的城市格局和内部管理已完成由坊市制到厢坊制的转变，商业活动不再限制在“市”，“日中为市”的经营时间也被打破。这主要是由于
- A. 草市的出现      B. 商业的发展      C. 纸币的使用      D. 商帮的形成
6. 1416年，郑和完成第4次下西洋任务后，出现了亚洲、非洲17个国家和地区派遣使节来华的盛况。这些史事表明郑和下西洋
- A. 开辟了海上丝绸之路      B. 增进了中外友好往来  
C. 促进了明朝经济发展      D. 解除了东南沿海倭患
7. 明代某著作，记载了谷类和棉麻作物栽培、食品加工、制陶、造纸、冶铸、舟车制造和珠玉采琢等生产技术。这部著作应该是
- A. 《齐民要术》      B. 《本草纲目》      C. 《农政全书》      D. 《天工开物》
8. 学者章开沅认为：“起义对封建制度来了一次大扫荡，沉重打击了清王朝的专制统治，加速了封建统治的崩溃。同时抗击了西方资本主义的侵略……拉开了中国近代民主革命的序幕。”材料中的“起义”是
- A. 三元里人民抗英斗争      B. 太平天国运动  
C. 义和团运动      D. 南昌起义
9. 随着近代企业的创办，民族资本家、近代产业工人、近代知识分子群体随之产生。这表明近代企业的创办
- A. 推动了新的社会阶层出现      B. 维护了封建统治  
C. 拉开了变法维新的序幕      D. 改变了社会性质
10. 《辛丑条约》规定凡是有义和团活动的地方，停止科举考试五年；规定条约内容及附件都要以皇帝的名义在全国各地张榜公布，以警告全国官民。这反映了列强企图
- A. 划分“势力范围”      B. 增设通商口岸  
C. 废除科举制度      D. 进行心理征服
11. 毛泽东说：“五四运动的杰出的历史意义，在于它带着为辛亥革命还不曾有的姿态，这就是彻底地不妥协地反帝国主义和彻底地不妥协地反封建主义。”这里的“姿态”强调的是
- A. 革命的复杂性      B. 制度的创新性  
C. 斗争的彻底性      D. 抗战的持久性

12. 这次会议是在红军严重受挫的历史关头召开的，它开启了中国共产党独立自主解决中国革命实际问题的新阶段。这次会议
- A. 创建了工农红军第四军      B. 是党的历史上生死攸关的转折点  
C. 宣告了长征的胜利结束      D. 为人民指明了抗战后的奋斗方向
13. 建国初年，我国安全面临严重威胁，所有中国人的爱国热情都被奇迹般地调动起来，人们加班加点地工作，把增产增收的东西捐献成飞机大炮，源源不断地送往前线。对这些现象描述正确的是
- A. 渡江战役，解放南京      B. 土地改革，保障民生  
C. 抗美援朝，保家卫国      D. “一五计划”，工业起步
14. 右图人物被称赞为“象征中国粮食安全的科学家”“亚洲的英雄”。下列属于他的贡献的是
- A. 研制东方红一号卫星  
B. 培育籼型杂交水稻  
C. 发现青蒿素  
D. 研发神舟系列飞船
15. 伯里克利时期，公民大会每年召开 40 次，大会向与会者发放补贴，起初为半天饭钱，后增加到一天半饭钱。这样做是为了
- A. 鼓励公民参政议政      B. 扩大妇女权利  
C. 调动外邦人积极性      D. 提高奴隶待遇
16. 迈尔斯教授认为，阿拉伯人几乎把他们所能触及的科学都加以改进和充实，然后再传到欧洲。下列符合这一观点的是
- A. “儒略历”      B. 《天方夜谭》      C. 《荷马史诗》      D. “阿拉伯数字”
17. 法国大革命开始后，制宪会议废除了种种贵族特权和封建地租，基本完成了“破旧”工作，它的主要任务还有“立新”。这里的“立新”首先体现在
- A. 攻占巴士底狱      B. 颁布《人权宣言》  
C. 惩办路易十六      D. 打退反法联军
18. 下表中的战争形势相继出现的主要原因是

时间	战役	主要交战国	结果
1942 年	中途岛战役	美国和日本	太平洋战争出现转折
1942 年	阿拉曼战役	英国和德国、意大利	北非战场的形势发生了转折
1942—1943 年	斯大林格勒保卫战	苏联和德国	第二次世界大战的转折点

- A. 法西斯“轴心国”的形成      B. 《联合国宣言》的签署  
C. 欧洲第二战场的开辟      D. 雅尔塔会议的召开






19. 1971年，尼克松在堪萨斯城讲话时表示：从经济角度看，美国不再是世界头号国家，世界也不再仅有两个超级大国。尼克松这样说的背景是
- A. 冷战序幕的拉开                      B. 多极力量的成长
- C. 两极格局的瓦解                      D. 欧洲联盟的成立
20. 迫于环境的压力，生物会使它们自己适应不同的生活方式。往往会出现某一生物可以更适合于某一小环境的变化，使得它们击溃另一群并取而代之。这段话描述的观点出自
- A. 牛顿                      B. 法拉第                      C. 达尔文                      D. 爱因斯坦

**非选择题（共5小题，30分）**

21. （6分）阅读下列材料，回答问题：

材料一



张择端《清明上河图》中描绘的北宋汴京虹桥

左图中的北宋汴京虹桥采用了中国传统的木拱结构，这种构造不仅很好地发挥了木材自身抗拉能力强的特点，而且弧形的桥身有着相当大的跨越空间的能力。

——摘编自方拥《中国传统建筑十五讲》

材料二

罗马大竞技场在吸收希腊建筑特点的同时，它的拱券构造很好地发挥了石材抗延展力弱、抗挤压力强的特点，赋予建筑独特的艺术风格。



罗马大竞技场遗址

——摘编自〔日〕佐藤达生《图说西方建筑简史》

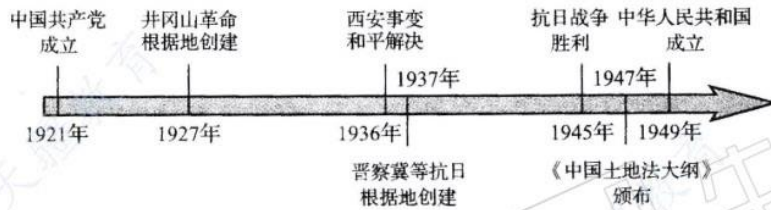
- （1）据材料一和材料二，指出汴京虹桥和罗马大竞技场在“构造”上的相同之处，并概括影响建筑风格的因素。（4分）
- （2）建筑是凝固的历史和文化。结合上述探究，你如何看待东西方文化？（2分）

22. (6分) 阅读下列材料，回答问题：

材料一 毛泽东在《论人民民主专政》中写道：“中国人向西方学得很不少，但是行不通，理想总是不能实现。多次奋斗，包括辛亥革命那样全国规模的运动，都失败了。国家的情况一天一天坏，环境迫使人们活不下去。”

——摘自郭晔旻《敢问路在何方？民初十年的彷徨》

材料二



材料三 中国共产党在长期斗争的实践中发挥自己的政治优势和组织优势，把被人视为“一盘散沙”的中国人民团结和凝聚成万众一心的不可战胜的力量。

——摘自中共中央党史研究室《中国共产党历史》

- (1) 据材料一并结合所学知识，举出 1912—1921 年“国家的情况一天一天坏”的史实。(2分)
- (2) 请为材料二中的年代尺拟定一个恰当的主题，并再写出一种整理史实的方法。(2分)
- (3) 任选材料二中的史实，说明材料三的观点。(2分)

23. (6分) 请结合下列图片中人物的活动和所处的时代，写一篇 80—120 字的小短文。

(要求：题目自拟，观点明确，紧扣人物与所处时代的关系；史实正确；条理清晰，语句通顺，表述完整)



王进喜



神舟五号载人飞船成功着陆，  
杨利伟走出舱门

24. (6分) 阅读下面材料, 回答问题:

材料 19世纪的前40年, 伦敦发生了14次毒雾事件。城市里生活污水随意泼洒, 垃圾随意倾倒, 由于缺乏厕所, 人们随处便溺。泰晤士河也变得肮脏浑浊不堪。为此, 英国政府采取了一系列城市治理的措施。1843年, 英国议会通过了炉灶排放烟尘和控制蒸汽机的法案, 后来又颁布了一系列的法令, 控制、减少有害气体的排放。1847年, 英国议会通过了《河道法令》, 保护饮用水水源的河流、水库、管道等。后来又成立了首都公务委员会, 监督和管理全国供水、排水系统。1848年, 英国政府颁布《公共卫生法》, 开辟了国家监管公共卫生的制度。经过100多年的努力, 英国政府的环境治理卓有成效。

——摘编自齐爽《英国城市化发展研究》

- (1) 据材料, 19世纪中期, 英国政府针对城市环境的哪些问题进行了治理? (2分)
- (2) 结合所学知识, 分析英国出现上述环境问题的历史原因。 (2分)
- (3) 综上所述, 英国城市环境治理呈现了哪些值得借鉴的做法? (2分)

25. (6分) 阅读下列材料, 回答问题:


材料一 1948—2001年, 联合国先后进行了55次维和行动。在联合国支持和努力下, 成员国达成了众多裁军协议。联合国还通过了一系列宣言、公约, 如《消除对妇女一切形式歧视公约》《儿童权利宣言》等, 敦促各国政府尽最大努力保证妇女、儿童的合法权利。2000年, 联合国千年首脑会议在消除贫困、改善贫困人口生活等方面做出了承诺。

——摘编自人教版《历史 选修3 20世纪的战争与和平》

材料二



世界贸易组织的徽标



“一部手机走天下”

- (1) 据材料一, 概括联合国在国际上发挥的作用。 (3分)
- (2) 材料二反映了当今世界发展的哪些特点或主要趋势? (2分)
- (3) 综上所述, 请举一例中国顺应上述时代发展所做的努力。 (1分)



