

郑州市 2021 年初中中招适应性测试

道德与法治试题卷(开卷)

注意:本试卷分试题卷和答题卡两部分。考试时间 60 分钟,满分 70 分。考生应首先阅读试题卷及答题卡上的相关信息,然后在答题卡上作答,在试题卷上作答无效。交卷时只交答题卡。

一、选择题(17 小题,每小题 2 分,共 34 分。下列每小题的四个选项中,只有一项是最符合题意的)

1. 行为与后果具有一致性。人的每一种行为都会产生一定的后果,人应该对自己的行为负责。下列中学生的行为属于对自己负责的是


- A. 小明每天学习到很晚,白天上课打瞌睡
- B. 小霞一向生活简朴,从来不与同学攀比
- C. 小刚喜欢参加公益活动,经常为此逃学
- D. 不论父母正确与否,小芬总是言听计从

2. 幼时一场意外导致他双臂截肢,但他没有灰心丧气,坚持练习用双脚写字、穿衣、洗漱、叠被……他积极乐观,坚信“别人做得到的我也可以”。他不仅学习成绩优异,而且爱好广泛,可以踢足球、徒步登山!他就是同济大学研究生小超。小超的事迹启示我们要

- A. 不断超越自我,活出生命精彩
- B. 回避负面情绪,保持乐观心境
- C. 培养高雅情趣,享受完美人生
- D. 无视他人评价,积极接纳自己

3. 右边漫画《水滴石穿》给我们的启示是

- A. 水滴比岩石更坚硬
- B. 大自然的力量远胜过人类
- C. 成功往往源于坚持不懈的努力
- D. 险峻的地方会有更美的风景



4. 每逢春节,家中学业有进步、工作受表彰、做好事为家族争光的,都会在亲人见证下坐上“荣誉凳”。登封王某家族中的这把“荣誉凳”,先后“坐”出了 7 名硕士、博士,26 名本科生,已成为家人心中的“信仰”,激励着他们不断上进。对此,下列认识正确的是

- ①良好的家风有利于家庭成员的成长和发展
- ②家风理当世代传承,不应该改善和发展
- ③传承良好家风就能出人头地、成就功名
- ④良好家风涵养着一个家庭高尚的价值追求

- A. ①②
- B. ②④
- C. ②③
- D. ①④

5. 7岁的小千自幼父母双亡,唯一照顾他的外婆生病后,上下学成为难题。当地救助中心得知后,联合公交公司在他家门口设立了公交车临时停靠站。专门为一个人设一个站

- ①彰显了以人为本理念,传递了社会温暖
- ②纯属资源浪费,牺牲了其他乘客的利益
- ③违背了社会规则,破坏了公交运行秩序
- ④是对弱势个体的尊重,体现了文明进步

A. ①② B. ②③ C. ①④ D. ③④

6. 近日,在洛阳市中招体育中长跑项目考试时,一考生突然摔倒,已冲出三四米远的同学小张立即调头跑回将他扶起,然后继续向终点奔去。事后,小张说:“中长跑就一次测试机会,对我们谁都很重要,我不能扔下同学不管。”小张的行为

- A. 是与人为善、关爱同学的表现
- B. 属于自觉履行法定义务,值得表扬
- C. 说明他过于单纯,没认识到竞争的残酷
- D. 告诉我们要正确面对生活中的挫折

7. 漫画《真正的朋友》告诉我们

- A. 患难与共的友谊才是真正的友谊
- B. 友谊是双向的,逆境时朋友变少很正常
- C. 只有在逆境中才能获得真正的友谊
- D. 随着年龄增长,朋友圈会不断变小



8. 担心孩子坐在教室后排,难以得到老师关注;害怕孩子的同桌太过淘气,影响学习……近年来,类似的“座位焦虑”现象在家长中并不鲜见。若你的家长也有上述“座位焦虑”,你应当

- ①要求老师把自己调到中间靠前的位置
- ②增强自制力,专心学习让父母放心
- ③总是谎称自己考了高分,打消父母的顾虑
- ④告诉父母学习关键靠自己,要理性对待座位

A. ②③ B. ③④ C. ①④ D. ②④

9. 健康是幸福生活最重要的指标,健康是1,其他是后面的0,没有1,再多的0也没有意义。下列行为有利于身体健康的是

- A. 体育考试结束,放弃一切锻炼
- B. 定期参加体检,有病及时就医
- C. 追求苗条身材,经常不吃早餐
- D. 时常吃点药物,预防疾病发生

10. 下列时政热点与解读匹配有误的是

选项	时政热点	时政解读
A	我国申报的“太极拳”项目,列入联合国教科文组织人类非物质文化遗产代表作名录	中原文化源远流长、博大精深
B	中央政治局会议审议《关于新时代推动中部地区高质量发展的指导意见》	我国坚持区域协调发展战略
C	《人类减贫的中国实践》白皮书指出,占世界人口近五分之一的中国全面消除绝对贫困	中国为全球减贫事业发展和人类发展进步作出了重大贡献
D	十三届全国人大四次会议通过了修改后的全国人大组织法和全国人大议事规则	全国人大依法行使监督权

11. 抓创新不问“出身”,不论科学家的重大发明,还是普通劳动者的小发明小创造,只要能为国家作贡献,国家就会全力支持。这

- ①表明了我国鼓励创新创造的坚定决心
- ②意味着每个人都能脱颖而出成为创新人才
- ③有利于激发全体社会成员的创新活力
- ④能汇聚起推动我国高质量发展的创新动能

A. ①②③ B. ①②④ C. ①③④ D. ②③④

12. 在 2015 年设立第一批基层立法联系点的基础上,2020 年全国人大常委会新增江苏昆山市人大常委会、浙江义乌市人大常委会等为基层立法联系点,让群众“好声音”直通立法机关。设立基层立法联系点

- ①赋予我国基层人大更广泛的立法权
- ②有助于推动我国科学立法、民主立法
- ③是坚持开门立法、倾听民意的重要表现
- ④表明全国人大常委会依法审慎行使行政权

A. ①③ B. ②③ C. ①④ D. ②④

13. 陕西咸阳将法律知识、典型案例与社区秦腔表演等文体活动相结合,讲述法治故事;广西南宁开设“大榕树”普法课堂,法官深入田间地头讲解法律知识;福建福州鼓楼区检察机关开设“云课堂”,在辖区学生中传播法治理念……上述活动


- A. 有利于加强社会主义法治文化建设
- B. 表明依法治国开始成为治国基本方略
- C. 能保证全体成员自觉做到知法守法
- D. 能够从根本上消除我国的主要矛盾

14. “大别山精神”“红旗渠精神”“焦裕禄精神”……近日,由郑州公交公司精心打造的“红色精神”主题车厢精彩亮相,一张张历史照片,一个个红色故事,让普通的公交车“变身”为移动的红色展览馆,让乘客的日常出行变成了穿越时空的“红色之旅”。此举

- ①是延续文化血脉的创新之举
- ②目的是重温红色记忆,传承红色基因
- ③有利于高扬民族精神,凝聚价值追求
- ④能进一步丰富“红色精神”的基本内涵

A. ①②③ B. ①②④ C. ①③④ D. ②③④

15. 下图反映了 2016—2020 年我国城乡居民人均可支配收入及增速,依据图表信息,不能得出的结论是



- A. 2016—2020 年城乡居民人均可支配收入都在增长
- B. 2016—2020 年城镇居民人均可支配收入始终高于农村
- C. 2016—2020 年农村居民人均收入的增速高于城镇
- D. 2019—2020 年城乡居民人均可支配收入都出现了下降

16. 抗击新冠肺炎疫情,我们全力以赴救治,不放弃一个病患者;打赢脱贫攻坚战,我们强化精准施策,做到一个都不能少;决胜全面建成小康社会,我们不落下任何地方,也不让任何人掉队……上述事实共同体现了

- ①中国特色社会主义制度的显著优势
- ②党和国家对全体社会成员的平等尊重
- ③我国人民对美好生活的期待已经得到满足
- ④我国坚持以人民为中心的发展思想

A. ①②③ B. ①②④ C. ①③④ D. ②③④

17. 疫苗是抗击病毒的利器,应服务全世界,造福全人类。截至今年 3 月底,中方已向 80 个国家和 3 个国际组织提供疫苗援助,同时向 40 多个国家出口疫苗,与 10 多个国家开展疫苗的研发和生产合作。这体现了

- ①中国积极参与全球规则的制定
②中国践行人类命运共同体理念
③中国作为负责任大国的担当和力量
④世界各国齐心协力抗击疫情的决心

A. ①② B. ②③ C. ①④ D. ③④

二、非选择题(4 小题,共 36 分)

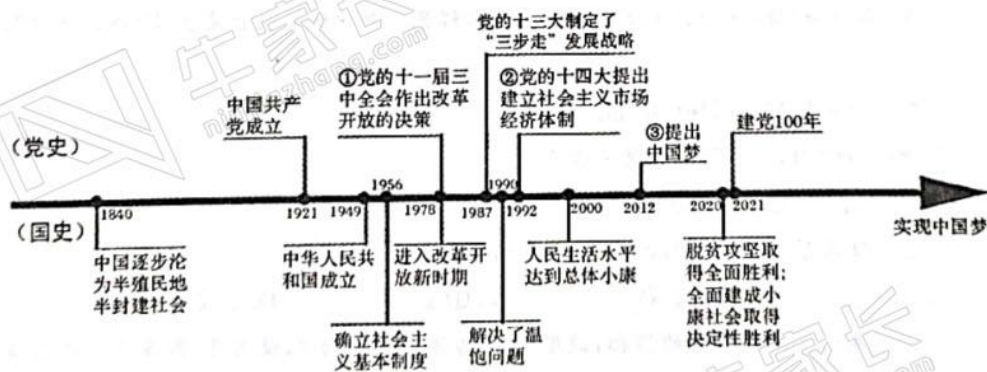
18. 从平台购物到朋友圈购物,再到直播购物,我国居民的网购渠道愈趋多样。近十年来,国家先后修订和出台了《消费者权益保护法》《广告法》《电子商务法》《网络直播营销行为规范》等法律法规,明确消费者依法享有网购“后悔权”,对网络广告违法等增加针对性规定……与此同时,国家每年开展“网剑行动”,依法删除违法商品信息,责令违法经营网站进行整改,查处违法案件,集中整治网络市场突出问题,营造安全放心的网络消费环境。

结合材料,运用法律作用的知识,说明国家是如何打造安全放心的网络消费环境的。(6 分)

19. 把麦苗认成韭菜,以为西红柿长在树上、土豆长在藤上……现在的城市孩子大多缺乏基本的农耕常识、生活常识。针对这一现象,某校组织开展农耕教育实践活动,让学生亲自走进田间地头学习农耕知识。但有同学认为:“当下,通过网络就能学习新知,没有必要参与农耕教育实践活动。”

请你辨析该同学的观点。(8 分)

20.



阅读上述图表,运用相关知识,回答下列问题:

(1) 图表中的①②③是中国共产党在不同历史阶段做出的重大决策,请任选一个,谈谈其对中国发展产生的影响。(两个方面即可,4 分)

(2) 结合上图党史、国史的相关信息,谈谈你对党的深刻认识。(三个方面即可,6 分)

21. 2021 年是全民义务植树开展 40 周年。40 年来,全民义务植树蓬勃开展,我国森林覆盖率由 12% 提高到 23.04%,人工林面积居世界第一。依据法律规定,凡中华人民共和国公民,男 11 至 60 岁,女 11 至 55 岁,除丧失劳动能力者外,均应承担义务植树任务。义务植树任务为:每人每年植树 3 至 5 棵。

你所在的社团准备组织同学们参加一次义务植树实践活动,作为社团负责人,请你完成如下任务:

(1)个别社团成员不理解为什么要把植树作为全民义务,请你解答。(4 分)

(2)全民义务植树尽责形式包括造林绿化、抚育管护、认种认养、捐资捐物、志愿服务等八大类 50 多种。对于究竟该选择哪种尽责形式,社团成员的意见有分歧。你打算如何统一大家的意见?(2 分)

(3)社团确定了“造林绿化”的尽责形式。为保证活动效果,请你就社团成员加强合作提出具体要求。(2 分)

(4)活动结束后,同学们发现所植树木存活率不高,请你反思总结可能存在的原因。(4 分)



牛家长
niujiazhang.com