

# 2020—2021 学年上期期末考试 七年级地理试题卷

闭卷考试

注意:本试卷分试题卷和答题卡两部分。考试时间 60 分钟,满分 100 分。考生应首先阅读答题卡上的文字信息,然后在答题卡上作答,在试题卷上作答无效。交卷时只交答题卡。

一、单项选择题(请把正确答案填涂在答题卡上,每小题 2 分,共 50 分)

2020 年 11 月 24 日 4 时 30 分,“嫦娥五号”探测器在中国海南文昌发射基地成功发射,开启了我国首次地外天体采样返回之旅,吸引了全世界的目光。美国航天局(NASA)也密切关注并积极寻求与中国相关方面开展合作。图 1 为我国四大卫星发射基地分布图。据此完成 1~3 题。

1. 文昌的经纬度位置是

- A. 110°E, 19°N
- B. 110°W, 19°N
- C. 110°E, 19°S
- D. 110°W, 19°S

2. 发射当天,我国四大卫星发射基地白昼最短的是

- A. 酒泉
- B. 太原
- C. 西昌
- D. 文昌

3. 美国航天局华盛顿总部于当地时间 11 月 23 日 15 时 30 分左右观看了发射直播,造成这种时间差异的原因是

- A. 地球的形状
- B. 地球的大小
- C. 地球的自转
- D. 地球的公转

数九是我国古代民间一种计算寒天的方法,从冬至日起,每九天算“一九”。民间有描画九九消寒图的习俗,人们用墨笔每天画一朵梅花,九九八十一天过后,梅花点遍,春回大地。图 2 中左图是九九消寒图,右图是地球公转示意图。据此完成 4~6 题。

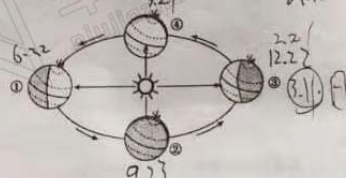


图 2

4. 晕染第一瓣梅花的日期大约是

七年级地理试题卷 第 1 页 (共 8 页)

- A. 3 月 21 日前后
- B. 6 月 22 日前后
- C. 9 月 23 日前后
- D. 12 月 22 日前后

5. 当九九消寒图已晕染梅花 30 瓣时,地球位于

- A. ①—②之间
- B. ②—③之间
- C. ③—④之间
- D. ④—①之间

6. 梅花点遍后,即将迎来的节气是

- A. 春分
- B. 夏至
- C. 秋分
- D. 冬至

每年 11 月前后,河南云台山层林尽染,色彩斑斓,美不胜收。学校地理兴趣小组准备周末去云台山观赏红叶。同学们找到了云台山茱萸峰附近等高线地形图(图 3),经研讨,计划沿线路①观赏红叶,并攀登茱萸峰。据此完成 7~9 题。

7. 登山线路①前半段位于

- A. 山脊
- B. 山谷
- C. 陡崖
- D. 鞍部

8. 观赏红叶视野范围最广的是

- A. 甲
- B. 乙
- C. 丙
- D. 丁

9. 茱萸峰的海拔最可能是

- A. 1260 米
- B. 1282 米
- C. 1308 米
- D. 1346 米



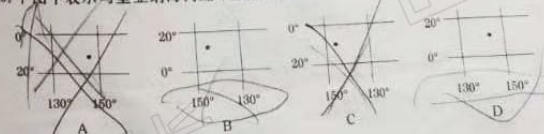
图 3

海沟是海底水深大于 5000 米的狭长沟槽,由大洋板块与大陆板块碰撞而藏。2020 年 11 月 10 日,中国“奋斗者”号载人潜水器在马里亚纳海沟(14°26'E, 11°11'5"N)成功坐底,创造了中国载人深潜的新纪录。图 4 是马里亚纳海沟在世界六大板块中的位置示意图。据此完成 10~12 题。



图 4

10. 下图中表示马里亚纳海沟经纬度位置的是



七年级地理试题卷 第 2 页 (共 8 页)

每个牛孩身后都有一个牛家长

11. 此次中国“奋斗者”号载人潜水器的活动区域在  
A. 北半球、西半球 B. 北半球、东半球  
C. 南半球、西半球 D. 南半球、东半球

12. 与马里亚纳海沟形成有关的板块是  
A. 亚欧板块和太平洋板块 B. 亚欧板块和印度洋板块  
C. 非洲板块和太平洋板块 D. 非洲板块和印度洋板块

2017年9月25日—28日，微信登录界面出现了72小时的“变脸”。变脸前后，我们看到了地球表面不同的海陆分布状况。图5中左图是变脸前的登录界面示意图，右图是变脸后的登录界面示意图。变脸前素材选自美国宇航员拍摄的被称为“蓝色弹珠”的地球卫星照片，变脸后素材选自我国风云四号卫星拍摄的卫星照片。据此完成13~15题。




图5

13. 有人称地球为“蓝色弹珠”，是因为地球表面  
A. 七分陆地，三分海洋 B. 三分陆地，七分海洋  
C. 六分陆地，四分海洋 D. 四分陆地，六分海洋

14. 微信登录界面变脸前后，我们看到的甲、乙两大洲的名称和位置分别是  
A. 甲是非洲，东临印度洋 B. 甲是亚洲，东临大西洋  
C. 乙是非洲，东临大西洋 D. 乙是亚洲，东临印度洋

15. 甲、乙两大洲的分界线是  
A. 马六甲海峡 B. 白令海峡 C. 苏伊士运河 D. 巴拿马运河

图6为郑州2020年12月12日和13日天气状况图。据此完成16~18题。

12/12	12/13
1°~12°	4°~3°
西风 2级	东北风 3级
9:14	9:40
空气质量指数	

图6

16. 郑州12月13日的天气状况是  
A. 晴，最低气温-4℃ B. 多云，最高气温3℃

17. 与12日相比，13日的空气质量发生了明显的变化，与该变化有关的是  
A. 气温升高 B. 降水增多 C. 风力变大 D. 光照充足

18. 冬季郑州气温普遍较低，主要原因是  
A. 太阳直射南半球 B. 太阳直射北半球  
C. 郑州白昼较长 D. 郑州黑夜较短

图7中阴影部分表示世界某种气候类型的分布。据此完成19~20题。




图7

19. 该气候类型是  
A. 热带雨林气候 B. 热带草原气候 C. 热带沙漠气候 D. 地中海气候

20. 该气候分布区人口稀疏的主要原因是  
A. 终年高温多雨 B. 终年炎热干燥 C. 终年酷寒烈风 D. 终年酷寒干燥

猴面包树木质疏松，茎干粗壮，能利用自己粗大的身躯和松软木质代替根系，大量吸收并贮存水分，待到干旱季节慢慢享用。该树主要分布于非洲、大洋洲和南美洲也有分布。图8中左图是猴面包树照片，右图是非洲气候类型分布图。据此完成21~22题。




图8

21. 猴面包树分布地区的气候特点是  
A. 终年高温多雨 B. 夏季炎热干燥，冬季温和多雨  
C. 终年炎热干燥 D. 全年高温，分干湿两季

22. 猴面包树分布地区的气候特点是  
A. 终年高温多雨 B. 夏季炎热干燥，冬季温和多雨  
C. 终年炎热干燥 D. 全年高温，分干湿两季

七年级地理试题卷 第4页 (共8页)

每个牛孩身后都有一个牛家长

22. 猴面包树主要分布在非洲的  
A. 甲地 B. 乙地 C. 丙地 D. 丁地

第二十二届世界杯足球赛将于2022年11月21日至12月18日在卡塔尔的首都多哈等7个城市举行。图9为卡塔尔位置示意图，表1为多哈的气候资料。据此完成23-25题。



图9

月份	1	2	3	4	5	6	7	8	9	10	11	12
均温(°C)	17	18	22	26	32	34	35	35	33	29	25	20
降雨量(mm)	13	17	16	9	4	0	0	0	0	1	3	12

23. 卡塔尔选择冬季举办世界杯足球赛，主要是因为该国  
A. 纬度较高，常年无夏 B. 其他季节风沙较大  
C. 11、12月较湿润 D. 11、12月较凉爽

24. 卡塔尔当地的传统服饰是



A B C D

25. 游客在卡塔尔可以听到的本土语言是  
A. 英语 B. 法语 C. 意大利语 D. 阿拉伯语

二、综合题(共4小题,50分)

26. (10分)阅读图文材料,完成下列问题。  
【开启美好生活】  
小明父母欲在花园小区购买一套住房,决定利用周末时间去实地走访一次。  
(1)出行前爸爸想知道花园小区的具体位置,可以选择的地图有( ) (2分)

A. 郑州市行政区划图 B. 郑州市旅游地图  
C. 手机导航地图 D. 郑州市交通线路图

(2)通过查阅地图,花园小区距出发地2.8公里,你建议小明父母选择的绿色出行方式是( ) (2分)

【精选如意房源】  
小明一家搬到花园小区,经工作人员介绍,该小区共有8栋楼房,均为33层高层住宅,图10为花园小区规划图。



图10

(3)小明妈妈对房间采光要求较高,最终选择了1号楼,主要原因是该楼临花园东路的朝向是( )方向,全天采光好。(2分)

【小区就近入学】  
小明2022年9月就要上小学了,小区内都有一所规划小学会同时交付。  
(4)规划小学在小区入口的( )方向。小明从家到学校的图上距离为6cm,则实际距离是( )米。(4分)

27. (10分)读世界1月平均气温分布图(图11),完成下列问题。



图11

(1)世界1月平均气温总体分布规律是( ),主要影响因素是( )。(4分)

七年级地理试题卷 第6页 (共8页)

每个牛孩身后都有一个牛家长



(2)与北半球相比,南半球的等温线 (平直或弯曲),主要原因是 海陆。(4分)

(3)这种气温分布会直接影响 (A) (2分)  
A. 农作物的分布 B. 工业部门的分布 C. 语言的分布 D. 宗教的分布

28. (20分)阅读图文材料,完成下列问题。

中欧班列(义新欧)是从中国义乌出发,沿着新丝绸之路奔向欧洲的货运专线。2020年3月27日,该班列“中国邮政号”首趟专列从义乌成功首发,装载货物有支援欧洲各国的医用口罩、防护服等防疫物品,经哈萨克斯坦的阿斯塔纳,16天后到达西班牙首都马德里,班列货物分拨至俄罗斯、白俄罗斯、波兰、德国、法国等国。图12中左图是世界局部气候类型分布图及中欧班列(义新欧)路线示意图,右图是义乌、阿斯塔纳气候统计图。



图12

(1)中欧班列横跨亚欧大陆,东端为活跃的经济圈,西端为发达的经济圈,中间腹地的哈萨克斯坦等国家为 (发达或发展中)国家。终点的西班牙马德里位于 欧洲西部。(4分)

(2)中欧班列(从义乌到马德里)沿途的气候类型依次为 亚热带季风气候、温带大陆性气候、地中海气候。(6分)

(3)与义乌相比,阿斯塔纳气温年较差 大,年降水量 少,主要影响因素是 纬度。(6分)

(4)下列建筑是中欧班列(义新欧)沿途经过的部分国家建筑,这些建筑风格反映出他们信仰的宗教是 基督教。(2分)



德国 法国 西班牙

(5)中欧班列“中国邮政号”的成功首发,说明 (A) (2分)

- ①疫情无国界,各国应加强团结合作 ☒  
②全球疫情结束后,各国再恢复贸易往来 ☐

③各国应互通有无,建立人类命运共同体

④各国疫情程度不同,应各自为政

- A. ①② B. ①③ C. ②④ D. ③④

29. (10分)阅读图文材料,完成下列问题。

甲骨文是一种古老的象形文字,是中华八千年文明史的重要组成部分。图13中左图是对甲骨文“聚”和“落”的解释,右图是周(āng)中城区及周(āng)中城区周边地区等高线示意图。周(āng)中古城,中国四大古城之一,已有2300多年的建城历史。



图13

(1)从对甲骨文“聚”和“落”的解释,可以看出影响聚落形成的主要原因有 水源充足、交通便利。(4分)

(2)与周边地区相比,周(āng)中城区海拔 低 (高、低),周(āng)中古城沿 河流 分布。(4分)

(3)周(āng)中古城选址的有利条件与“聚”和“落”甲骨文解释一致的是 (B) (2分)

- A. 地形平坦 B. 水源充足 C. 气候适宜 D. 土壤肥沃

每个牛孩身后都有一个牛家长



每个牛孩身后都有一个牛家长



升学信息 | 原创干货 | 家长社群 | 公益活动

每个牛孩身后都有一个牛家长