

2020 年河南省普通高中招生考试试卷

历史

注意事项：

1. 本试卷共 6 页，分为选择题和非选择题，满分 50 分，考试时间 50 分钟。
2. 开卷考试，可查阅参考资料，但应独立答题，禁止交流资料。
3. 本试卷上不要答题，请按答题卡上注意事项的要求直接把答案填写在答题卡上。答在试卷上的答案无效。

选择题（共 20 小题，20 分）

下列每小题列出的四个选项中，只有一项是最符合题目要求的。请将正确选项的英文字母代号涂写在答题卡相应位置上。

1. 中华姓氏是一种古老的文化，有学者统计，在当今中国 100 大姓中，有 73 姓源于河南或有一支源头在河南。这表明
 - A. 天下姓氏，皆源于豫
 - B. 文化中原，老家河南
 - C. 殷商甲骨，汉字之源
 - D. 华夏文明，尽出中原
2. 东汉末年，名医张仲景提出“治未病”理论，华佗模仿虎、鹿、熊、猿、鸟五种动物活动姿态创编出“五禽戏”。这反映出他们主张
 - A. 预防疾病，强身健体
 - B. 诊断疾病，望闻问切
 - C. 针灸疗法，辨证施治
 - D. 药食同源，用药简易
3. “不是张骞通异域，安能佳种自西来？”一支支驼队驮着茶叶、桃、梨、杏去了西域，又驮着苜蓿、蚕豆、石榴、黄瓜来到中原。材料反映了丝绸之路的开通
 - A. 巩固了国家统一
 - B. 加强了对西域的管辖
 - C. 促进了物种交流
 - D. 改变了古代经济结构
4. 鸦片战争结束后，英国为了使其占领中国商品市场、掠夺中国原料等各方面利益需求“合法化”，强迫清政府
 - A. 签订《南京条约》
 - B. 设立总理衙门
 - C. 镇压农民起义
 - D. 建立近代工厂
5. 据记载，开平矿务局开采的煤炭就在天津市场销售，把日本的煤炭挤出了天津市场。这表明洋务运动一定程度上
 - A. 增强了清朝军事实力
 - B. 抵御了列强经济上的侵略
 - C. 推动了工商业的繁荣
 - D. 根除了外国侵略者的势力

历史试卷 第 1 页（共 6 页）

每个牛孩身后都有一个牛家长

6. 下列建筑共同见证了



北京大学红楼




中国共产党第一次全国代表大会上海会址

- A. 新民主主义革命的开始
B. 工农武装割据的形成
C. 武装反抗反动派的斗争
D. 中国共产党从幼年走向成熟
7. 在国共重新合作的客观形势渐次成熟的时候，起到促进合作作用的历史事件是
A. 九一八事变 B. 西安事变 C. 台儿庄战役 D. 重庆谈判
8. 1949年7月，新政治协商会议筹备会向全社会征求国旗设计方案，在一个月零五天时间里，共收到来自国内外的应征稿件1920件，图案2992幅。这一现象反映人民
A. 绘画能力较强 B. 热切盼望新中国成立
C. 真正成为国家主人 D. 积极巩固新生政权
9. 在全面建设社会主义的过程中，河南林县人民经过几年苦战，开凿太行山，引漳河水入境，修建了“人造天河”红旗渠，彻底告别“水缺贵如油”的历史，创造了人间奇迹。这体现了林县人民
A. 防风治沙的决心
B. 助人为乐的品格
C. 国际主义的视野
D. 艰苦奋斗的精神
10. 结合所学知识判断，右面对联的横批应为
A. 翻身解放
B. 合作社好
C. 多快好省
D. 联产承包
11. 20世纪即将结束的时候，有一首歌家喻户晓，中国人唱着这首歌，迎来了一个被外国租占的领土的回归。这首歌的歌词应该是
A. 雄赳赳，气昂昂，跨过鸭绿江 B. 一九七九年，那是一个春天
C. 我和你，心连心，同住地球村 D. 请叫儿的乳名，叫我一声澳门
12. 公元前4世纪，亚历山大东征，他每征服一个地方就要在当地兴建一座城市，各城市中希腊式的神庙、体育场等建筑也兼具了所征服地区的文化元素。这段话强调了
A. 希腊文化的优越性 B. 希腊文化的东方化
C. 文化交流的双向性 D. 东方文化的希腊化



凌空除险（修建红旗渠的真实写照）



13. 历史学家迈尔斯教授认为，犹太人的宗教、希腊人的艺术、罗马人的法律，是现代文明里三种最真实、最强有力的因素。从这个意义上讲，这座台伯河畔的城市依旧统治着世界。这里“依旧统治着世界”体现在
- A. 拜占庭帝国传承希腊文化
B. 基督教成为罗马帝国国教
C. 罗马法奠定欧洲民法基础
D. 罗马帝国版图地跨三大洲
14. 以前是把人当作神的附属物来认识，现在是需要把人当作人来认识的时代。促成这一变化的事件是
- A. 开辟新航路
B. 文艺复兴
C. 英国资产阶级革命
D. 法国大革命
15. 据统计，到 19 世纪 20 年代，在两台蒸汽织机旁工作的一个男孩所织的布匹比一个熟练的手工业工多 15 倍。这一数据直接说明
- A. 传统手工业日益消亡
B. 机器效率高于手工生产
C. 机器生产完全取代手工劳动
D. 工业革命加剧贫富分化
16. 有史以来的全部优秀文化成果是它的思想渊源，而德国古典哲学、英国古典政治经济学和空想社会主义学说则是它主要的、直接的理论来源。与“它”直接相关的是
- A. 《独立宣言》
B. 《人权宣言》
C. 《共产党宣言》
D. 《解放黑人奴隶宣言》
17. 从下面表格内容中可以获取的正确信息是

1870 年、1913 年各主要资本主义国家在世界贸易中所占的比重

比重 年份	英国	美国	德国	法国	俄国
1870 年	22%	8%	13%	10%	/
1913 年	15%	11%	13%	8%	4%

- A. 世界贸易格局发生改变
B. 英国工业产量跃居世界首位
C. 世界贸易中心从欧洲转向美洲
D. 世界贸易总额连年持续提高
18. 在 1919 年的巴黎和会上，决定一切重大问题的是最高委员会。它由最初的“十人会议”缩小为“四人会议”，整个和会拖了半年多时间，全体会议只开过 7 次，成为和会的一种点缀。材料强调巴黎和会
- A. 是一次分赃会议
B. 被大国强权操纵
C. 对德国进行严惩
D. 使各国矛盾激化
19. 二战中新西兰驻美国大使纳什曾说过，如果我们赢得这场战争后而没有规划，就会再犯上次那样的错误，将开启下一场战争。符合这一理念的是
- A. 成立国际联盟
B. 建立反法西斯联盟
C. 成立联合国
D. 成立北约和华约
20. 由于受到启蒙运动和法国大革命的影响，他以英雄为主题进行音乐创作，表达了斗争胜利后的快乐和对自由、平等、博爱的渴望。“他”是
- A. 巴尔扎克
B. 梵高
C. 列夫·托尔斯泰
D. 贝多芬

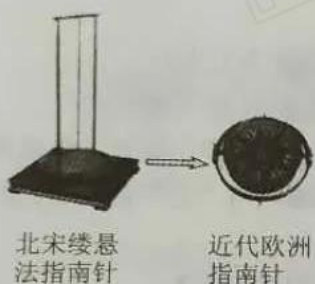
非选择题（共5小题，30分）

21.（5分）阅读下列材料，回答问题：

材料一 西汉时，人们已经懂得了造纸的基本方法，东汉时，蔡伦改进造纸术。阿拉伯人将中国的造纸术传入欧洲，世界各国的造纸术也大都是从中国辗转流传过去的。唐朝时，中国已发明了火药。中国的火药在13世纪传入阿拉伯地区，14世纪初又经阿拉伯人传到欧洲。

——摘编自统编教材《中国历史》

材料二



泥活字



谷登堡改进印刷术

（1）据材料一和材料二，说出这些发明传播的特点。（3分）

（2）英国著名科技史家李约瑟说，中国“在3到13世纪之间保持着一个西方所望尘莫及的科学知识水平”，请再举出一例说明这一观点。（2分）

22.（7分）阅读下列材料，回答问题：

材料一 在初次举行起义失败后，“举国舆论莫不目予辈为乱臣贼子”，庚子（1900年）失败之后，“有识之士且多为吾人扼腕叹惜”。

——摘编自《孙中山自述》

材料二 20世纪初，国内革命情绪日趋高涨。出现了章炳麟的《驳康有为论革命书》、邹容的《革命军》等著作，各种革命团体如光复会、华兴会等纷纷成立，孙中山又组建了中国同盟会，提出了“三民主义”。1906—1910年，先后爆发了萍浏醴起义、安庆起义和黄花岗起义等。

——摘编自统编教材《中国历史》

（1）据材料一，指出当时人们对革命党人的态度发生了怎样的变化。（2分）

（2）据材料一和材料二，概括革命形势高涨的原因。（3分）

（3）辛亥革命是20世纪中国的第一次巨变。请选取相关史实一例并加以说明。（2分）

23. (6分) 阅读下列材料, 回答问题:

材料一 1971年, 美国通讯社说, “这是美国自联合国成立以来遭到的最惨重的失败”, “美国政府人士感到吃惊”, “感到悲伤”。对此, 美国政府极为恼火, 却又无可奈何。

——摘编自《中华人民共和国史》

材料二 中国“就座了属于她的席位”, “不仅填补了一个巨大的真空”, 而且为联合国组织“获得新的动力打开了道路”, “必将对联合国有利, 也对她自己有利”。

——法国代表在第26届联合国大会上的发言

材料三 中国在联合国组织内为实现联合国宪章的宗旨、维护世界和平、加强各国友好合作、促进人类进步事业等方面作出了自己的不懈努力。

——摘编自《中华人民共和国史》

(1) 材料一美国“最惨重的失败”指的是哪一历史事件? (1分)

(2) 据材料一和材料二, 概括这一事件的历史意义。(3分)

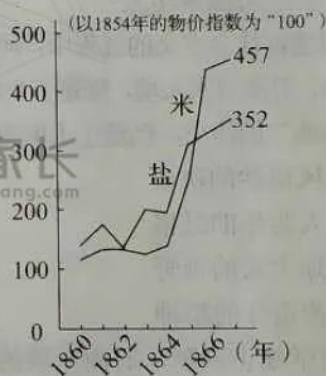
(3) 结合材料三, 用史实说明中国“作出了自己的不懈努力”。(2分)

24. (7分) 阅读下列材料, 回答问题:

材料一



明治维新前的日本



德川幕府统治末期的物价变化

材料二 1868年, 明治政府开始实行一系列改革。明治政府兴建了现代化交通、通信和教育等基础设施, 这些基础设施支撑了工业化和经济的快速发展。而日本民众承担了快速工业化带来的社会和政治成本。1873年农民的土地税占据了农民谷物收益的40%—50%, 在明治发展的开头几年相当于政府财政收入的90%。购买工业设备的外汇主要来自于低工资、劳动密集型产业的纺织品出口。

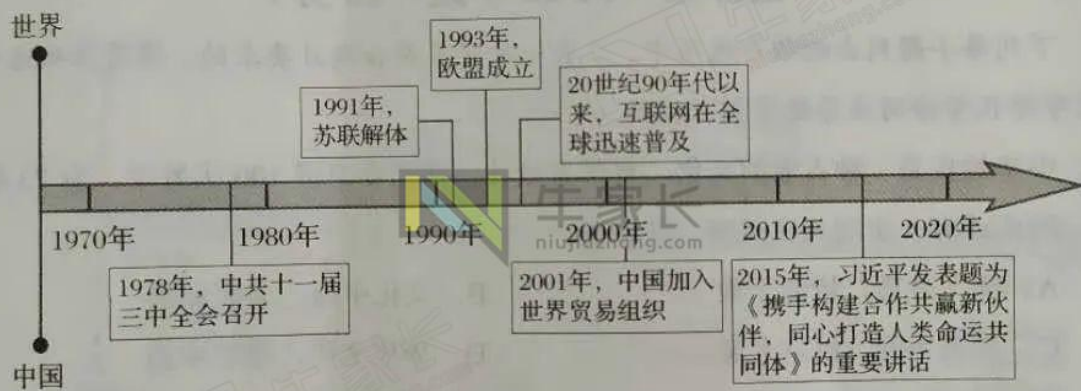
——摘编自《新全球史》

材料三 明治天皇一改过去天皇涂脂抹粉之形象, 以断发蓄须、军装戎马之形象做出表率, 皇室开启西方近代饮食习惯, 这种先导性示范效应很快影响到普通日本国民。明治时期思想家森有礼以“开启民智、文明开化”为己任, 通过刊物引导日本国民移风易俗, 教育家福泽谕吉创办学堂, 培养具备西方近代知识和国际视野的学生。

——摘编自《明治维新如何让日本移风易俗》

- (1) 据材料一，指出当时日本社会面临着怎样的危机。(2分)
- (2) 据材料二和材料三，概括指出各种社会力量在日本近代社会转型中发挥的重要作用。(4分)
- (3) 综上所述，面对社会发展，你认为不同的社会力量应该怎样承担好自己的责任？(1分)

25. (5分) 观察下面年代尺，请分别选取年代尺所示中外事件各一例，结合所学知识，写一篇80—120字的小短文。(要求：题目自拟，史实正确，表述完整，体现历史发展趋势)



加群步骤

- ① 长按下方二维码+小牛好友
- ② 备注 “孩子年级”
加入【牛家长微信群】
- ③ 第一时间了解最新升学动态



牛家长（微信）

微 信 公 众 号

郑州牛家长

★★★★★★★★

升学信息 | 原创干货 | 家长社群 | 公益活动



每个牛孩身后都有一个牛家长