

2020 年高中毕业年级第三次质量预测

文科综合试题卷

本试卷分选择题和非选择题两部分。考试时间 150 分钟，满分 300 分。考生应首先阅读答题卡上的文字信息，然后在答题卡上作答，在试题卷上作答无效。交卷时只交答题卡。

第 I 卷

本卷共 35 个小题，每小题 4 分，共 140 分。在每小题给出的四个选项中，只有一项是符合题目要求的。

确山位于河南省南部，是素有“小延安”之称的革命老区。2015 年以来，大批在乐器制造业被誉为“确山师傅”的确山制琴师从北京等地将手工制琴小作坊迁回了老家。目前，确山共有 40 多家提琴生产企业，提琴产量已占到全国的 40%，其中高档产品更是占 80% 以上。起初，当地生产的提琴都是以代加工为主，完成订单后贴上其他著名提琴厂商的商标销往世界各地。如今，这里已经开始大力发展自主品牌。据此完成 1~3 题。

1. “确山师傅”将手工制琴小作坊迁回老家得益于当地
 - A. 提琴消费市场广阔
 - B. 劳动力素质高
 - C. 制琴产业基础好
 - D. 政府政策支持
2. 确山提琴企业为其他著名提琴厂商代加工提琴的主导优势是
 - A. 影响深远的国际知名度
 - B. 丰富优质的原料生产
 - C. 精雕细琢的工匠精神
 - D. 稳固密切的产业协作
3. 为进一步提高确山提琴的市场竞争力，当地企业应致力于
 - A. 降低生产成本
 - B. 降低产品价格
 - C. 扩大生产规模
 - D. 加大文化创新

海面空气发生平流运动时，若海面温度和气温之间存在的温度差异导致大气底部水汽达到饱和状态，就会形成平流雾。平流雾根据海面温度和气温之间的差异一般划分为蒸发雾和冷却雾。渤海海域夏季海雾多发，严重影响沿海工农业生产和交通运输安全。图 1 为 1998~2018 年渤海海面夏季平均水温分布图，表 1 为甲海区不同季节雾日的海—气温差条件统计表。据此完成 4~6 题。

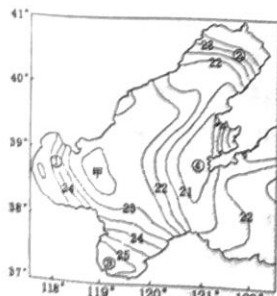


图 1

表 1 (表中百分比代表海雾发生的比例)

	春季	夏季	秋季	冬季	合计
海温大于气温(%)	14.1	10.6	17.6	16.9	59.2
海温小于气温(%)	15.5	7.0	3.5	13.4	39.4
海温等于气温(%)	0	1.4	0	0	1.4

4. 夏季，影响该海域水温分布的主要因素是
 - A. 纬度位置
 - B. 海陆分布
 - C. 大气降水
 - D. 陆地径流
5. 甲海区的海雾大多
 - A. 出现在较冷海面上，属于冷却雾
 - B. 出现在较冷海面上，属于蒸发雾
 - C. 出现在较暖海面上，属于冷却雾
 - D. 出现在较暖海面上，属于蒸发雾
6. 夏季最易出现冷却雾的海域是
 - A. ①
 - B. ②
 - C. ③
 - D. ④

垄作是指在高于地面的土上栽种作物的耕作方式。垄由高凸的垄台和低凹的垄沟组成。起垄栽培的种植方法可以有效地改良土壤特性并改善各种作物的水肥生长环境。黄河古道地区桃树栽培历史悠久，过去多采用平地栽培技术，桃树根部病害严重，经常出现树体衰弱甚至死亡的现象。当地农民采用起垄栽培的方法后，有效地改善桃树的生长环境，桃树增产显著。近年来，当地积极推广垄沟种草模式，即种草后每年收割多次，收割后的枯草覆盖在垄台上，秋后耕翻。垄沟种草模式的推广，当地果园实现了优质、丰产、高效的目标。图 2 为黄河古道桃树垄作景观图。据此完成 7~8 题。



图 2

7. 黄河古道地区采用起垄栽培技术后，桃树根部病虫害减少的主要原因是
 - A. 果树采光条件增强
 - B. 土壤湿度增加
 - C. 林间通风条件改善
 - D. 土壤透气性提高
8. 垄沟种草模式对垄台的主要作用是
 - A. 提高土地利用效率
 - B. 增加土壤温度
 - C. 减少水分蒸发
 - D. 降低土壤肥力

川东平行岭谷(图3)由三十多条东北—西南走向的山脉和谷地构成,是世界褶皱山系的典型代表。重庆是世界上唯一建在平行岭谷的大城市,主城区位于多条平行山岭间的向斜谷地中。岭谷相间的地形对本区交通建设和城市布局影响较大。据此完成9~11题。

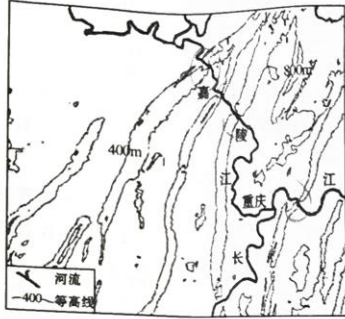


图3

9. 河流通常沿山谷流动,流向与山脉平行。嘉陵江却连续切穿多列平行山脉,其原因可能是

- A. 河流溯源侵蚀切穿山脉
B. 河流随山脉隆起下切侵蚀
C. 背斜顶部侵蚀成河
D. 向斜谷地发育成河

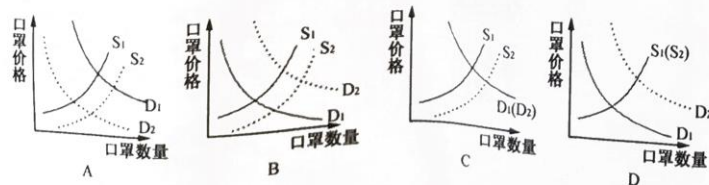
10. 平行岭谷区现代交通线路布局 and 建设的突出特点是

- A. 南北向交通线路等级较高
B. 东西向交通线路运速较慢
C. 南北向交通线路造价较低
D. 东西向交通线路密度较大

11. 与武汉相比,重庆冬季和夏季气温均较高,其主要影响因素是

- A. 纬度位置
B. 城区水域面积
C. 地形条件
D. 城市空间结构

12. 新冠肺炎疫情暴发后,口罩需求量激增,线上线下都“一罩难求”。国家发改委等三部门联合印发了《关于发挥政府储备作用支持应对疫情紧缺物资增产增供的通知》,全国3000多家企业紧急申请审批资质,改造生产线,跨界转产口罩。 D_1 、 D_2 分别是变化前后的需求曲线, S_1 、 S_2 分别是变化前后的供给曲线,假设其他条件不变,能正确反映上述现象的图示是



13. 2020年4月3日,郑州市政府发放消费券100万份,每人限领一份(一份有5张消费券,包含2张5元、2张10元、1张20元)。消费券限在郑州市线下实体店使用,同一用户在同一商户每天最多可使用2张消费券,每笔消费限用1张。消费券使用规定旨在

- ①促进商品流通,降低交易成本
②增加消费频次,扩大消费总量
③鼓励超前消费,提高消费质量
④激发消费欲望,释放消费潜力

A. ①②

B. ①③

C. ②④

D. ③④

14. 2020年2月,人力资源社会保障部、财政部和税务总局联合印发《关于阶段性减免企业社会保险费的通知》。该通知要求各省结合当地疫情情况,按照规定的减免范围和减免时限执行,确保企业社会保险费减免等政策措施落实到位。阶段性减免企业社会保险费是为了

- ①缓解企业融资困难,提高融资能力
②减轻企业缴费负担,缓解经营压力
③推动企业复工复产,促进稳定就业
④降低企业用人成本,提高盈利水平

A. ①②

B. ①④

C. ②③

D. ③④

15. 下表是我国2019年全年对外贸易的相关数据。(其中增速是与2018年相比,数据来源于国家统计局)

指标	出口额(亿元)	增速(%)	进口额(亿元)	增速(%)
一般贸易	99546	7.8	86599	3.1
加工贸易	50729	-3.7	28778	-7.4
机电产品	100631	4.4	62596	-1.8
高新技术产品	50427	2.1	43978	-0.8
服务贸易	19564	8.9	34589	-0.4

从表中可以推断出我国

- ①对外贸易结构继续优化,对外贸易稳中提质
②一般贸易增速放缓,一般贸易顺差有所减少
③不断优化营商环境,利用外资规模继续扩大
④服务贸易出口稳步增长,服务贸易逆差收窄

A. ①②

B. ①④

C. ②③

D. ③④

16. 2020年4月14日,中共中央办公厅印发《关于持续解决困扰基层的形式主义问题为决胜全面建成小康社会提供坚强作风保证的通知》。该通知提出,要着力解决困扰基层的形式主义问题,让基层干部轻装上阵,进一步向基层放权赋能,推动更多社会资源、管理权限和民生服务下放到基层,人力物力财力投放到基层。上述规定旨在

- ①让基层干部有更多时间和精力抓落实 ②减轻基层管理机构应该承担的责任
③推动基层治理体系和治理能力现代化 ④降低对基层干部的工作标准和要求
A. ①③ B. ①④ C. ②③ D. ②④

17. “直过民族”是指新中国成立后,直接由原始社会跨越到社会主义社会的民族,其贫困程度更深,贫困原因也更复杂。作为我国“直过民族”主要的聚居区,云南省创新实践脱贫攻坚模式,坚持一族一策、一族一帮,推动独龙族等多个“直过民族”整族脱贫,进而实现社会形态和物质形态两个“千年跨越”。云南省的做法

- ①坚持了各民族平等团结互助和谐的基本原则
②有利于各民族共同发展、共同富裕、共同繁荣
③落实了我国民族政策,体现社会主义制度优越性
④是民族自治地方自主管理政治、经济的重要举措
A. ①③ B. ①④ C. ②③ D. ②④

18. 面对新冠疫情在各国多点暴发的严峻形势,各国应加强团结与合作,共克时艰。中国作为人类命运共同体理念的倡议者和践行者,坚守道义、尽己所能,向 82 个国家和国际组织提供人员物资援助、分享抗疫经验。这说明

- ①中国在全球抗疫中发挥着负责任大国的作用
②全球抗疫推动世界各国形成了紧密利益同盟
③中国在国际事务中已真正拥有了话语主导权
④各国共克时艰有利于维护国家间的共同利益
A. ①② B. ①④ C. ②③ D. ③④

19. 2020 年 5 月 7 日,经考古勘探发掘和科学测年确认,位于河南巩义的双槐树遗址性质为 5300 年前后黄河流域仰韶文化中晚期的一处都邑遗址,被专家学者称为“早期中华文明的胚胎”。该遗址因位于河洛中心区域而被命名为“河洛古国”。这一重大考古发现表明

- ①生生不息的中华文化从古至今一直走在世界前列
②双槐树遗址是探寻黄河流域文明起源的一把钥匙
③发源于黄河流域的中华文明兼收并蓄,博采众长
④双槐树遗址是中华民族历史文化成就的重要表现
A. ①② B. ①③ C. ②④ D. ③④

20. 习总书记在秦岭考察时强调,秦岭违建别墅暴露的不仅是自然生态问题,还有政治生态问题。要自觉讲政治,对国之大者要心中有数,关注党中央在关心什么、强调什么,深刻领会什么是党和国家最重要的利益、什么是最需要坚定维护的立场,切实把增强“四个意识”、坚定“四个自信”、做到“两个维护”落到行动上,不能只停留在口号上。这给我们的哲学启示是

- ①坚持把党中央重要决定作为我们一切工作的出发点
②把“四个意识”作为评判工作得失的最高价值标准
③坚持把党中央的精神要求与具体的工作实际相结合
④保护生态环境要坚持主观与客观具体的历史的统一
A. ①② B. ①④ C. ②③ D. ③④

21. 毛乌素沙漠原本是以“水草肥美,群羊塞道”著称的塞外明珠,但是人类不加节制的开垦导致牧场沙化、盐渍化、退化严重。新中国成立后,当地群众利用相对丰富的降水量和温和的气候条件,几十年如一日,战天斗地、治沙造林,让 860 万亩流动沙区逐渐变绿。当地成功实现从“沙进人退”到“人进沙退”的转变印证了

- ①积极发挥人的主观能动性促进矛盾双方的转化
②战天斗地精神是创造人为事物联系的基础和前提
③改造客观世界要求我们一切以时间、地点、条件为转移
④把握脱离同一的斗争性才能推动事物运动变化与发展
A. ①③ B. ①④ C. ②③ D. ②④

22. 人类认知珠峰的历史在某种程度上是一部测绘史。1975 年,中国登山队在顶峰竖起了测量觇标,测得珠峰高度为 8848.13 米;2005 年,中国采用 GPS 测量系统、冰雪深雷达探测仪等技术手段,测得珠峰准确高度为海拔 8844.43 米;2020 年 5 月 6 日,珠峰高程测量登山队携带全球卫星导航系统、重力仪等设备开启珠峰高程登顶测量。中国的珠峰测量史证明了

- ①科学技术的进步推动人类认识的发展
②谬误的存在是认识反复性的根本原因
③在实践中检验和发展真理是人类永恒使命
④科学技术的进步能够使认识超越客观条件
A. ①② B. ①③ C. ②④ D. ③④

23. 64 年前,交通大学师生员工从黄浦江畔迁至渭水之滨,毅然决然投身祖国的西部建设。在筚路蓝缕、艰苦奋斗的历程中,西安交大人形成了“胸怀大局、无私奉献、弘扬传统、艰苦创业”的“西迁精神”。“西迁精神”的形成体现的历史唯物主义道理是

- ①先进的社会意识能够促进社会存在的发展
②社会意识归根到底都是对社会存在的反映
③社会意识会独立于社会存在而不断向前发展
④有什么样的社会存在就有什么样的社会意识
A. ①③ B. ①④ C. ②③ D. ②④

24. 周初,封成王之弟唐叔于晋,要求“启以夏政,疆以戎索”。即沿用夏朝的政治执国,用戎人的制度来区划土地。这一举措意在
- A. 强化专制统治 B. 加强中央集权
C. 促进文化交流 D. 巩固周朝统治
25. 唐朝时,面对考生众多而又要选拔人才的情况,主考官专挑那些生僻、容易混淆的偏题、怪题进行考查。“今之明经者,主司不详其述作之意,每至帖试,必取年头尾月,孤经绝句”。据此可知,当时的帖经考试
- A. 提高了参加科举的门槛 B. 降低了科举选才的公平性
C. 影响了人才选拔的效度 D. 加深了考生对经典的理解
26. 宋史专家漆侠指出,我国古代城市往往随着政治军事中心的转移而表现出它的盛衰。北宋灭亡,汴京也随之而萧然一空;南宋灭亡,临安也失去了往昔的光彩和繁华。这说明
- A. 城市发展受制于政治因素 B. 城市的经济职能薄弱
C. 两宋时期城市的发展缓慢 D. 古代城市发展不稳定
27. 古代东亚,形成了以中国为中心的“万国来朝”“天下共主”的国际秩序模式,称为朝贡体系。鸦片战争后,西方国家强迫清政府签订一系列条约,在中国建立起新的中外关系模式,即条约体系。这两种关系体系
- A. 体现了世界政治经济中心的转移 B. 反映了平等与奴役的外交关系
C. 体现王道与霸道外交观念的差异 D. 是当时的国际秩序的合理体现
28. 梁启超曾说:“在三十年前(1898 年左右),……《明夷待访录》实为刺激青年最有力之兴奋剂,我自己的政治运动,可以说受这部书最早而深刻。”又说:“晚清思想之解放,(龚)自珍确与有功焉。……初读《定庵文集》,若受电然。”谭嗣同也说:“国初三大儒,船山先生纯是兴民权之微旨。”由此可知
- A. 黄宗羲的主张对以后反专制斗争起了积极的作用
B. 中国传统文化也是近代中国思想解放潮流的渊源
C. 黄、龚等人的主张使我国传统文化重新焕发生机
D. 黄、龚等人的主张成为戊戌变法重要的指导思想
29. 1926 年 12 月,毛泽东在湖南全省第一次农民代表大会上说:“农民问题只有经济意义。我们只想减租,不想夺取地主土地。”后来,中共土地委员会决定“只没收大地主的土地,不触动小地主和军人的土地。”这些做法
- A. 助长了国民大革命中的右倾错误 B. 壮大了反抗国民党政府的力量
C. 顺应了资产阶级民主革命的要求 D. 适应了社会主义革命形势的需要
30. 1937 年淞沪会战中,蒋介石亲任第三战区军事指挥官,以极大的决心和力量组织,

指挥这场大规模战役,“以扫荡上海敌军根据地之目的,实行攻势作战,保护经济命脉,巩固首都,同时激励国人斗志,以新国际观感”。据此可知,淞沪会战

- A. 体现了国共合作抗日的精神
B. 标志抗日战争进入相持阶段
C. 是国民政府在正面战场组织的积极抗战
D. 粉碎了日军速战速决灭亡中国的企图
31. 古希腊时期,戏剧家埃斯库罗斯的《波斯人》描写的是雅典人在萨拉米海战中战胜波斯人的情景。阿里斯托芬的《阿卡奈人》则表达了作者对雅典同伯罗奔尼撒同盟之间战争的态度。这反映古希腊
- A. 戏剧适应城邦政治需要 B. 战争题材成为戏剧的主流
C. 民主制度影响戏剧创作 D. 人文主义产生于戏剧作品
32. 有学者指出,被认为近代落后的地区并不是因为在开发上落后而没有得到发展,而是在以欧洲为中心的资本主义确立的过程中遭遇了低开发。也就是说,这些地区被强制性地让自己原本的社会形式变成成为适应资本主义的形式。据此可知,近代欧洲殖民者
- A. 对外输出本国落后的生产方式 B. 客观上推动了落后地区社会发展
C. 在落后地区强制推行资本主义 D. 将亚非拉纳入本国经济发展轨道
33. 英国责任制内阁确立后的很长一段时期,胜选党派组阁,政府官职就由该党成员担任。1850 年进行了文官制度改革,规定负责具体行政事务的官员不得参选议员,不能介入党派活动。这种变化说明
- A. 政府被议会操控阻碍民主政治发展
B. 文官制度是英国政治民主的根本动力
C. 改革目的是保证政府施政的独立性
D. 责任内阁制并不具备分权制衡的特征
34. 在布雷顿森林会议上,英国外交官对英国代表团主要成员凯恩斯低声耳语:“他们是有钱袋子,但是我们有的是脑瓜子。”这表明
- A. 英国不甘心世界经济中心的转移 B. 美国需要采纳英国的方案
C. 美国尚不熟悉国际经济运营体系 D. 美英两国结成了利益共同体
35. “当法国革命使这个理性的社会 and 这个理性的国家成为现实的时候……理性国家完全破产了……早先许下的永久和平变成了一场无休止的掠夺战争”。与材料中艺术风格相似的文学作品是
- A. 《解放了的普罗米修斯》 B. 《老人与海》
C. 《自由引导人民》 D. 《人间喜剧》

第Ⅱ卷

本卷包括必考题和选考题两部分。第36题至第41题为必考题，每个试题考生都必须作答。第42题至第46题为选考题，考生根据需求作答。

36. 阅读图文资料，完成下列要求。(22分)

极地汽车多指改装后适合在极寒条件下驾驶的汽车类型。几乎世界上所有研发制造极地汽车的厂家都集中在靠近北极圈的地方，其中冰岛(图4)最为普遍。冰岛人口约34万，是欧洲人口密度最小的国家，岛内可再生能源充足，但化石能源短缺。丰田汽车公司是最早在冰岛投资建厂的汽车企业之一，投产后发现利润空间很小。1990年，冰岛丰田公司成立了改装部门——丰田配件(后改名为北极卡车)，利用冰岛得天独厚的车辆性能试验条件，致力于汽车改装技术的研究，专门研制适应特定环境下行驶要求的零部件并进行极地汽车改装，改装后的极地汽车轮胎具有直径大、胎面宽的特点。2005年，北极卡车从冰岛丰田公司独立出来并很快发展成为全球最知名的极地汽车改装公司。2008年北极卡车公司开始提供极地自驾游、科考探险保障服务。2010年北极卡车完整穿越南极版图，其耐用性以及可靠性被所有南极科考队信任。

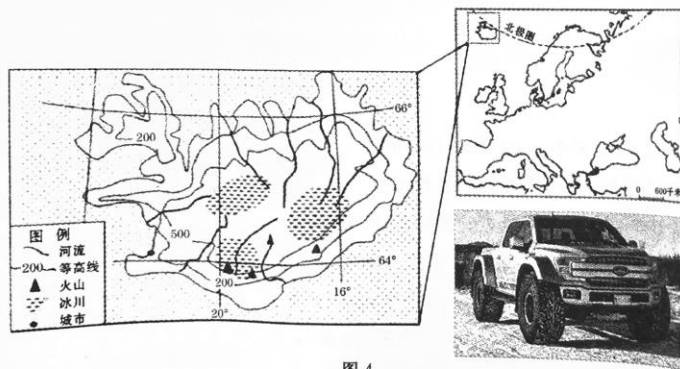


图4

- (1) 分析冰岛丰田公司早期利润空间小的主要原因。(6分)
- (2) 说明大量研发改装制造极地汽车的厂家在冰岛集聚的好处。(6分)
- (3) 分析极地汽车轮胎直径大、胎面宽的主要原因。(4分)
- (4) 简述推出极地自驾游、科考服务对北极卡车公司发展的促进作用。(6分)

37. 阅读图文资料，完成下列要求。(24分)

黄河宁夏河段(图5)是指宁夏夏下河沿至内蒙古头道拐河段，由宁夏段(下河沿—石嘴山)和内蒙古段(石嘴山—头道拐)两部分组成。近20年来，该河段是黄河淤积最严重、洪涝灾害最频发的河段。1961~1986年，黄河上游先后建成盐锅峡、三盛公、青铜峡、刘家峡、龙羊峡等大型水利工程，极大地改变宁夏河段来水来沙特点，河段的冲淤量(河段冲淤量是输入沙量与输出沙量的差值)及排洪能力发生了明显变化，在冲积性河段上出现了不同程度河道萎缩现象。加上凌汛的影响，宁夏河段水患问题严重。当前，计划在宁夏河段起始段建设大柳树水利枢纽，对宁夏河段进行综合调控。图6为不同时期黄河宁夏河段汛期日流量过程变化示意图。

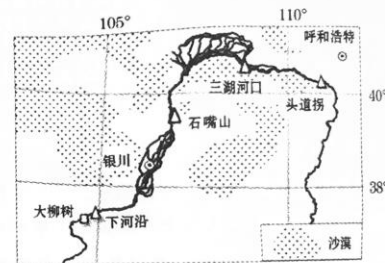


图5

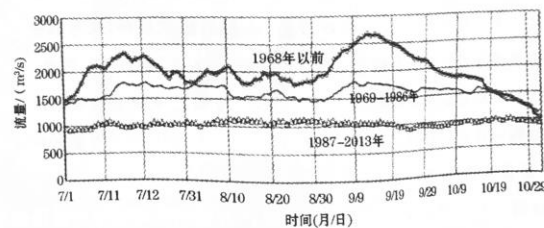


图6

- (1) 分析黄河上游大型水利工程的运行对宁夏河段水量的影响。(6分)
- (2) 与宁夏段相比，内蒙古三湖河口—头道拐段冲淤量更大，分析其主要原因。(8分)
- (3) 分析冲淤量变大对宁夏河段河道形态及防汛的影响。(6分)
- (4) 说明大柳树水利枢纽对防治宁夏河段水患的积极作用。(4分)

38. 阅读材料,完成下列要求。(26分)

一场突如其来的新冠肺炎疫情对我国经济社会各方面产生了不同程度影响。统筹做好疫情防控和经济社会发展,既是一次大战,也是一次大考。

材料一 疫情发生以来,党中央提出坚定信心、同舟共济、科学防治、精准施策的总要求,在党中央统一指挥、统一协调、统一调度下,建立对口支援机制,迅速汇聚来自全国各地的建设力量、建设物资,抽调大量医护人员奔赴抗疫前线,为战胜疫情奠定了坚实基础。坚持运用法治思维和法治方式开展疫情防控工作,从立法、执法、司法、守法各环节发力,全面提高依法防控、依法治理能力,为疫情防控工作提供有力法治保障。全国动员、全民参与,联防联控、群防群治,构筑起最严密的防控体系,凝聚起坚不可摧的强大力量。各级党委和政府认真贯彻落实党中央决策部署,一方面做好疫情防控工作,一方面组织推动各类生产企业复工复产。这充分展示了我们党维护好人民群众生命安全和身体健康的坚定决心,彰显了我国国家制度和国家治理体系的显著优势。

材料二 2020年4月17日,中央政治局会议提出了要保产业链供应链稳定。产业链供应链的维系是恢复经济社会秩序的重要标志,也是巩固中国制造竞争优势、把握未来发展主动权的需要。保持产业链供应链稳定,一是全产业链复工复产率方面下功夫,摸清上下游哪个环节有问题、难在哪里,疏通相关堵点,在用工、原材料、物流运输等方面做好保障;二是在产能恢复率方面花力气,瞄准企业最关心、最直接、最现实的问题,出台精准有效的解决办法,全面提升复工复产的质量;三是加强部门间、地区间协调联动,统筹推进工业、农业、服务业复工复产,畅通经济社会循环。此外,还要抓住战略机遇,加快5G网络、数据中心等新型基础设施建设,切实解决制造业发展过程中的难题,增强产业链供应链的灵活性。

(1)结合材料一并运用政治生活知识,分析我国抗击疫情的过程是如何体现国家制度和国家治理体系显著优势的。(12分)

(2)结合材料二并运用经济生活知识,分析保产业链供应链稳定对我国经济发展的重要意义。(14分)

39. 阅读材料,完成下列要求。(26分)

劳动是成功的必由之路、创造价值的源泉。劳动教育是中国特色社会主义教育制度的重要内容,劳动教育具有树德、增智、强体、育美的综合育人价值。

热爱劳动是中华民族的优秀文化基因。《孟子》中就有“后稷教民稼穡,树艺五谷;五谷熟而民人育”的记载。长期以来,各地区和学校坚持教育与生产劳动相结合,在实践育人方面取得了一定成效。同时也要看到,近年来一些青少年中出现了不珍惜劳动成果、不想劳

动、不会劳动的现象,劳动的独特育人价值在一定程度上被忽视,劳动教育正被淡化、弱化。广大青少年是社会主义的建设者和接班人,要推动他们从小崇尚劳动、尊重劳动。南京农大实验小学的后山有近700平方米梯田,每年升入四年级的学生就成为它的“主人”,开展一年的种植体验活动。从整理土地到播种浇水、除草除虫直至收获,学生经历了完整的种植过程;为计算面积,他们根据测量的数据,画出示意图,请教数学老师;发现虫害,请教科学老师和治虫专家,选择危害最小的方法除虫;为保证最大的收益,还要一边种植管理,一边核算成本。同时对“谁知盘中餐,粒粒皆辛苦”有了深刻的认识,对自己地里收获的蔬菜、水果,发自内心的珍惜。他们在分享劳动成果时真正体味到劳动的意义和价值,感受到劳动带来的快乐,也使他们懂得劳动最光荣、劳动最崇高、劳动最伟大、劳动最美丽的道理,长大后能够辛勤劳动、诚实劳动、创造性劳动,用劳动之手创造幸福生活。

(1)结合材料并运用文化生活知识,说明开展劳动教育对培养时代新人的积极作用。

(10分)

(2)有些人认为,学生在校开展劳动实践可有可无,读书学习才是获得知识的根本途径。运用认识论知识对此观点加以评析。(10分)

(3)针对不同学段、类型学生特点,请就如何把劳动教育纳入人才培养全过程,贯通大中小学各学段提出三条可行性建议。(6分)

40. 阅读材料,完成下列问题。(25分)

材料一:儒家将周代礼乐文化提升为礼义文化,它超越古代宗教,又不反对宗教,在宗教问题上持中庸态度。孔子“敬鬼神而远之”的命题即儒家人文理性宗教观的典型命题。儒家认为,“祭思敬,丧思哀”,宗教祭祀的意义主要在纪念天与祖给予人们的恩惠,使人不忘根本,表达思念报恩之情,至于天神祖灵是否真有,并不重要。关于宗教祭祀,《论语》中曾说:“慎终追远,民德归厚矣”。《易传》提出“神道设教”的观点,这就是宗教的社会道德功能,或者“道德宗教”的思想。儒家把神道看成入道的组成部分,是成就人生的要素。神道的目的在于完善和加强人道,如果有害于人道,那么神道便失去其本来意义。

——摘编自牟钟鉴《中国古代的民族观与宗教观》

材料二:文艺复兴时期,人文主义者不仅研究古希腊罗马的思想文化,也研究教父哲学和早期基督教教义。他们批判基督教的精神独裁,但并不否定神学,有的还竭力将古典学术研究与教会神学相调和。他们注重世俗生活,却不反对信仰上帝,宣扬个性自由,同时又承认天命。作为最早的人文主义者,宗教信仰和宗教虔诚在彼特拉克的思想和著作中始终居于核心地位。但丁的《神曲》既表达了要求理智解放和情感自由的感情,又充满了浓厚的宗

教气氛。蒙田对待基督教的态度是我生是其人，死是其鬼。这些突出反映了人文主义者宗教观念的矛盾性和复杂性。

——摘编自陈绘绘《试论文艺复兴时期人文主义者宗教观》

- (1) 根据材料一并结合所学知识，概括古代中国儒家宗教观的特点及其影响。(12分)
- (2) 根据材料二并结合所学知识，指出文艺复兴时期宗教观的表现及其形成的原因。(13分)

41. 阅读材料，完成下列要求。(12分)

材料：历史是一条长河，永远向前流动。在历史的潮流里，转型期是一个瓶颈，是个“三峡”。近一个半世纪中国变乱的性质，就是两千年一遇的“社会文化大转型”现象，其间死人如麻，痛苦之极。不过，不论时间长短，历史“三峡”终必有通过一日。

搞一个国家、一个社会的“质变”，……也非一人一代，便可“毕其功于一役”的突变。它是“缓慢”的，经验“累积”的，分“阶段”前进的“渐变”。

它（中国固有文化）要经过一个痛苦的西式“现代化”的洗刷，才能属于转型期以后的次一形态或现代形态。我国固有文明里的道德标准、价值观念、孔孟之道、四维八德……无一不需“现代化”的处理始能适应于次一形态的社会。

所谓“西方文明”，非本质优于我“东方文明”也。近300年来西风之所以能压倒东风者，（由于）他们通过这个“现代化程序”，早于我们300年。

——摘编自唐德刚《从晚清到民国》

请评析材料中的观点（任意一点或整体），得出结论。（要求：不能重复材料中观点，持论有据，论证充分，表述清晰。）

请考生在第42、43两道地理题中任选一题作答，如果多做，则按所做的第一题计分。作答时用2B铅笔在答题卡上把所选题目的题号涂黑。

42. [地理——选修3：旅游地理](10分)

“云旅游”主要是指用户通过与“远方”的实时互动，听取视频或直播中的专业讲解，从而获得自己在线下自由行或跟团游时很难了解到的故事，或者去体验在线下不敢体验的玩乐项目等一种全新的旅游形式。不少景区和博物馆纷纷推出了VR旅游以及在线游览的“云旅游”模式。2020年4月5日，故宫博物院在某直播平台开启“云游故宫”直播，利用移动拍摄、VR沉浸式体验等全新手法传播实景，吸引了超过966万网友。除“云游故宫”之外，用

高三文综试题卷 第13页（共16页）

户还可以进入数字文物库查看馆藏5万多套文物，而在数字多宝阁里，则能观赏3D扫描的故宫展品。此外，融合“主播讲解+文化讲解+直播带货”的“云旅游电商直播”，同样成为其他各大博物馆的全新选择。网友们在博物馆讲解员幽默诙谐又极具专业性的直播讲解下“秒懂”文物背后蕴含着的文化与知识，进而对博物馆产生了浓厚的兴趣，并在其电商平台官方旗舰店购买相应的文创商品。

简述与传统旅游方式相比，故宫博物院推广“云旅游”模式的好处。

43. [地理——选修6：环境保护](10分)

扶南潮(图7)位于韩国中西部忠清南道，湖口与浅海湾连接。上世纪70年代，为减轻潮水对扶南潮沿岸的影响，当地政府修建了众多防波堤，并进行围海造田。扶南潮开发造成湖水污染严重等问题。从2007年开始，政府每年投入110亿韩元资金改善水质。2019年当地开始推进还田于海工程，拆除扶南潮防波堤的一部分，让海水流入，以恢复海滩、沿岸和河口的生态环境。



图7

分析修建防波堤后扶南湖水污染严重的主要原因，并说明还田于海等工程建设对生态建设的启示。

牛家长

请考生在第 44、45、46 三道历史题中任选一题作答,如果多做,则按所做的第一题计分。作答时用 2B 铅笔在答题卡上把所做题目的题号涂黑。

44.【历史上重大改革回眸】(15 分)

材料:宋理宗亲政前,权相史弥远独揽朝政 17 年,对外向金屈服妥协,对内招权纳贿,货赂公行。滥发纸币,导致物价飞涨,民不聊生。与此同时蒙古的崛起及其势力的南渐,对南宋的威胁越来越大。宋理宗亲政后宣称“务革前弊”,于端平到淳祐年间(1234—1252 年),推行了一系列举措试图加强个人权威,扭转颓势。政治上,继续提升皇帝对朝政的控制。任命台谏达四十余人,打破台谏一直被宰相所控制的局面。进一步提升官吏质量,控制冗员,严格升迁。经济上,整顿财政,减发纸币,恢复货币信用。节约开支,宰相带头减薪,减少宫廷宴会,将财政开支情况作为官员考核标准。思想上,将理学列为“正学之宗”,他本人也因“以圣性崇尚理学”庙号定为“理宗”。这场名为端平更化的改革使南宋后期黑暗的朝廷出现了一丝光芒,朝廷网罗了大量的理学人才,一时间人才济济。但改革措施只是及表而难入里,其中盐政改革频繁调整收效甚微,公田法落实过程中激起官僚和百姓的强烈不满。淳祐后期佞臣当道,使得朝政日益衰败,南宋朝廷不可避免地走向灭亡之路。

——摘编自洪吉《简论宋理宗的财政改革》

- (1)根据材料并结合所学知识,概括宋理宗端平更化的特点。(6 分)
- (2)根据材料并结合所学知识,对宋理宗端平更化进行简要评价。(9 分)

45.【历史——选修 3:20 世纪的战争与和平】(15 分)

材料:1918 年,一场突如其来的大流感席卷美国,并向世界各地蔓延,与正在进行的世界大战相互影响,造成约 5000 万至 1 亿人死亡。借战争的主导作用,成千上万的军舰、商船、列车,运载着军队、物质资源和致命的病毒,在各大洲各大洋上穿梭;庞大的战争机器让各个国家的生产围绕战时军需品而进行,大量工人涌入城市,带来城市卫生条件糟糕、管理混乱等问题。每个参战国家都将战争放在首位,忽视疾病宣传,如《伦敦时报》认为流感是德国人的阴谋,是因为营养不良、厌战情绪。战争期间,印度等殖民地也被卷入战争,其人力资源、物力资源被战争抽走,物资匮乏与流感交织在一起,使平民死亡率大大增加。流感病人带走了远征军中成千上万的健康的士兵,使火车、战地医院拥挤不堪,流感病人消耗着军队的各种资源。很多城市如德国法兰克福濒临崩溃,到处是饥饿与不满,人们要和平、面包、自由。

——摘编自王叶英《1918 年大流感和第次世界大战》

- (1)根据材料并结合所学知识,概括“大流感”在一战期间流行的原因。(6 分)
- (2)根据材料并结合所学知识,简析“大流感”对一战的影响。(9 分)

46.【历史——选修 4:中外历史人物评说】(15 分)

材料:郗鉴(269—339),高平金乡人,汉献帝时御史大夫郗虑玄孙。洛阳沦陷后,郗鉴与宗族乡党千余家保据峰山,三年,众至数万。以后,郗鉴被石勒(羯族后赵政权建立者)侵逼,始辗转南移,并在此后,跻身于江左门阀,高平郗氏成为第一流侨姓士族。太宁元年,郗鉴与帝谋灭王敦,翌年,王敦复反,鉴折冲于朝廷与流民帅之间,议召峻与刘遐入援,乱事悉平。时王导辅政,主幼时艰,务存大纲,不拘细目,委任赵胤、贾宁等诸将,大臣患之。鉴两次不同意虚黜王导,杜绝觊觎,以稳定一个抗胡政权,使人民生存。鉴以兖州刺史经营京口,终晋之世,京口曾是几次北伐出兵之地,而北方胡骑进攻广陵、京口之例,却一次也没有。王夫之《读通鉴论》卷十三曰:“东晋之臣,可胜任大臣之任者,其为郗公乎!”

——摘编自田余庆《东晋门阀政治》

- (1)根据材料并结合所学知识,分析高平郗氏成为第一流侨姓士族的时代背景。(9 分)
- (2)根据材料并结合所学知识,指出郗鉴的主要历史功绩。(6 分)



每个牛孩身后都有一个牛家长。