

文科综合

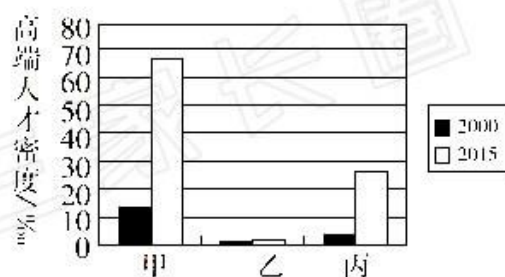
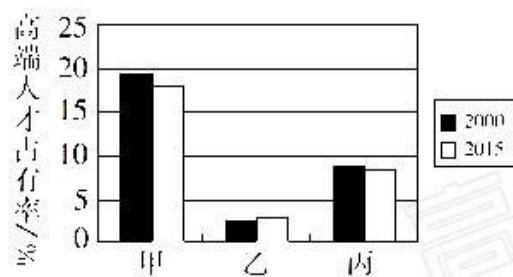
第Ⅰ卷 (选择题 共140分)

本卷共35小题,每小题4分,共140分。在每小题给出的四个选项中,只有一项是符合题目要求的。

装配式建筑是将建筑的部分或全部构件在构件预制工厂生产完成,然后运到施工现场,将构件组装而成的具备使用功能的建筑物。未来中国装配式建筑市场产值将超过2万亿元。欧洲装配式建筑市场占全球装配式建筑市场的25.5%,并且逐年增长,近年来欧洲国家越来越多地从中国采购装配式建筑。据此完成1~3题。

- 与传统建筑施工方式相比,装配式建筑施工方式
 - 使用的建筑材料增多
 - 增大了工人的劳动强度
 - 缩短了建筑施工周期
 - 增加了现场建筑废弃物
- 欧洲国家越来越多地从中国采购装配式建筑的主要原因是
 - 欧洲劳动力成本高
 - 中国装配式建筑市场庞大
 - 中国构件价格极低
 - 欧洲国家工业基础较薄弱
- 下列建筑中,最适宜建设装配式的是
 - 黄土高原窑洞建设
 - 非洲贫民窟改造
 - 江南古典园林修复
 - 北极科考站建设

高端人才占有率,指的是一个地区高端人才占全国高端人才总量的比重。高端人才密度是指在一个区域内,每千名6岁以上人口中所拥有的高端人才数量。下图示意2000~2015年河南、北京、上海三省市的高端人才占有率和人才密度及变化情况。据此完成4~6题。



- 甲、乙、丙依次表示
 - 北京、上海、河南
 - 北京、河南、上海
 - 河南、北京、上海
 - 上海、河南、北京
- 明显受益于甲省市劳动力结构的行业是
 - 纺织业
 - 对外贸易
 - 人工智能
 - 体育会展

6. 2000~2015 年三省市高端人才密度变化的最主要原因是

- A. 实施人才引进战略
B. 高等教育的发展
C. 高新技术产业的发展
D. 交通条件的改善

我国古人把十二个月中的太阳升落方向用一首歌诀来概括,这首歌诀就是《定太阳出没歌》。其中一句是“五月出艮归乾上,仲冬出巽没坤方。”歌诀中的月份为阴历月。右图为后天八卦图。据此完成 7~8 题。



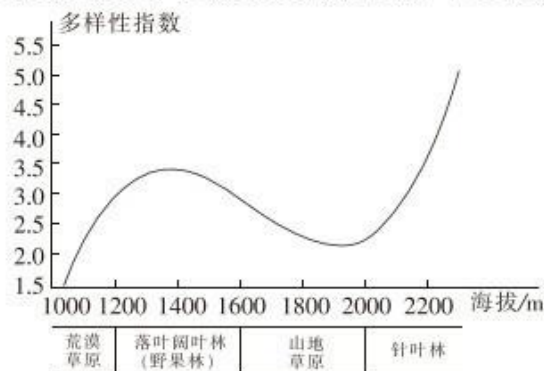
7. 表示正南的宫位是

- A. 震
B. 兑
C. 坎
D. 离

8. 当太阳从震宫方向升起、兑宫方向落下时

- A. 全球各地昼夜等长
B. 青海湖畔油菜花开
C. 挪威北部出现极昼
D. 东北平原冰天雪地

下图示意我国某河谷北坡植物多样性指数随海拔的分布变化。据此完成 9~11 题。



9. 该河谷可能为

- A. 汾河谷地
B. 汉水谷地
C. 雅鲁藏布江大峡谷
D. 伊犁河谷

10. 该河谷海拔 1200 m 以下, 植物多样性的限制性因素主要是

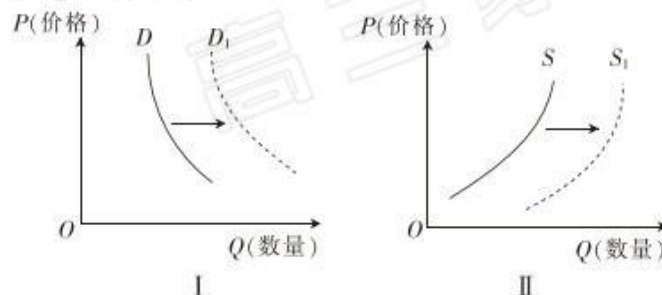
- A. 水分
B. 热量
C. 土壤
D. 坡度

11. 与野果林相比, 山地草原

- ①年均温较高 ②光照较弱 ③土壤有机质分解较慢 ④群落生产力较低

- A. ①②
B. ③④
C. ②③
D. ①④

12. 用 P 表示商品的价格, 用 Q 表示商品的数量, S 、 D 分别表示供给曲线和需求曲线。不考虑其他因素, 下列选项描述正确的有



- ①煤炭价格下降, 引起天然气的需求变动符合图 I ②某品牌打印机价格下降, 引起其专用墨盒的需求变动符合图 I ③大蒜价格上涨, 引起菜农种植大蒜规模的变动符合图 II ④进口关税下调, 我国进口外国商品的数量变动符合图 II

- A. ①③
B. ①④
C. ②③
D. ②④

13. 2019年11月,国家发改委等15部门联合印发的《关于推动先进制造业和现代服务业深度融合发展的实施意见》提出,推进建设智能工厂。大力发展智能化解决方案服务,深化新一代信息技术、人工智能等应用,实现数据跨系统采集、传输、分析、应用。实施上述举措旨在
- ①强化创新驱动,培育现代产业体系 ②提高生产效率,降低单位商品价格 ③优化生产流程,提高供给体系质量 ④扩大生产规模,增加企业市场份额
- A. ①③ B. ①④ C. ②③ D. ②④
14. 《中共中央 国务院关于保持土地承包关系稳定并长久不变的意见》指出,要准确把握“长久不变”政策内涵,保持土地集体所有、家庭承包经营的基本制度长久不变,保持农户依法承包集体土地的基本权利长久不变,保持农户承包地稳定。“长久不变”政策发挥作用的合理路径是
- ①激活主体、要素、市场 ②多渠道增加农民财产收入 ③发展农业适度规模经营 ④推动实施乡村振兴战略 ⑤健全土地承包权依法自愿有偿转让机制
- A. ②→①→③→⑤ B. ②→①→③→④
C. ⑤→②→③→① D. ⑤→①→③→④
15. 2019年11月,国务院发布的《关于进一步做好利用外资工作的意见》强调,继续压减全国和自由贸易试验区外商投资准入负面清单,全面清理取消未纳入负面清单的限制措施;加强政策宣传,鼓励和引导外资更多投向高新技术产业。实施这些举措的积极效应在于
- ①推动投资便利化,增强对外资的吸引力 ②扩大利用外资规模,确保外企经营效益 ③加快走出去步伐,创造更多的发展机遇 ④创新利用外资方式,优化利用外资结构
- A. ①② B. ①④ C. ②③ D. ③④
16. 近年来,我国各地开展生活垃圾分类处置工作,取得了较好的成效,但也存在一些问题,如居民未真正养成垃圾分类习惯;垃圾桶设置未建立统一标准;缺少甚至没有配备专门的垃圾收运车,导致前端环节已分类的垃圾混装;已分类垃圾与后端处置能力不匹配,废玻璃等找不到后端的处理部门和公司;等等。对此,相关政府部门应
- ①创新监管方式,增强政府工作透明度 ②加强社会建设,健全基本公共服务体系 ③深化简政放权,加快推进职能转变 ④加强公民意识教育,弘扬社会公德
- A. ①② B. ①③ C. ②④ D. ③④
17. 2019年6月,十三届全国人大常委会第十一次会议首次审议《中华人民共和国森林法修正案(草案)》。草案充分吸收人大代表、政协委员等各方意见和改革成果,完善了森林生态效益补偿的规定,明确了履行国有森林资源所有者职责的部门等内容,总体上趋向成熟。这说明全国人大常委会
- ①通过行使国家立法权规范国家治理 ②通过广泛听取意见和建议落实代表提案权 ③通过完善法制保证自身执法科学性 ④通过坚持民主集中制原则提高立法质量
- A. ①③ B. ①④ C. ②③ D. ②④
18. 习近平出席第二届中国国际进口博览会开幕式并发表主旨演讲时强调,面对矛盾和摩擦,协商合作才是正道。只要平等相待、互谅互让,就没有破解不了的难题。我们应该坚持以开放求发展,坚持“拉手”而不是“松手”,坚持“拆墙”而不是“筑墙”。中国政府提出这样的主张是基于
- ①互利共赢是我国外交政策的基本准则 ②各国和平共处能更好地实现各方利益 ③世界各国之间存在着广泛的根本利益 ④加强合作能推动建立公正的国际秩序
- A. ①② B. ①③ C. ②④ D. ③④

19. 戏曲艺术以独特的程式语言遵循着传统的美学原则和精神内核,但坚守传统并非不要创新,传承古典也并非不要时尚,所有伟大、成熟的艺术形式都是在时代发展中演变的。传统需要守护,同时也需要被激活、更新,这才是对传统最大的尊重。材料观点告诉我们

- ①与现代时尚相融合是优秀传统文化创新的根本途径 ②对待传统文化应坚持取其精华、去其糟粕 ③创新是传统文化富有生机和活力的重要保证 ④实现创造性转化的优秀传统文化更具有生命力

A. ①② B. ①③ C. ②④ D. ③④

20. 黄河文明吸纳、融合了各地区的文明精华,形成了大地湾文化、仰韶文化、齐家文化、马家窑文化、中原龙山文化、大汶口文化、山东龙山文化等代表性文化。黄河之水要奔腾不息,黄河文化的血脉也要永久延续。根据材料,下列认识正确的有

- ①黄河文化是中华文明的重要组成部分,是中华民族坚定文化自信的重要根基 ②传承、弘扬黄河文化,能增强人们对民族文化的认同感 ③为黄河文化充实新的内容,能增强黄河文化的稳定性 ④黄河文化是当代中国精神的集中体现,能增强中华民族的凝聚力

A. ①② B. ①③ C. ②④ D. ③④

21. 漫画《这里没有水,换个地方再挖》主要讽刺了一些人

- ①没有做到主观与客观具体的统一 ②不懂得用一分为二的观点看问题 ③缺乏坚强意志、不能持之以恒的行为 ④不理解实践具有社会性、历史性的特点

A. ①③
B. ①④
C. ②③
D. ②④



22. 有研究发现,在预防心脏病发作和致死方面,血管支架和冠状动脉搭桥手术并不比强化药物治疗和改善健康习惯更好。不过,在缓解心绞痛症状方面,支架或搭桥手术的效果要好于单纯依靠药物和改变生活方式。这一结果使得干预性心脏病医生与预防性心脏病医生之间的争论变本加厉。从认识论角度看,这表明

- ①认识的局限性意味着达不到真理性认识 ②任何真理都有自己适用的条件和范围 ③主观因素影响人们对客观事物的认识 ④真理在发展过程中不断地超越自身

A. ①② B. ①④ C. ②③ D. ③④

23. 中共中央办公厅、国务院办公厅印发的《关于统筹推进自然资源资产产权制度改革的指导意见》提出,构建归属清晰、权责明确、保护严格、流转顺畅、监管有效的自然资源资产产权制度,为建设美丽中国提供基础支撑。构建中国特色自然资源资产产权制度意在

- ①变革生产关系以激活生产方式中最活跃的因素 ②通过生产方式的变革以推动社会形态的更替 ③变革经济基础以更好地适应建设美丽中国的要求 ④通过改革以破解制约生态文明建设的体制机制障碍

A. ①② B. ①④ C. ②③ D. ③④

24. 先秦时期,儒家学者极力宣扬得众、爱众和济众思想,如孔子说“宽则得众”(《论语·尧曰》)、孟子说“与众乐乐”(《孟子·梁惠王下》)。由此可知,先秦儒学

- A. 适应了封建统治需要
B. 以批判法家刑罚为宗旨
C. 有利于缓和社会矛盾
D. 极力宣扬“兼爱”思想

25. 下表是汉代有关名田(占有土地)规定的记载。据此可知,这些规定

内容	出处
汉武帝时,令贾人有市籍及家属,皆无得名田以便农,一人有市籍,则身及家内皆不得有田,犯令者没入田货	《汉书·食货志》
贾人皆不得名田、为吏,犯者以律论	《汉书·哀帝纪》

- A. 利于维护小农经济稳定

B. 严厉地打击了商业违法行为
- C. 有效地抑制了土地兼并

D. 严格限制了商业规模的扩大
26. 宋代,很多士大夫在绘画上除了创作吟咏性情的文人画外,还好画“世俗人物”,创作了许多诸如《货郎图》《纺车图》等表现城乡百姓世俗生活的作品。这一现象折射出
- A. 市民文化走向勃兴

B. 绘画主流出现转向
- C. 士大夫阶层的衰落

D. 理学影响艺术创作
27. 据记载,明万历四十年(1612年)中国运往荷兰的瓷器为28611件,而到万历四十四年(1616年)则达到69037件。这一变化表明当时中国
- A. 瓷器成为新兴外贸品

B. 民间制瓷工场规模扩大
- C. 海外市场进一步拓展

D. 政府废止了“海禁”政策

28. 右面是中国近代某一时期的形势图。对该形势图解读正确的是,当时中国

- A. 民族意识的初步觉醒

B. 民族矛盾成为主要矛盾
- C. 民主革命的迅速发展

D. 国民革命的社会基础形成



29. 19世纪中后期,西方民主观念逐渐传入中国,“议会、民权、自由、宪政、权利”等成为热门词汇。清末民初,“革命、共和、民主”等成为流行词。五四时期,“自由主义民主”“革命民主主义”等词语成为新宠。对此解释合理的是
- A. 西方民主体制被照搬到了中国

B. 民主流派众多干扰了救亡道路的抉择
- C. 实现共和逐渐成为国人的共识

D. 民族危机加剧推动了民主观念的变化

30. 下表所示为毛泽东生平年表(部分)。这一时期毛泽东的活动体现了

时间	事件
1921年2月	任国民党上海执行部委员、组织秘书等职
1925年12月	主编国民党中央宣传部刊物《政治周报》
1926年5月	主持第六届农民运动讲习所,任所长

- A. 中国共产党独立领导民主革命

B. 中国民主主义革命的时代诉求
- C. “工农武装割据”理论基本形成

D. 毛泽东路线在中央领导地位确立
31. 20世纪80年代初,火车、轮船和长途汽车上到处是拎着装有建筑材料、纺织品和食品等商品样本的大包小包的乡镇企业推销员,形成了“推销员满地跑”的景象。这一景象
- A. 表明农民生产积极性提高

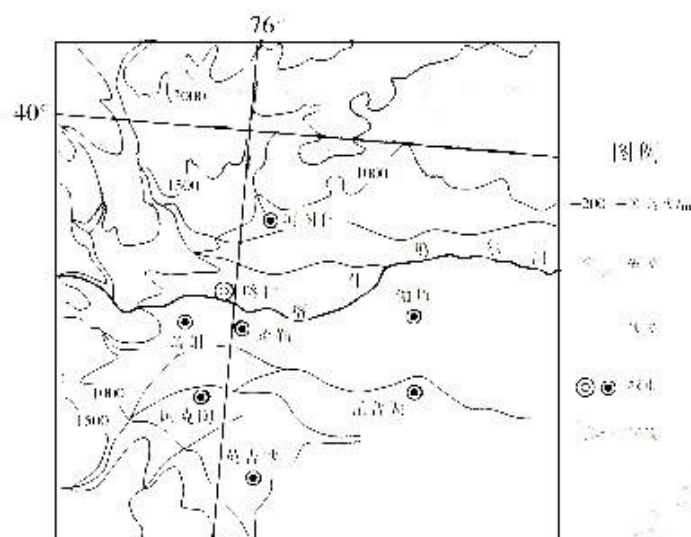
B. 反映出商品市场的活跃
- C. 直接推动了国有企业改革

D. 体现了私营企业的活力

- (1)说明伏尔加河春季径流量占年径流量的比重高的原因。(4分)
- (2)说出卡拉博加兹戈尔湾水位的季节变化特点。(4分)
- (3)从水循环的角度,分析卡拉博加兹戈尔湾含盐量高的自然原因。(6分)
- (4)简述修建堤坝将卡拉博加兹戈尔湾和里海隔开引发的问题。(8分)

37. 阅读图文材料,完成下列要求。(24分)

牧区畜牧业指利用天然草场放牧马、牛、羊等牲畜的畜牧业;农区畜牧业指利用农作物秸秆、饲料植物及农副产品等,采用舍饲、半舍饲方式饲养禽畜,以提供肉、奶、蛋等产品的畜牧业。近年来,新疆畜牧业呈现快速发展势头,但与北疆相比,南疆畜牧业发展一直较为缓慢。以喀什和昌吉(昌吉地处天山北麓)为例,这两个地区都是典型的农区畜牧业类型。2013年末,喀什地区存栏羊690.14万只,出栏羊737.33万只,生产羊肉16.18万吨;而同期,昌吉州仅以319.29万只羊,就出栏了570.99万只,生产羊肉10.03万吨,差距非常明显。2018年,喀什地区大力推进畜牧业“四良一规范”(指“良种、良舍、良料、良法和规范防疫”)综合配套措施,使畜牧业在推动农业经济结构调整、促进农民增收脱贫中发挥积极作用。下图为喀什位置图。



- (1)说出喀什地区成为典型农区畜牧业类型的条件。(6分)
- (2)比较喀什与昌吉畜牧业生产效率的差异,并推测原因。(6分)
- (3)说明喀什地区大力推进畜牧业“四良一规范”综合配套措施的作用。(6分)
- (4)简述喀什地区农区畜牧业发展对我国其他地区的借鉴意义。(6分)

38. 阅读材料,完成下列要求。(14分)

2019年,我国出台了有史以来力度最大、规模空前的减税降费政策。深化增值税改革,将制造业等行业现行16%的税率降至13%,将交通运输业、建筑业等行业现行10%的税率降至9%;实施小微企业普惠性减税;实施个人所得税专项附加扣除政策;降低社保缴费费率,并调整社保缴费基数政策。

截至10月末,个人所得税纳税人人均减税1786元,小微企业减税1860.89亿元,民营企业各项政策合计减税10511.84亿元,占全部减税数额的比例达到63.8%。受益于减税降费政策,企业有更多的资金投入产品研发、装备更新和人才引进。2019年前三季度,实体上市公司研发投入4690.38亿元,同比上超越一成;中央企业(中央政府管理的国有企业)研发投入同比增长25%,保持两位数增长。

有人根据材料得出结论:“在经济下行压力下,减税降费赋能中国经济持续健康发展。”结合材料,运用经济生活知识阐释这一观点的合理性。

39. 阅读材料,完成下列要求。(12分)

党的十九届四中全会提出,要完善正确处理新形势下人民内部矛盾有效机制,完善社会治安防控体系,健全公共安全体制机制,构建基层社会治理新格局。

在社会主义建设和改革开放的伟大实践中,我们党领导人民在正确处理人民内部矛盾方面创造了许多宝贵经验,最为突出的是“枫桥经验”:一、坚持党的领导这一根本原则,使基层党组织成为防范化解矛盾的“主心骨”;二、坚守以人民为中心这一根本立场,坚持专群结合、群防群治;三、坚持综合施策这一根本途径,以法治“定分止争”,以德治“春风化雨”;四、树立关口前移这一根本理念,完善重大决策社会稳定风险评估机制,健全社会公示听证、专家咨询、合法性审查等制度,努力把问题解决在决策之前;五、夯实基层基础这一根本支撑,把基层社会治理触角延伸到每栋楼房、每户家庭。

完善正确处理新形势下人民内部矛盾有效机制,必须坚持和发展“枫桥经验”。运用政治生活知识,任选其中三条经验,说明这些经验对维护社会和谐积极作用。

40. 阅读材料,完成下列要求。(26分)

为庆祝新中国成立70周年,人民日报新媒体中心推出“2019年时光博物馆”活动并在全国巡展。时光博物馆以“流动的时光,行进的中国”为主题,以“家国情怀”为创意原点,以中国发展历程中个人与家庭的变迁为主线,创新地将一段段“中国记忆”装进“时光大篷车”中,结合艺术加工、黑科技辅助,与旧时光“对话”,讲述新中国70年家国情怀。

“2019年时光博物馆”主体场馆共分为“岁月交通局”“记忆供销社”“奇妙时空屋”“年代照相馆”“光阴教室”五大主题体验区及创意互动区、时光走廊三部分。主题体验区采用沉浸式体验的方式,围绕70年来与群众生活密切相关的衣、食、住、行、文、教等方面的变迁,与观众进行深度互动;创意互动区将科技元素与时代记忆相结合,为游客提供趣味互动体验;时光走廊将过去与现在连接,将70年大事件以光影形式进行呈现。一个个承载回忆的时代符号、一个个存在于旧时光里的场景,记录着新中国70年来的峥嵘历程,铭刻了老一辈人砥砺前行、带领着更多年轻人通过它读懂时光、读懂爱。不论你生活、工作在哪个年代,在时光博物馆里,都能找到你记忆中的样子,感受到新中国70年蓬勃发展的脚步,体验到中国发展之路与人民幸福之路紧密相连、共振前行的画面。

(1)结合材料,运用文化生活知识,分析“时光博物馆”在全国巡展的意义。(10分)

(2)结合材料,运用联系观点,说明人民日报新媒体中心是如何打造“时光博物馆”的。(10分)

(3)某校以“感悟70年巨变,争做新时代奋斗者”为主题开展演讲活动,请你拟定三条演讲提纲。(6分)

41. 阅读材料,完成下列要求。(25分)

材料一

程朱理学把“理”当成最高的本体,把宇宙实体和宇宙规律与儒家伦理的原则结合起来,在道德实践上,“理”被强化为外在的、客体性的权威。虽然这个外在的、客体性的权威有其很强的道德规范和指导功能,但对人的主观能动性是有所抑制的。因此,理学的进一步发展,就有了心学。陆九渊、王阳明相信人心就是理的根源,也是道德法则的根源。他们提出“心即是理”,相信自己的内在价值更胜于外在权威,使人的道德主体性进一步发展。所以,从理学到心学,宋明理学的发展经历了一个逻辑的内在的展开。

摘编自陈来《中华文明的核心价值——国学流变与传统价值观》

材料二

宋明理学曾在启蒙运动时期被广泛推崇。伏尔泰就曾指出,“我们不能像中国人一样,真是大不幸!”“他们帝国(中国)的组织,是世界上最好的”“中国是地球上人口最多、管理最

好,而且最优秀、最古老、也是最广博的王国”。当然,伏尔泰为了达到反对宗教神学的目的,对中国文化和以宋明理学为代表的儒家思想的赞美有言过其实之嫌。但就其结果而言,他这种对中国文化的极度赞美对法国的启蒙运动倒是起了积极的推动作用。

据[美]麦克尼尔《世界史》等

(1)根据材料一并结合所学知识,概括宋明理学出现的历史背景及其发展特点。(12分)

(2)根据材料一、二并结合所学知识,分析启蒙运动推崇宋明理学的原因,并谈谈你对宋明理学的认识。(13分)

42. 阅读材料,完成下列要求。(12分)

材料

罗斯福并不比胡佛更懂得宏观经济学的奥妙,更不能未卜先知,他和胡佛一样都信奉“自由经济”,而不像一些人所想象的那样是一个凯恩斯主义者。罗斯福比胡佛优秀的地方主要在于不是抱着自由主义的教条不放,而是千方百计去减轻灾难,顺时而变。用他自己的话来说,就是“做点什么总比什么都不做好”。

摘编自北京大学中国经济研究中心宏观组《罗斯福新政评价及启示》

评析材料中的观点,得出结论。(要求:结论不能重复材料中观点,持论有据,论证充分,表述清晰。)

请考生从2道地理选考题、3道历史选考题中每科任选一题作答。如果多做,则每科按所做的第一题计分。

43. [地理 选修3:旅游地理](10分)

米堆冰川位于藏东南的念青唐古拉山与伯舒拉岭的接合部,冰川主峰海拔为6800 m,雪线海拔只有4600 m,末端海拔仅2400 m。米堆冰川靠近川藏公路,规模大,进入方便,是藏东南海洋性冰川的典型代表。特征典型,类型齐全,以发育美丽的拱弧构造闻名,是罕见的自然奇观。在这里,冰川、湖泊、农田、村庄、森林等融会在一起,是一处人与自然和谐相处的典范。

简述米堆冰川发展冰川旅游的优势条件及前往该处旅游需要注意的事项。

44. [地理 选修6:环境保护](10分)

随着国民经济的发展、交通基础设施的完善和机动车保有量的攀升,加油站已成为民众生活中不可或缺的一部分,规划新增的加油站数量也在不断增长。一方面,加油站为汽车行业的发展提供了必需的资源保障;另一方面,加油站产生的污染也给地下水和土壤带来了环境风险。近年来,因加油站泄漏事件造成的环境污染问题频频发生,加油站土壤与地下水环境管理问题日益受到关注。

说明加油站对地下水和土壤产生污染的主要途径,并提出合理的防治措施。

45. [历史 选修1:历史上重大改革回眸](15分)

材料

民国初年,张謇出任北洋政府的工商、农林两部总长(后合并为农商部)。在1913年至1915年的两年任期内,张謇共颁布和制定法律、条例二十余种,诸如《公司注册规则》《公司保息条例》《商人通则》《矿山条例》《奖励条例》《边荒承垦条例》《森林法》《证券交易所法》,等等。这些经济法规涵盖公司、金融、矿业、农业、引进外资等各个方面,成为近代史上中国政府颁布的一次较为完备的经济立法。张謇主张对民营企业采取“提倡、保护、奖励、补助”的保育主义政策,1913年,张謇在农商部《关于利用外资振兴实业办法给大总统呈文》中,又拟就引用外资的具体办法:主张采取合资、借贷、代办三种形式,并规定外商投资必须遵守中国法律。

摘编自刘远柱《民国初年张謇与孙中山经济建设思想及实践比较》

(1)根据材料,概括民国初年张謇经济改革的主要举措。(6分)

(2)根据材料并结合所学知识,说明民国初年张謇经济改革的意义。(9分)

16. [历史 选修3:20世纪的战争与和平](15分)

材料

1938年以后,随着德意法西斯在欧洲连连得手,其征服世界的面目暴露无遗。希特勒不仅获得了欧洲巨大的军事、地理优势,威胁到美国在世界范围内的经济利益,甚至还将手伸进了美国的“后院”——拉美,成了美国的直接竞争对手。……截至1911年,美国在欧洲的直接和间接投资总计达200600万美元,在亚洲和大洋洲的投资仅为85300万美元。……1939年11月,罗斯福签署的“新中立法”中将取消武器禁运条款改为“现金购货运输自理”,由于英国的海军运输发达,又有强大的海军,故此法对英国极为有利。1941年3月,国会通过了《租借法》,授权以租借或贷款形式向某些被认为其国防对美国安全具有重大意义的国家提供武器及其他物资。从此美国成为民主国家的巨大军火库。苏德战争爆发后,该法案又扩大到苏联。根据“先欧后亚”战略,美国的战略物资和军事力量源源不断地进入欧洲。罗斯福最终彻底战胜了孤立主义,“先欧后亚”战略得以坚定地贯彻执行。

摘编自黄光耀《二战中美国奉行“先欧后亚”战略之原因探析》

(1)根据材料并结合所学知识,分析二战中美国奉行“先欧后亚”战略的原因。(6分)

(2)根据材料并结合所学知识,简评二战中美国奉行的“先欧后亚”战略。(9分)

17. [历史 选修1:中外历史人物评说](15分)

材料

《管子·治国》中说:“凡治国之道,必先富民。民富则易治也,民贫则难治也。”国家一旦富强,霸业的实现就成为可能。因此,《管子》提出了一系列的富民思想。在《国蓄》篇中提出“五谷食米,民之司命也”,民以食为天,粮食对人民的生存至关重要,认为粮食生产是人民的根本。《管子》提倡“务本飭末,则富”。以农业发展为本,对“末”也就是工商业采取的是整顿管理的态度,二者不可偏废。为了更好地发展工商业,《管子》提出了“四民分业定居”的制度。《管子》认为繁重的税赋是人民极大的负担,“人甚忧饥,而税斂重。人甚惧死,而刑政险。人甚伤劳,而上举事不时。公轻其税斂,则人不忧饥。缓其刑政,则人不惧死。举事以时,则人不伤劳”。

摘编自宋家珩《管子民本思想研究》

(1)根据材料,概括管子富民思想的主要内容。(6分)

(2)根据材料并结合所学知识,评价管子的富民思想。(9分)

文科综合参考答案

1. C 【解析】本题主要考查现代工业对建筑的影响,同时考查学生获取和解读地理信息及调动、运用地理知识的能力。与传统建筑施工方式相比,装配式建筑是经过设计然后成批成套地制造,使用的建筑材料不会增多;装配式建筑由安装机械将构件组装而成,降低了工人的劳动强度;在工厂里集中生产建筑部件,可减少扬尘和废水排放,减少噪声污染、空气污染、水污染,同时可减少现场施工和运输装卸过程中产生的建筑废弃物,以及废弃物对土地的占用;建筑材料提前在工厂完成,现场拼接,可缩短建筑施工周期。故选项 C 正确。
2. A 【解析】本题主要考查工业区位,同时考查学生获取和解读地理信息及调动、运用地理知识的能力。中国装配式建筑市场庞大与欧洲国家从中国采购装配式建筑无直接关系;随着中国社会经济的发展,现在建筑材料成本已较高,不能用极低来形容;欧洲国家尤其是西欧国家工业基础雄厚;传统建筑施工过程中,需要投入大量劳动力,欧洲经济发达,老龄化严重,当地劳动力成本高,构件生产成本高,因而选择从中国采购建筑构件建设装配式建筑。故选项 A 正确。
3. D 【解析】本题主要考查建筑物的特征,同时考查学生获取和解读地理信息及调动、运用地理知识的能力。黄土高原窑洞的建设由当地地形、土壤等自然条件所决定;非洲贫民窟所在地区经济发展水平较低,与当地简易民居相比,装配式建筑生产成本较高,不适合建设装配式建筑;江南古典园林的修复要与原有园林保持一致,属于小规模补缺修复,不适合建设装配式建筑;北极地区自然条件恶劣,无定居人口,本地区无法提供建筑材料,且施工条件恶劣,因此最适宜建设装配式建筑。故选项 D 正确。
4. B 【解析】本题主要考查区域人口分布特征,同时考查学生获取和解读地理信息及调动、运用地理知识的能力。北京是我国的首都,且高等院校众多,是我国名副其实的人才高地,因此其高端人才占有率和人才密度均很高,故甲表示北京;三省市中,河南省经济发展水平较低,且总人口超过一亿人,因此全省的高端人才密度是三省市中最低的,故乙表示河南。故选项 B 正确。
5. C 【解析】本题主要考查人口结构对第三产业的影响,同时考查学生获取和解读地理信息及调动、运用地理知识的能力。由材料信息可知,甲省市(北京)高端人才占有率接近 20%,高端人才密度明显高于全国平均水平,人才优势明显,有利于高新技术产业发展;人工智能属于高新技术产业。故选项 C 正确。
6. B 【解析】本题主要考查影响人口结构的因素,同时考查学生获取和解读地理信息及调动、运用地理知识的能力。随着我国高等教育的发展,我国高端人才的总量不断增加,使得我国各省市高端人才密度均呈增大趋势,同时造成部分省市高端人才占有率下降。故选项 B 正确。
7. D 【解析】本题主要考查太阳方位,同时考查学生获取和解读地理信息及调动、运用地理知识的能力。结合生活常识可知,公历一般比阴历早一个月左右;阴历五月大致为公历 6 月,6 月份,太阳直射北半球,我国各地日出东北,日落西北,故艮表示东北,乾表示西北,则坎表示正北方;仲冬太阳直射南半球,我国各地日出东南,日落西南,故巽表示东南,坤表示西南,则离表示正南方。故选项 D 正确。
8. A 【解析】本题主要考查地球运动的意义,同时考查学生获取和解读地理信息及调动、运用地理知识的能力。当太阳从震宫方向升起(即正东方向升起)、兑宫方向落下(即正西方向落下),为春分日或秋分日,太阳直射赤道,全球各地昼夜等长;青海湖畔受地势高影响,油菜花开一般是六月底至七月中下旬;挪威北部位于北极圈内,其出现极昼的时间是夏至日前后;东北平原冰天雪地主要为冬季。故选项 A 正确。
9. D 【解析】本题主要考查区域位置的判断,同时考查学生获取和解读地理信息及调动、运用地理知识的能力。汾河谷地位于半湿润区,河谷底部为温带落叶阔叶林;汉水谷地位于湿润区,河谷底部为亚热带常绿阔叶林;雅鲁藏布江大峡谷河谷为热带季雨林和亚热带常绿阔叶林;根据该河谷底部为荒漠草原,判断其位于西北干旱半干旱区,伊犁河谷符合题意。故选项 D 正确。
10. A 【解析】本题主要考查影响植物分布的自然因素,同时考查学生获取和解读地理信息及调动、运用地理知识的能力。海拔 1200 m 以下,海拔较低,热量充足;地势较低处土壤厚度较大;没有材料信息说明不同海拔存在坡度差异;海拔 1200 m 以下为河谷的基带,因深居内陆,气候干旱,水分不足,未能形成森林,只能形成荒漠草原。故选项 A 正确。
11. B 【解析】本题主要考查山地垂直地带性,同时考查学生获取和解读地理信息及调动、运用地理知识的能力。与野果林相比,山地草原海拔较高,年均温较低,①错误;草原缺乏植被冠层阻挡光照,太阳光可以直接

照射地表,光照更强,②错误;山地草原由于气温低,微生物活动弱,土壤有机质分解较慢,③正确;与森林相比,草原生物量较小,群落自然生产力较低,④正确。故选项B正确。

12. D 【解析】本题考查价格变动的影响及互补品、替代品的相关知识,考查考生获取和解读信息、综合运用知识的能力。图I显示的是商品自身价格不变,由其他因素引起的该商品需求量增加。煤炭价格下降,会引起其替代品天然气需求的减少,①不选;某品牌打印机价格下降,人们对其需求量会增加,对其专用墨盒的需求量也会增加,②符合题意。图II显示的是商品自身价格不变,由其他因素引起的供给量增加。大蒜价格上涨,会引起大蒜种植规模沿着供给曲线向右上方移动,排除③;我国下调进口关税,国内市场上外国商品的供给会增加,④符合题意。

13. A 【解析】本题考查创新驱动、供给侧结构性改革的相关知识,考查考生获取和解读信息、运用知识分析问题的能力。“大力发展智能化解决方案服务,深化新一代信息技术、人工智能等应用”,意在提高企业的自主创新能力,提高供给体系质量,加快培育现代产业体系,①③符合题意。“降低单位商品价格”“扩大生产规模”不是推动先进制造业和现代服务业深度融合发展的目的所在,排除②④。

14. D 【解析】本题考查“三农”问题、土地承包经营权转让的意义的相关知识,考查考生运用所学知识进行合理推导的能力。保持土地承包关系稳定并长久不变可以健全土地承包权依法自愿有偿转让机制,有效激活农村土地市场,优化农村土地资源,发展农业适度规模经营,从而推动实施乡村振兴战略,⑤→①→④→③的传导顺序正确。

15. B 【解析】本题考查对外开放的相关知识,考查考生获取和解读信息、调动和运用知识的能力。“继续压减全国和自由贸易试验区外商投资准入负面清单,全面清理取消未纳入负面清单的限制措施”,可以促进投资便利化,增强对外资的吸引力,①符合题意。“鼓励和引导外资更多投向高新技术产业”,有助于优化利用外资结构,④符合题意。“确保外企经营效益”的说法绝对化,②不选。利用外资属于引进来,而非走出去,③不选。

16. C 【解析】本题考查政府加强社会建设的相关知识,考查考生获取和解读信息、运用知识解决问题的能力。“垃圾桶设置未建立统一标准”“缺少甚至没有配备专门的垃圾收运车”“已分类垃圾与后端处置能力不匹配”等问题的存在,要求政府相关部门加强社会建设,健全基本公共服务体系,②符合题意。“居民未真正养成垃圾分类习惯”,要求政府相关部门加强公民意识教育,弘扬社会公德,①符合题意。“增强政府工作透明度”“深化简政放权”等举措不能直接解决材料所反映的问题,排除③④。

17. B 【解析】本题考查立法权和民主集中制的相关知识,考查考生获取和解读信息、调动和运用知识的能力。全国人大常委会第十一次会议审议《中华人民共和国森林法修正案(草案)》,完善了森林生态效益补偿的规定,是全国人大常委会通过行使国家立法权规范国家治理的表现,①符合题意。全国人大常委会在该法修正过程中充分吸收人大代表、政协委员等各方意见,坚持民主集中制原则,增强立法的民主性和科学性,④符合题意。材料没有体现人大代表行使提案权,②与题意无关。全国人大常委会是国家权力机关,而非执法机关,③说法错误。

18. C 【解析】本题考查我国独立自主的和平外交政策的相关知识,考查考生获取和解读信息、运用知识分析问题的能力。材料考查中国政府所提主张的原因,一是“拉手”“筑墙”符合时代的主题,有利于推动国际秩序朝着更加公正合理方向发展;二是能更好地实现各方利益,②④符合题意。和平共处五项原则是我国外交政策的基本准则,①说法错误。世界各国存在共同利益,但不是“根本利益”,③说法错误。

19. D 【解析】本题考查文化创新的相关知识,考查考生获取和解读信息、运用知识分析问题的能力。材料主要强调了传统文化需要适应时代的发展不断创新,这样才更加具有生机和活力,③④符合题意。立足于社会实践是文化创新的根本途径,①说法错误。材料没有体现“对传统文化应坚持取其精华、去其糟粕”,②不选。

20. A 【解析】本题考查文化自信的相关知识,考查考生获取和解读信息、调动和运用知识的能力。黄河文化作为中华优秀传统文化,本身就具有稳定性,③不选。社会主义核心价值观是当代中国精神的集中体现,①说法错误。②④是对黄河文化的正确解读,符合题意。

21. A 【解析】本题考查一切从实际出发的相关知识,考查考生获取和解读信息、综合运用知识的能力。考生解答本题时,应认真解读漫画,明确漫画主旨。漫画中的人没有恒心,做事情不能持之以恒,主观臆断该地没有水,没有做到主观与客观具体的统一,①③符合题意。②④不符合漫画寓意,均排除。

22. C 【解析】本题考查真理的条件性及认识的反复性的相关知识,考查考生获取和解读信息、运用知识分析问题的能力。由材料信息可知,两种心脏病治疗方案均有所长,说明真理有其适用的条件和范围,②符合题意。干预性心脏病医生与预防性心脏病医生均站在自己的立场上,从而产生了争论,①③④均不符合题意。

们对客观事物的认识,③符合题意。认识具有局限性,但人们可以在实践中认识和发现真理,④说法错误。①在材料中没有得到体现,应排除。

23. B 【解析】本题考查社会基本矛盾运动的相关知识,考查考生获取和解读信息、运用知识分析问题的能力。构建中国特色自然资源资产产权制度,意在通过改革,明晰自然资源资产产权,破解制约生态文明建设的体制机制障碍,变革生产关系以推动社会生产力发展,①④符合题意。构建中国特色自然资源资产产权制度与社会形态的更替无关,也并非在变革经济基础,排除②③。

24. C 【解析】本题考查先秦儒学,考查学生获取和解读材料信息的能力。材料中儒家的得众、爱众和济众思想均体现了“仁爱”和“仁政”思想,此思想有利于缓和统治者与民众之间的矛盾,故选C项;先秦时期,封建统治刚兴起,君主统治需要加强,儒家思想并不适应其需要,因而受到统治者的排斥,故排除A项;法家主要兴起于战国时期,孔子时代(春秋后期)法家还没有完全兴起,谈不上批判,故排除B项;儒家的“仁爱”是有等级差别的,“兼爱”是墨家的主张,故排除D项。

25. A 【解析】本题考查汉代经济,考查学生获取和解读材料信息的能力。从表格中可得知,汉代禁止商人购买土地,一定程度上限制了土地兼并,从而有利于小农经济的稳定,故选A项;禁止商人购买土地,不等于禁止商人进行其他活动,不能说打击了商业违法行为,故排除B项;材料中的规定虽在一定程度上抑制了土地兼并,但土地兼并现象依然存在,因而不能说“有效地”抑制了土地兼并,故排除C项;材料中的规定虽限制了商业资本向土地方面流动,但仍可以向其他方面流动,因而不能限制商业规模的扩大,故排除D项。

26. A 【解析】本题考查宋代艺术,考查学生获取和解读材料信息、运用所学知识分析历史现象的能力。材料信息反映了宋代世俗画的兴起,这是市民文化兴起的表现,故选A项;世俗画只是宋代的绘画种类之一,不能说明绘画主流出现转向,故排除B项;材料反映了世俗画的兴起,不能说明士大夫阶层的衰落,故排除C项;材料没有体现理学思想对绘画创作的影响,故排除D项。

27. C 【解析】本题考查明代经济,考查学生获取和解读材料信息、运用所学知识分析历史现象的能力。材料中反映了四年的时间瓷器外运数量大幅增长,说明中国瓷器在海外市场的占有量大幅增长,这是海外市场拓展的结果,故选C项;瓷器在宋代就已成为外贸品,故排除A项;材料只能说明中国瓷器外运规模扩大,不能说明民间制瓷工场规模扩大,故排除B项;明代“海禁”政策是严禁中国民众出海贸易,但政府依然可以对外贸易,所以不能说明政府废止了“海禁”政策,故排除D项。

28. B 【解析】本题考查义和团运动,考查学生获取和解读材料信息、运用所学知识分析历史现象的能力。据图中的“1899年”“1900年”和“山东”“平原”“八国联军”“天津”“廊坊”等信息可知,此图反映的是义和团反击八国联军侵华斗争,当时官民共同反击外来的侵略,表明民族矛盾已成为当时的主要矛盾,故选B项;中国近代民族意识初步觉醒于鸦片战争后,而完全觉醒于甲午战争后,故排除A项;义和团运动虽发生于民主革命时期,但并非民主革命,故排除C项;国民革命是指国共合作的大革命,义和团运动与此无关,故排除D项。

29. D 【解析】本题考查近代思想解放潮流,考查学生获取和解读材料信息的能力。材料反映了19世纪中后期先进的中国人向西方学习的阶段历程,即由学习西方的制度(君主立宪到民主共和)到学习西方先进的思想文化,这体现了随着民族危机的不断加深,先进的中国人探索不同的救亡图存道路,即民主观念的不同,故选D项;材料中没有体现照搬西方民主体制的实践,故排除A项;材料反映了不同时期先进的中国人探索不同的救亡图存道路,故排除B项;实现民主共和只体现材料中一个阶段,不能全面反映材料主题,故排除C项。

30. B 【解析】本题考查国民革命运动,考查学生获取和解读材料信息、运用所学知识分析历史现象的能力。根据材料并结合所学可知,毛泽东这一时期的活动可以佐证国共两党合作进行反帝反封建的革命事业,这是当时中国民主主义革命的时代诉求,故选B项;国民大革命时期,国共两党共同领导中国革命,故排除A项;“工农武装割据”理论形成于井冈山斗争时期,故排除C项;材料体现了国共两党合作,遵义会议事实上确立了毛泽东的正确路线在中共中央的领导地位,故排除D项。

31. B 【解析】本题考查新时期经济体制改革,考查学生获取和解读材料信息的能力。乡镇企业的“推销员满地跑”,说明这些企业是自己找市场,这反映出当时商品市场的活跃,故选B项;乡镇企业虽然是农村企业,但并非农民自己生产经营,不能说明农民生产积极性提高,故排除A项;材料现象虽推动了国有企业改革,但并非直接推动力,故排除C项;乡镇企业不属于私营企业,而是集体所有制企业,故排除D项。

32. D 【解析】本题考查雅典民主政治,考查学生获取和解读材料信息、运用所学知识分析历史现象的能力。雅典普通公民能够随时成为高级官吏,说明公民能够平等地参与政治活动,故选D项;材料体现了雅典民主政治的广泛性,故排除A项;材料体现了雅典民主政治的公开性,故排除B项;材料体现了雅典民主政治的平等性,故排除C项。

平等参政权,这种平等性并不利于选贤举能,故排除A项;社会平等包括政治、经济等各方面,材料只体现了政治平等,而不能说明社会平等,故排除B项;材料体现的是公民政治上的平等权,而不是政治特权,故排除C项。

33. C **【解析】**本题考查早期殖民扩张,考查学生获取和解读材料信息、运用所学知识分析历史现象的能力。材料信息说明美洲白银成为欧亚贸易的纽带,即说明欧亚美三大洲经济联系加强,反映了世界市场体系的孕育成长,故选C项;材料信息虽体现了欧洲需要大量的亚洲产品,但这并不是因为欧洲出现了商业危机,故排除A项;虽然当时欧洲对亚洲进行了殖民掠夺,但材料体现的是欧亚贸易,而不是殖民掠夺,故排除B项;欧洲用美洲白银换取亚洲的产品,说明亚洲处于贸易优势之中,故排除D项。

34. D **【解析】**本题考查巴黎公社,考查学生获取和解读材料信息的能力。巴黎公社是“社会把国家政权重新收回”“人民群众把国家政权重新收回”,是“人民群众获得解放的政治形式”,体现了巴黎公社打碎资产阶级的国家机器,建立无产阶级的国家机器,所以材料观点强调了巴黎公社是无产阶级政权,故选D项;巴黎人民多次进行反专制的斗争,民主意识早已觉醒,故排除A项;材料强调的是政权的所有者,而不是人民群众是历史的创造者,故排除B项;材料中没有涉及农民阶级,且巴黎公社也没有建立工农联盟,故排除C项。

35. B **【解析】**本题考查多极化发展,考查学生获取和解读材料信息、运用所学知识分析历史现象的能力。世界多极化发展使一些主要国家实力相对均衡,从而推动了对公平正义和多边主义价值理念的追求,故选B项;当今世界结盟仍是国家关系的主流,美、英、法等是大国结盟国家,故排除A项;虽然大多数国家反对霸权主义,但霸权主义仍然存在,并没有被抛弃,故排除C项;材料中的愿望是“一超多强”局面加强的结果,而不是削弱的结果,故排除D项。

36. (1)伏尔加河流域大部分为温带大陆性气候,水源补给主要为季节性积雪融水补给;流域冬季气温低,积雪量大,春季气温回升,积雪融化,径流量丰富。(4分)

(2)水位季节变化大;春季水位快速上升,夏季水位高;秋季水位降低,冬季水位低。(答出两点,4分)

(3)里海为咸水湖,里海是卡拉博加兹戈尔湾最主要的补给来源(里海南部含盐量较高的湖水通过沙洲中部的狭窄水道补给卡拉博加兹戈尔湾);该地区气候干旱,降水稀少;该地区夏半年气温高,全年风力强劲,蒸发旺盛;海湾较封闭,与里海水体交换缓慢;沿岸无河流注入,盐度得不到稀释。(答出三点,6分)

(4)里海水位上升;里海含盐量升高;里海周边地区的沿海低地被淹没;卡拉博加兹戈尔湾面积迅速萎缩;卡拉博加兹戈尔湾盐产量减少;湖床大面积裸露,引发沙尘暴(盐尘暴)。(答出四点,8分)

【解析】本题以里海和卡拉博加兹戈尔湾为背景,考查河湖水文特征、影响湖泊盐度的自然原因以及人为活动对湖泊及周边环境的影响,同时考查学生获取和解读地理信息及调动、运用地理知识的能力。第(1)问,伏尔加河春季径流量占年径流量的比重高的原因主要从流域气候特征和河流补给水源两方面进行作答。第(2)问,由材料可知,卡拉博加兹戈尔湾的水源来自里海,里海的水位主要来自伏尔加河和乌拉尔河,伏尔加河和乌拉尔河春季径流量最大,里海水位7月最高,2月最低,故卡拉博加兹戈尔湾的水位春季快速上升,夏季水位高,秋季水位回落,至冬季水位最低。第(3)问,卡拉博加兹戈尔湾含盐量高的自然原因可从里海性质、区域气候特征、海湾封闭程度和沿岸河流等方面进行作答。第(4)问,堤坝将卡拉博加兹戈尔湾和里海隔开,卡拉博加兹戈尔湾无水源补给,导致海湾面积萎缩、盐产量减少、出现荒漠化;里海出现水位上升,含盐量升高、沿海低地被淹没等问题。

37. (1)气候干旱,天然草场面积小,草场质量差;喀什地区多绿洲,绿洲农业发达,饲料来源较为充足;喀什地区城市较多,市场需求大;牧民畜牧业生产经验丰富等。(答出三点,6分)

(2)差异:与昌吉相比,喀什的畜牧业生产效率较低。(2分)

原因:喀什地区技术水平较低;喀什地区饲草料保障程度较低等。(1分)

(3)提高畜牧产品的质量;增加农民收入;扩大畜牧业生产规模;提高畜牧业生产效率;减少传染病造成的损失等。(答出三点,6分)

(4)实行规模化养殖;种植人工牧草,改良饲料结构,保障饲料品质;培育优良的牲畜品种;加强畜禽舍的建设,改善饲养环境;加强卫生防疫工作,保障食品安全;加大政策的支持力度等。(答出三点,6分)

【解析】本题以喀什农区畜牧业发展为背景,考查影响区域农区畜牧业发展的条件及其可持续发展,同时考查学生获取和解读地理信息及调动、运用地理知识的能力。第(1)问,喀什地区成为典型农区畜牧业类型的条件可从草场质量、饲料来源、市场需求和牧民生产经验等方面进行作答。第(2)问,由材料可知,喀什与昌吉畜牧业生产效率的差异主要表现在生产效率方面,其原因主要从饲草料保障程度、技术水平两方面进行作答。第(3)问,由材料可知,喀什地区大力推进的畜牧业“四良一规范”指“良种、良舍、良料、良法和规范防

疫”，可从这五方面所产生的效益进行作答。第(4)问，我国其他农牧业地区可借鉴喀什地区规模养殖、保障饲料品质和供应、培育优良牲畜品种、改善饲养环境、加强防疫工作等方面的生产经验。

38. (1)减轻企业负担，有效激发市场活力，提振市场信心，促进中国经济实现高质量发展。(3分)

(2)增加居民收入，扩大消费，增强消费对经济发展的基础性作用。(2分)

(3)增强国有经济的创新力、控制力和影响力，更好地发挥国有经济的主导作用；(2分)促进民营经济发展，更好地发挥非公有制经济在支撑经济增长、促进创新、扩大就业等方面的积极作用。(2分)

(4)支持实体经济发展，筑牢现代化经济体系的坚实基础。(2分)

(5)提高我国企业的自主创新能力，促进中国经济转型升级(可用“促进经济发展新旧动能转换”“转变经济发展方式”替代，不重复计分)，提高中国经济发展的质量和效益。(3分)(考生若答“发挥积极财政政策的作用，实行科学的宏观调控，促进中国经济实现高质量发展”等，言之有理可酌情给2分，但不能超过本题最高得分)

【解析】本题以国家减税降费为背景材料，考查税收的作用、消费、基本经济制度、建设现代化经济体系、创新、宏观调控等知识，考查考生获取和解读信息、调动和运用知识、描述和阐释事物、论证和探究问题的能力。本题要求考生运用经济生活知识阐述“在经济下行压力下，减税降费赋能中国经济持续健康发展”这一观点的合理性，为说明类主观题。解答本题时，考生应认真审读设问，抓住减税降费，经济持续健康发展、合理性等关键词，然后认真审读材料，找出材料中的有效信息，将之转化为教材理论。如从“降低制造业、交通运输业、建筑业增值税税率”中，可以提炼出“减轻企业负担，有效激发市场活力”“支持实体经济发展”等答案；从“实施个人所得税专项附加扣除政策”中，可以提炼出“增加居民收入，扩大消费”等答案；从“民营企业各项政策合计减税10 511.84亿元”中，可以提炼出“促进民营经济发展”等答案；从“企业有更多的资金投入产品研发、装备更新和人才引进”中，可以提炼出“提高我国企业的自主创新能力，促进中国经济转型升级”等答案；从“中央企业研发投入同比增长25%”中，可以提炼出“增强国有经济的控制力、影响力”等答案；从材料的大背景“减税降费”中，可以提炼出“国家实施积极的财政政策，实行科学的宏观调控”等答案。考生答题时要注意恰当使用学科专业术语，做到逻辑严密、理论与材料有机结合。

39.

坚持党的领导这一根本原则	党是领导一切的(可用“党是最高政治领导力量”替代，不重复计分)，在正确处理人民内部矛盾中加强党的集中统一领导(可用“发挥总揽全局、协调各方的作用”替代，不重复计分)，(2分)能凝聚起防范化解人民内部矛盾的强大合力，为维护社会和谐提供坚强政治保证。(2分)
坚守以人民为中心这一根本立场	我国是人民当家作主的社会主义国家，人民是国家的主人。(2分)发挥群众主体作用，让人民群众成为维护社会稳定的最广大参与者，有利于调动亿万人民群众建设和谐社会的积极性，维护国家长治久安。(2分)
坚持综合施策这一根本途径	宪法和法律是公民根本的行为准则，运用法治思维、法治方式，有利于增强公民的法律意识，引导群众在法律框架下分清是非、化解矛盾、维护生活稳定；(2分)大力弘扬社会主义核心价值观，传承中华道德文化精髓，发挥德治的教化作用，有利于社会和谐稳定。(2分)
树立关口前移这一根本理念	推进决策民主化、科学化，有利于增强决策的科学性，促进公民对决策的理解，推动决策的实施；(2分)有利于提高公民参与公共事务管理的热情和信心，增强公民的社会责任感，有利于化解矛盾，维护社会稳定。(2分)
夯实基层基础这一根本支撑	①发展基层民主，保障人民群众享有更多更切实的民主权利，是人民当家作主的有效途径。夯实基层，提高基层治理能力，发挥群众自治组织自我管理、自我服务的优势，有利于以自治“消解矛盾”，把人民内部矛盾化解在基层和萌芽状态。(2分)②基层政府机关贴近群众，夯实基层基础有利于基层政府更好地履行服务群众、协调矛盾、维护社会稳定等职责。(2分)

(任选其中三条经验作答即可。考生若有其他答案，言之有理可酌情给分)

【解析】本题以“枫桥经验”为背景材料，考查中国共产党的领导、国家性质、依法治国和以德治国、民主决策、

民管理、政府职能等知识,考查考生获取和解读信息、调动和运用知识、描述和阐释事物、论证和探究问题的能力。本题要求考生运用政治生活知识阐述“枫桥经验”对维护社会和谐和发展的积极作用,为影响类主观题。解答本题时,考生应选择自己最容易作答的三条经验,然后找出每一条经验中的关键词等信息,根据关键词确定相关的主体,明确作答需要用到知识点,最后将材料相关信息转化为教材理论即可。

40. (1) ①“时光博物馆”通过一个个承载回忆的时代符号,可以透视人们的精神世界和精神生活,促进文化的传承和发展。(2分) ②“时光博物馆”通过特定的文化环境,展现岁月的变迁和社会的发展,使人们在潜移默化中认识到国家和社会的巨大进步。(2分) ③“时光博物馆”让人们感受新中国70年的发展,能增强人的精神力量,丰富人的精神世界,激发人们创造未来的精神动力。(3分) ④“时光博物馆”以“家国情怀”为创意原点,弘扬爱国主义精神,有利于培育和践行社会主义核心价值观。(3分)(考生如答“‘时光博物馆’面向广大人民群众,反映人民的利益和呼声,发展人民大众喜闻乐见的文化,满足了人民群众日益增长的美好生活需要”等,言之有理可酌情给2分,但不能超过本题最高得分)

(2) 联系具有普遍性、客观性、多样性,要坚持用联系的观点看问题,善于分析和把握事物存在和发展的各种条件,从事物固有的联系中把握事物。(4分)“时光博物馆”用若干个场景将民众70年生活记忆装进博物馆之中,讲述了新中国70年家国情怀;(3分)根据事物固有的联系,恰当运用各种条件,利用现代科技,建立了过去和现在、未来的联系,使人们感受到新中国成立70年来社会的变化和进步。(3分)(考生若有其他答案,言之有理可酌情给分)

(3) 答案示例:①透视70年的变化,说明今天的发展来之不易。②社会的发展、民族的复兴赋予青年学生的历史使命。③展望未来,对明天中国的憧憬。(每条2分,共6分。本题具有开放性,考生只要围绕主题作答,言之有理可酌情给分)

【解析】本题以人民日报新媒体中心推出“2019年时光博物馆”活动为背景材料,考查文化对人的影响、民族精神、社会主义核心价值观、联系等知识,考查考生获取和解读信息、调动和运用知识、描述和阐释事物、论证和探究问题的能力。本题包含三小问,第(1)小问要求考生运用文化生活知识分析“时光博物馆”在全国巡展的意义,为意义类主观题。解答本问时,考生应首先分析设问,注意抓住“时光博物馆”和“全国巡展”这两个关键词,然后结合材料,根据“时光博物馆”里所承载的信息,确定答题的知识点为精神活动离不开物质载体、文化对人的影响、爱国主义精神、社会主义核心价值观,运用意义类主观题的答题方法,将理论与材料有机结合起来即可。第(2)小问要求考生运用联系的观点说明人民日报新媒体中心是如何打造“时光博物馆”的,为措施类主观题。本问知识指向明确,考生应先点出联系的具体理论,然后结合材料对理论进行演绎,注意理论与材料相对应,做到条理清晰、逻辑严密。第(3)小问为开放性设问,要求考生为“感悟70年巨变,争做新时代奋斗者”的演讲活动拟定三条演讲提纲,答题时考生应聚焦“建国70年”“做新时代奋斗者”这两个主题,从多个角度进行思考,注意不能偏离主题。

41. (1) 背景:传统儒学发展面临严重困境;佛道思想的冲击;韩愈等人对儒学的发展。(6分)

发展特点:把世界本源和儒家伦理结合;由客观唯心主义发展为主观唯心主义;从抑制人的主观能动性到相信人的价值。(6分)

- (2) 原因:程朱理学提倡的“格物致知”“大胆存疑”等精神符合启蒙运动宣扬理性、反对封建主义的需要。(1分)

认识:宋明理学以“三纲五常”来维持专制统治,扼杀了人的自然欲望和创造性;适应了统治阶级压制人民的需要,成为南宋以后长期居于统治地位的官方哲学;有利于塑造中华民族的性格特征,如重视主观意志,注重气节道德,自我调节、发愤图强,强调人的社会责任感和历史使命,凸显人性;对西方启蒙运动产生重大影响。(9分,其他答案言之有理即可)

【解析】本题考查宋明理学与启蒙运动,考查学生获取和解读材料信息、调动和运用所学知识、描述和阐释事物的能力。第(1)问,第一小问“背景”,可结合所学知识,从传统儒学的困境、佛道思想的冲击、韩愈等人对儒学的发展等角度考虑;第二小问“发展特点”,可根据材料并结合所学知识,从世界本源和儒家伦理结合、由客观唯心主义发展为主观唯心主义、从抑制人的主观能动性到相信人的价值等角度考虑。第(2)问,第一小问“原因”,可根据材料并结合所学知识,从程朱理学提倡的“格物致知”“大胆存疑”等精神符合启蒙运动破除封建统治的需要等角度考虑;第二小问“认识”,可结合所学知识,从积极和消极及对西方启蒙运动的影响等角度考虑,言之成理即可。

42. 示例一

评析:材料观点把罗斯福看作与胡佛是一样的“自由经济”奉行者,其实是抹杀了罗斯福对国家干预经济发展模式的创新。(2分)

罗斯福新政以前,资本主义国家大多盛行自由经济政策;胡佛就是自由经济政策的忠实信奉者,也正是自由

经济政策才致使 20 世纪 30 年代经济危机没能得到及时的遏制;罗斯福尽管在新政中保持了资本主义自由企业制度,但并没有完全奉行自由经济政策,而是以国家干预经济的方式来恢复经济的发展;罗斯福所创立的国家干预经济发展模式是一种对资本主义经济发展模式的大胆创新,说明他比胡佛更懂得宏观经济学的奥妙。(8 分)

结论:罗斯福新政在资本主义经济发展模式上完成了创新,开创了国家全面干预经济的新模式。(2 分)

示例二

评析:罗斯福新政对资本主义经济发展模式虽有所革新,但并没有改变资本主义经济发展的自由模式。(2 分)

胡佛坚持了自由政策,罗斯福新政也同样最大限度地保持了自由经济政策;尽管罗斯福新政是出于遏制经济危机的需要,但也只是对自由经济政策进行了一些修正,尤其对资本主义自由企业制度更是没有触动;材料观点把罗斯福与胡佛看作自由经济政策的奉行着,正是看到罗斯福新政的本质。(8 分)

结论:罗斯福新政虽然有所创新,但罗斯福仍是自由经济的奉行着。(2 分)

(“示例”仅供参考,不作为唯一标准答案)

【解析】本题考查罗斯福新政,考查学生获取和解读材料信息、调动和运用所学知识、描述和阐释事物、论证和探究问题的能力。作为开放性试题,首先通过阅读材料,获取材料中的观点,然后结合所学知识对材料观点进行评析,最后得出合乎所评述内容的结论。解答本题,既可针对材料中的“罗斯福并不比胡佛更懂得宏观经济学的奥妙”进行评论,又可针对材料中的“不像一些人所想象的那样是一个凯恩斯主义者”进行评论。评论时要注意史论结合、史实准确、说理充分,使答案完整有序。

13. 优势条件:旅游资源丰富;自然风光和人文景观独特;雪线较低,气候相对温暖湿润;交通较为便利。(6 分)

注意事项:携带御寒防雨衣物、登山防滑鞋、高热量食物、防晒霜、佩戴墨镜;注意行走安全,脚下踏稳和谨防高坡坠石,严禁跨越警戒线;不乱丢废弃物;携带常用药品等。(答出两点,4 分)

【解析】本题以米堆冰川为背景,考查冰川旅游的发展条件及游客前往冰川旅游时应注意的事项,同时考查学生获取和解读地理信息及调动、运用地理知识的能力。由材料可知,米堆冰川雪线较低,气候相对温暖湿润;靠近川藏公路,交通较为便利;自然风光和人文景观丰富且独特,旅游资源丰富,发展冰川旅游的条件比较好。游客进行冰川旅游时应注意的事项主要从游客安全及保护环境两方面进行作答。

14. 途径:管理不善导致油品外溢或地下油罐渗漏;清洗油罐时的污水排放;加油站地面沾染的油品经水冲刷渗入地下。(答出两点,4 分)

措施:全面开展加油站土壤与地下水污染隐患排查工作;加强加油站环境监测管理;加快推进加油站防渗设施改造工作;完善加油站选址过程中的环保准入制度等。(答出三点,6 分)

【解析】本题以加油站周边地区土壤和水污染为背景,考查加油站对土壤和水污染造成污染的途径及防治措施,同时考查学生获取和解读地理信息及调动、运用地理知识的能力。加油站对地下水和土壤产生污染主要有石油外溢和渗漏、清洗油罐时的污水排放、地表油品下渗等几种主要途径。防治措施主要从加强环境监测、完善环保准入制度以及加强加油站的平时管理等方面进行作答,合理即可。

15. (1) 主要举措:制定经济法规,加强经济立法;改革财税和金融体系;奖励、扶植民营企业;提倡利用外资。(6 分,答出三点即可)

(2) 意义:为近代中国的资本主义经济法制体系奠定了基础;有利于改善民国时期的资本主义经济秩序;一定程度上推动了近代中国农工商业的发展,适应了近代中国资本主义发展的需要。(9 分)

【解析】本题考查民国初年张謇经济改革,考查学生获取和解读材料信息、调动和运用所学知识、描述和阐释事物的能力。第(1)问“主要举措”,根据材料中“张謇共颁布和制定法律、条例二十余种”等信息可得出制定经济法规,加强经济立法;根据材料中“《证券交易所法》”“金融”等信息可得出改革财税和金融体系;根据材料“主张对民营企业采取‘提倡、保护、奖励、补助’的保育主义政策”可得出奖励、扶植民营企业;根据材料“张謇在农商部《关于利用外资振兴实业办法给大总统呈文》中,又拟就引用外资的具体办法;主张采取合资、借贷、代办三种形式”可得出提倡利用外资。第(2)问“意义”,结合上问中的“主要举措”和所学知识,从近代中国的资本主义经济法制体系、民国时期的资本主义经济秩序和中国农工商业的发展等角度作答。

16. (1) 原因:德意法西斯的侵略扩张严重损害了美国的国家利益;欧洲是美国最主要的投资地;罗斯福准确地把握当时的形势,力排众议;中国人民的浴血抗战使日军主力受制于中国战场,客观上支持和配合了“先欧后亚”战略的实施。(6 分,答出三点即可)

(2) 评价:“先欧后亚”战略是美国全球战略和国际主要矛盾发展的必然结果,既体现了美国的局部利益,也反映了争取反法西斯战争胜利的客观规律,符合世界人民的共同利益;有利于集中优势兵力围歼德国法西斯。

得欧亚两线作战的胜利,最终战胜法西斯;但在一定程度上削弱了中国战场的地位,导致中国抗战得不到更多的外来援助。(9分)

【解析】本题考查二战中美国的“先欧后亚”战略,考查学生获取和解读材料信息、调动和运用所学知识、描述和阐释事物的能力。第(1)问“原因”,根据材料中“1938年以后,随着德意法西斯在欧洲连连得手,其征服世界的面目暴露无遗。希特勒不仅获得了欧洲巨大的军事、地理优势,威胁到美国在世界范围内的经济利益,甚至还将手伸进了美国的‘后院’——拉美,成了美国的直接竞争对手”等信息可得出德意法西斯的侵略扩张严重损害了美国的国家利益;根据材料中“截至1941年,美国在欧洲的直接和间接投资总计达200600万美元,在亚洲和大洋洲的投资仅为85300万美元”等信息可得出欧洲是美国最主要的投资地;根据材料中“1939年11月罗斯福签署的新中立法中将取消武器禁运条款改为‘现金购货运输自理’”“罗斯福最终力底战胜了孤立主义,‘先欧后亚’战略得以坚定地贯彻执行”等信息可得出罗斯福准确地把握当时的形势,力排众议;结合所学中国抗日战争的史实可得出中国人民的浴血抗战使日军主力受制于中国战场,客观上支持和配合了“先欧后亚”战略的实施。第(2)问“简评”,结合材料信息和所学知识,从美国全球战略、世界反法西斯战争和中国战场等角度作答。

17. (1)主要内容:将农业发展置于首位;重视发展工商业;轻租税,薄赋敛。(6分)

(2)评价:管子富民思想的最终目的是得民心,霸天下,顺应了战国时期诸侯争霸的需要;有利于减轻百姓负担,调动百姓的生产积极性,促进社会经济的发展;有利于缓和阶级矛盾、稳定社会秩序。(9分)

【解析】本题考查管子的富民思想,考查学生获取和解读材料信息、调动和运用所学知识、描述和阐释事物的能力。第(1)问“主要内容”,根据材料中“在《国蓄》篇中提出‘五谷食米,民之司命也’,民以食为天,粮食对人民的生存至关重要,认为粮食生产是人民的根本”“以农业发展为本”等信息可得出将农业发展置于首位;根据材料中“对‘末’也就是工商业采取的是整顿管理的态度,二者不可偏废”“为了更好地发展工商业,《管子》提出了‘四民分业定居’的制度”等信息可得出重视发展工商业;根据材料中“《管子》认为繁重的税赋是人民极大的负担,‘人甚忧饥,而税敛重。人甚惧死,而刑政险。人甚伤劳,而上举事不时。公轻其税敛,则人不忧饥。缓其刑政,则人不惧死。举事以时,则人不伤劳’”等信息可得出轻租税,薄赋敛。第(2)问“评价”,结合材料信息和所学知识,从管子富民思想的最终目的、对百姓和社会的影响等角度作答。