

2019 年高中毕业年级第二次质量预测

文科综合试题卷

本试卷分选择题和非选择题两部分。考试时间 150 分钟,满分 300 分。考生应首先阅读答题卡上的文字信息,然后在答题卡上作答,在试题卷上作答无效。交卷时只交答题卡。

第 I 卷

本卷共 35 个小题,每小题 4 分,共 140 分。在每小题给出的四个选项中,只有一项是符合题目要求的。

图 1 为石家庄市及周边地区等高线地形图,图 2 为石家庄市 2015 年 12 月 25 日气象要素逐时演变示意图。读图完成 1~3 题。

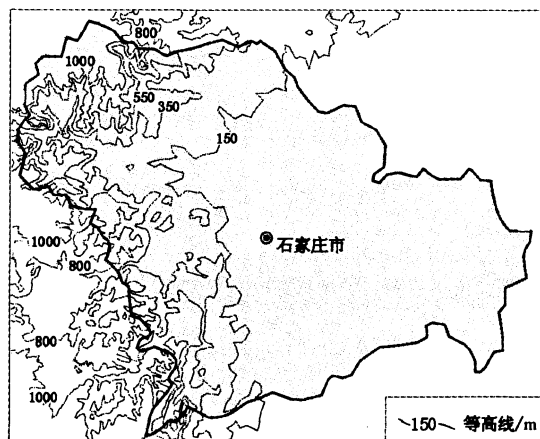
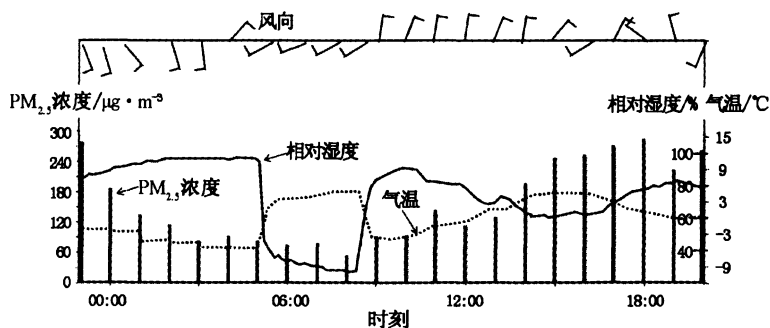


图 1



注:相对湿度,指空气中水汽压与相同温度下饱和水汽压的百分比。

图 2

1. 该日石家庄市

A. 0~4 时,相对湿度降低

B. 5~8 时,气温降低

C. 4~5 时,由东北风转向西南风

D. 15~16 时,由东南风转向西北风

2. 导致石家庄市该日 5~8 时气温变化的天气过程最可能是
- A. 冷锋过境 B. 暖锋过境 C. 反气旋过境 D. 焚风过境
3. 该日 5~8 时, 该地 PM_{2.5} 浓度暂时降低的原因最可能是该时段
- A. 降雨过程明显, 净化作用显著 B. 盛行下沉气流, 颗粒物尘降地面
- C. 正值上班高峰, 汽车尾气排放多 D. 工厂还未开工, 工业废气排放少

人口年龄结构对区域发展至关重要, 其中 20~39 岁黄金年龄劳动力最具经济活力。读我国某市 1990~2015 年不同年龄段人口占全国同年龄段人口比重统计表(表 1), 完成 4~5 题。

表 1

年份	年龄段	年龄段人口占全国同年龄段人口比重
1990 年	0~19 岁	2.31%
2010 年	20~39 岁	1.81%
2015 年	25~44 岁	1.96%

4. 该市
- A. 1990~2010 年青壮年比重持续上升
- B. 1990~2015 年老龄化程度不断减轻
- C. 1990~2010 年黄金年龄劳动力大量迁入
- D. 2010~2015 年有经验的劳动力出现回流
5. 据此推断, 2010 年后该市
- A. 基础设施改善 B. 生态环境趋好
- C. 生活成本降低 D. 就业机会增多

全程机械化是现代玉米生产的发展方向, 机械粒收是我国发展玉米全程机械化的瓶颈。我国黄淮海地区玉米收获时, 籽粒含水率通常在 30%~40%, 难以满足机械粒收籽粒含水率低于 28% 的要求。美国玉米机械粒收高峰期迟于生理成熟高峰期约 1 个月, 收获时籽粒含水率一般降低至 15%~25%, 而华北地区在现有种植模式下通过推迟收获期降低籽粒含水率的力度有限。读黄淮海地区夏玉米播种时间分布图(图 3), 完成 6~8 题。

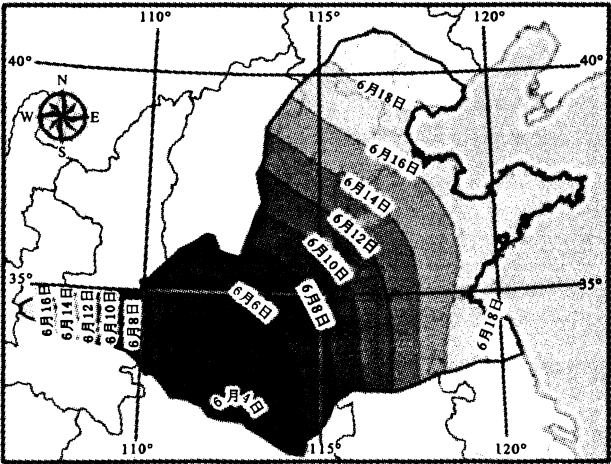


图 3

6. 导致陕西西部与河南东部夏玉米播种时间差异的主要因素是
- A. 纬度位置 B. 海陆分布 C. 地形地势 D. 人类活动
7. 与美国相比,该区域通过推迟收获期来实现机械粒收的力度有限,其主要原因是该地
- A. 热量不足 B. 人口稠密 C. 复种指数较高 D. 技术水平较低
8. 从气候条件考虑,最适宜推广机械粒收技术的地区是
- A. 豫南 B. 鲁东 C. 冀北 D. 皖北

互花米草原产于北美洲,多生长于潮间带,其繁殖体包括种子、根状茎和断落的植株。1982年我国江苏沿海地区开始引种互花米草,并很快成为全国最大的互花米草分布区。互花米草在保滩护堤、促淤造陆等方面作用显著,但目前由于其快速扩张,产生了很多的负面效应。读1992~2012年江苏某沿海地区互花米草滩和潮沟位置及分布变化示意图(图4),完成9~11题。

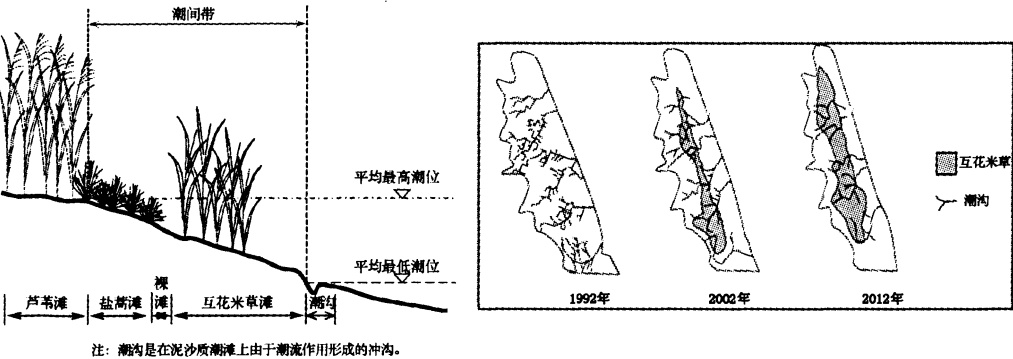
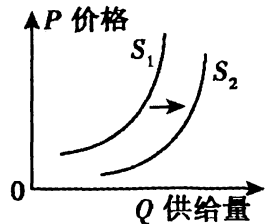


图 4

9. 1992~2012 年,该地区潮沟数量变化的主要原因可能是互花米草可以
- A. 增强风浪,减弱潮沟的海水侵蚀
- B. 削减风浪,加强潮沟的泥沙淤积
- C. 抬高潮位,减轻潮沟的海水侵蚀
- D. 降低潮位,加强潮沟的泥沙淤积
10. 互花米草快速扩张可能会
- A. 改良水质 B. 改善本土生态
- C. 加剧水土流失 D. 威胁滩涂养殖
11. 为减轻互花米草带来的负面效应,下列措施中不可行的是
- A. 大量剪除植株,减少数量 B. 遮盖植株,削减光合作用
- C. 采用专业机械,破坏根系 D. 围塘蓄水,使其根系腐烂
12. 随着经济社会的发展,鲜花越来越成为年轻人的日常悦己方式,鲜花消费由礼品型消费向日常消费转变。在此背景下,若其他条件不变,能引起鲜花市场出现下图中的曲线移动的是

- ①注重生活品质提升,鲜花需求增加
- ②采用先进种植技术,劳动效率提高
- ③国家扶植鲜花产业,吸引更多投资
- ④鲜花冷链运输成熟,送达更加便捷

- A. ①② B. ①④
C. ②③ D. ③④



13. “让小萝卜拉动大产业”,天津市南运河畔小沙窝村依靠当地萝卜种植资源发展特色产业,改良品种,积极推进沙窝萝卜的绿色、有机认证,创办农业专业合作社,借助互联网平台,联合生产、统一销售,成功实现了当地村民致富。小沙窝村的成功经验是

- ①融合线上线下资源,拓展发展空间 ②明晰土地产权,维护农民权益
- ③落实城乡融合政策,发展集体经济 ④提高产品质量,打造产品品牌

- A. ①③ B. ①④ C. ②③ D. ②④

14. 2018 年,我国继续坚持“放水养鱼”政策,深入推进减税降费,全年减税降费规模约 1.3 万亿元。与此同时,全国一般公共预算收入同比增长 6.2%。下列推导正确的是

- ①解决企业融资问题 ②企业税费负担减轻 ③税收来源和规模扩张
- ④企业创新活力增强 ⑤经济建设支出增加 ⑥财政赤字率大幅提高

- A. ②→④→③ B. ⑥→⑤→④ C. ②→①→③ D. ⑤→①→⑥

15. 近三年来,我国高技术制造业利用外资总额及增长率的变化如下表所示。据此可以推断出

年份 指标	2016 年	2017 年	2018 年
总额(亿元)	598.1	665.9	899.6
增长率	2.5%	11.3%	35.1%

- ①我国对外贸易发展的质量和效益进一步提升
- ②我国高技术制造业的对外开放程度不断提高
- ③外资机构看好我国高技术制造业的市场潜力
- ④外资对推动我国经济高质量发展起基础作用

- A. ①③ B. ①④ C. ②③ D. ②④

16. 2019 年 3 月 5 日,国务院总理李克强在《政府工作报告》中指出,建立政务服务“好差评”制度,服务绩效由企业和群众来评判。建立政务服务“好差评”制度旨在

- ①明确政府服务内容,健全公共服务体系
- ②大力推进政务公开,提高政府监管效能
- ③把对政务服务质量考核权还给服务对象
- ④深化“放管服”改革,打造好发展软环境

A. ①②

B. ①③

C. ②④

D. ③④

17. 电视剧《亮剑》中的李云龙给无数人留下深刻印象,李云龙敢于担当、冲在前面,出错摔跤的可能性增加,遇到“泛化问责”容易被误伤。能否发现和用好“李云龙式”干部,不仅关系到调动广大干部干事的积极性,也是一个地方为担当者担当、为干事者撑腰的重要标尺。习近平总书记指出,“干部干部,干是当头的”。下列做法中有利于培养“李云龙式”干部的是

①完善干部监督体系,发挥社会监督的重要作用

②加强干部干事的容错制度建设,让干部敢干事

③放松对干部选拔的标准,开创干部任用新局面

④完善干部考核评价机制,鼓励干部大胆创新探索

A. ①②

B. ①③

C. ②④

D. ③④

18. 在第二十六次亚太经合组织工商领导人峰会上,习近平主席发表题为《同舟共济创造美好未来》的主旨演讲,宣示了中国改革开放 40 年的成果,再次重申中国开放的大门将越开越大,再度呼吁旗帜鲜明抵制保护主义,全面构建开放、包容、普惠的全球化贸易体系。上述材料

①向全世界展示了中国的负责任形象和大国的担当精神

②表明中国顺应了经济全球化、世界多极化的时代潮流

③说明了贸易保护主义成为当今世界和平与发展的主要障碍

④强调以经济和科技实力为基础的综合国力的较量日趋激烈

A. ①②

B. ①④

C. ②③

D. ③④

19. 被誉为中国首部硬科幻电影的《流浪地球》,极大地满足了民众对中国科幻电影的期待。不同于好莱坞叙事模式中的超级英雄拯救世界,该电影讲述了人类共同改变自己命运的故事,用细腻真实的特效镜头表现了中国独特的故土情结、宏大的家国情怀和国际合作理念,拓展了人类憧憬未来的视野,震撼了无数影迷。这启示文艺工作者

①传承优秀传统文化,增强文化自信 ②抵制外来文化影响,加强文化自觉

③着眼人民文化需求,促进文化创新 ④利用现代科技优势,推动文化交流

A. ①②

B. ①③

C. ②④

D. ③④

20. 在 2019 年央视网络春晚舞台上,外形、声音和主持风格与真人撒贝宁极其相似的人工智能主播“小小撒”参与掌控现场,妙语连珠,引得全场阵阵惊呼。人工智能技术正深刻改变着人们的生产、生活方式,担任的角色愈发丰富且多变,实现了一个个不可能,不断刷新着我们的认知。有人担心,机器人的进化速度比人类想象的快,它们的终极目标将是不可预测的。对此认识正确的是

①人工智能没有自觉的意识,不懂得自己活动的意义

②人的意识具有主动创造性,直接创造了智能机器人

③结构复杂的人脑和人工智能设备是有着本质区别的

④人的意识活动能够使人们的实践活动获得无限自由

A. ①③

B. ②③

C. ①④

D. ②④

21. 2018年11月,我国申报的非遗项目“藏医药浴法——中国藏族有关生命健康和疾病防治的知识与实践”经评审被列入联合国教科文组织人类非物质文化遗产代表作名录。该遗产项目既体现了藏民防病疗疾的民间经验,又是传统藏医理论在当代健康实践中的继承和发展。“藏医药浴法”申遗成功既为藏族人民提供了持续的认同感,又丰富着人类的健康知识与实践。“藏医药浴法”

①是对我国藏族人民疾病防治实践和认识的总结

②根源于我国藏族民间经验和传统藏医理论研究

③申遗成功能够进一步推动人类健康事业的发展

④是在实践中获得的对生命健康规律的完整认识

A. ①②

B. ①③

C. ②④

D. ③④

22. 在习近平强军思想引领下,为了适应新时代作战要求,人民军队聚焦强军目标,踏上强军兴军新征程。陆军研战谋战、全域作战;海军舰艇部队联合军演、远航锤炼;空军部队“空天一体、攻防兼备”……在实现中国梦强军梦的伟大征程上,人民军队正书写恢弘壮丽的时代篇章。上述材料体现的哲理有

①矛盾的同一性是绝对的,斗争性是相对的

②矛盾的斗争性和同一性相互联结、相互吸引

③任何事物都是共性与个性、一般与个别的统一

④普遍性寓于特殊性之中,通过特殊性表现出来

A. ①②

B. ①④

C. ②③

D. ③④

23. 80后乡村教师张玉滚说:“我愿意做一轮明月,守望这片希望之花,照亮山村孩子走出大山的路。”黑虎庙村是河南省南阳市镇平县的深度贫困村,他扎根黑虎庙小学17年,任劳任怨,先后教过500多名孩子,培养出16名大学生,村里没有一个孩子失学。张玉滚被中共中央宣传部授予“时代楷模”称号,并入选“2018感动中国”人物。张玉滚的事迹表明

①顽强拼搏能够让理想摆脱条件制约而变为现实

②人生价值的实现需要积极发挥人的主观能动性

③坚定的理想信念是人们实现人生价值的客观条件

④投身为人民服务的实践是实现人生价值的必由之路

A. ①③

B. ②③

C. ①④

D. ②④

24.《韩非子》一方面认为民众的本性是“恶劳而好逸”,要以严刑峻法来约束民众;另一方面又主张君主应当减轻人民的徭役和赋税。这反映出,《韩非子》

A. 深受荀子人性论的影响

B. 主张统治阶级实施“仁政”

C. 推动了小农经济的发展

D. 意在加强和维护君主权力

25. 汉初政府“无为而治”，中央对地方王国事务不多加干涉。诸侯国享有较大的政治、经济自主权，于是各国竞相安抚百姓，因地制宜，发展生产。这表明，汉初郡国制

- A. 有助于国家统一和巩固
- B. 促进了王国的稳定和发展
- C. 适应了君主专制的需要
- D. 协调了中央与地方的关系

26. 宋代的盐、茶、酒等是政府专卖的禁榷商品。与前代禁榷商品的生产、运输、销售全由官方经营不同，宋代把一些不适合官府经营的环节，转让给民间工商业者或普通百姓经营。材料表明宋代

- A. 放松对民间商业的限制
- B. 政府的专卖政策受到了冲击
- C. 商业管理政策更加实际
- D. 民营手工业者经营能力提高

27. 清雍正帝废除了预立嫡长子为太子的做法，改行秘密立储制。被选者不分嫡庶长幼，惟以统治才能和是否最符合根本的统治利益为准；立储密旨在皇帝临终前或去世后才公布，公布后新君立即即位。这一做法

- A. 反映古代政治体制发展趋势
- B. 表明清代嫡庶观念日益淡化
- C. 确保了清代皇帝的政治素质
- D. 意味着宗法制度的逐步瓦解

28. 洋务派在 1865 年以后创办的军事工业中，普遍实行雇佣劳动。工人的工资基本上是按照技术高低而定，劳动强度虽然很大，但加班作业，亦加给工资。这表明当时的洋务企业

- A. 注重保障工人权益
- B. 已脱离落后因素的影响
- C. 具有资本主义因素
- D. 主动引进西方先进技术

29. 1903 年，梁启超在《论太平洋海权及中国前途》中提到“所谓帝国主义者，语其实则商国主义也。商业势力之消长，实与海上权力之兴败为缘。”材料反映梁启超

- A. 对帝国主义本质有初步认识
- B. 强调与外国人进行商业争夺
- C. 认为海权决定海上商业发展
- D. 意在强调海权对国家的重要

30. 抗战时期中国抗战电影海外传播一览表(部分)

国家	片名	发行方式
美国	《热血忠魂》	赠送
	《八百壮士》	
苏联	《精神总动员》	赠送
	《热血忠魂》	赠送
新加坡	《抗战特辑》	出售版权

据上表可知，抗战电影在海外传播

- A. 有助于反法西斯同盟的建立
- B. 鼓舞了国内军民的抗战意志
- C. 表明政府注重国际形象的构建

D. 体现政府与美苏关系更为密切

31. 右图为五十年代初画家李琦表现社会主义农业现代化的宣传画《越走越快》，该作品反映出当时

- A. 我国初步实现了工业化
- B. 传统的耕作方式占主体
- C. 农业社会主义改造完成
- D. 小农经济仍然占据主导

32.《雅典政制》记载，抽签选举后，官员任职前需要完成一张“考核项目清单”，内容包括：直系亲属的姓名以及其中男性亲属所在的村社名称……是否善待双亲；是否纳税；是否服兵役。该规定

- A. 强调了维护公民团体的权利
- B. 违背了雅典的直接民主原则
- C. 注重对官员施政能力的考察
- D. 表明血缘政治仍然根深蒂固

33. 从 17 世纪 90 年代起，英国政府采取措施严格阻止印度印花布的输入，从而保护本国的纺织业。同时不断提高关税水平，打击潜在竞争对手法国。这


- A. 反映了英国对殖民地的经济压迫
- B. 客观上有利于英国资本原始积累
- C. 表明英国棉纺织业技术水平低下
- D. 揭示了资本主义国家间矛盾重重

34. 1947 年 6 月，美国颁布了新的《劳资关系法》，限制工人参加工会，禁止全国性同业工人集体谈判和共产党员担任工会领导职务；规定工会罢工前须先发通知并静候政府调查。罗斯福新政以来工人的权利被剥夺殆尽。这一法案

- A. 表明美国已经走出经济危机
- B. 意在消除罗斯福新政的影响
- C. 导致美国工人运动持续低迷
- D. 受到了美国国际战略的影响

35. 世界经济论坛主席施瓦布在 2019 年指出：当前越来越多的选民要求从全球势力手中收回控制权（主权）。这并不是要通过保护主义和民族主义来孤立各个经济体，而是要求各国建构新的机制保障民众利益，并对世界保持开放。这说明

- A. 逆全球化现象的泛起
- B. 霸权主义和强权政治依然盛行
- C. 经济全球化亟待深入
- D. 革新国内政治是全球化的前提



第 II 卷

本卷包括必考题和选考题两部分。第 36 题至第 42 题为必考题，每个试题考生都必须作答。第 42 题至第 45 题为选考题，考生根据需求作答。

36. (24 分) 阅读图文材料，完成下列要求。

迪拜(见图 5)作为区域金融、航运中心，油气资源匮乏，电力供应绝大部分依靠进口天然气发电。为打造成世界商业、工业和创新中心，迪拜以国际标准大力发展水电、太阳能发

电、清洁煤电及核电。2016 年 12 月迪拜启动哈斯彦清洁燃煤电站项目(见图 6),该项目云集了设计、制造、建造等多领域的中国企业。项目建成后将为 2020 年迪拜世博会提供电力保障,并在全部投入运营后为迪拜提供 20% 的电力。

哈斯彦清洁燃煤电站项目距迪拜市中心 30 多公里的西南海岸附近,紧邻迪拜野生动物自然保护区。项目施工海域内有大量珊瑚,海域前的海滩上有一片潟湖,潟湖中生活着多种鱼类,但在施工阶段被作为沉淀池使用。

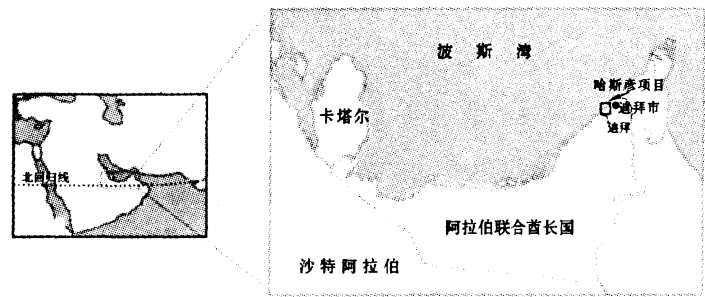


图 5




图 6

- (1) 简述迪拜建设清洁燃煤电站的主要原因。(6 分)
- (2) 说出迪拜选择与中国合作开发该项目的理由。(8 分)
- (3) 分析该项目建设过程中需要克服的不利地理条件。(6 分)
- (4) 推测中国企业在施工过程中为保护当地生态环境需采取的具体措施。(4 分)

37. (22 分) 阅读图文材料, 完成下列要求。

纳特龙湖(见图 7)是一个主要依靠周边河流及火山温泉补给的内流湖, 该湖位于肯尼亚和坦桑尼亚交界处, 湖面长约 57 公里, 宽 22 公里。雨季时, 湖面面积可达 900 平方公里, 旱季时, 湖面有 60%~70% 的面积干涸, 成为一个个互不相连的水洼。由于含有特殊的火山熔岩成分, 湖水有高盐碱、高毒性的特点, 而高盐碱湖水是大量藻类理想的生长环境。盐湖周边高度盐碱化的土壤及湖面上挥发的有毒气体不适合大多数生物存活, 但小火烈鸟却适应了这样严酷的环境并得以在这里生存繁衍。

小火烈鸟主要栖息在盐水湖泊、沼泽等浅水地带, 并以水中藻类为食。纳特龙湖被誉为“小火烈鸟的摇篮”, 常年有 100 万到 200 万只小火烈鸟栖息。每年几乎所有的小火烈鸟分批迁徙到纳特龙湖并在盐湖中部露出水面的高地建巢繁殖, 使这里成为小火烈鸟唯一的繁殖地。2018 年, “厄尔尼诺”现象和强台风带来 14 年来最大的降雨量, 造成十几年最大的洪灾, 纳特龙湖中的小火烈鸟繁殖受到灾难性冲击, 面对强碱性湖水的侵袭, 没有防护能力的鸟蛋无法孵化。

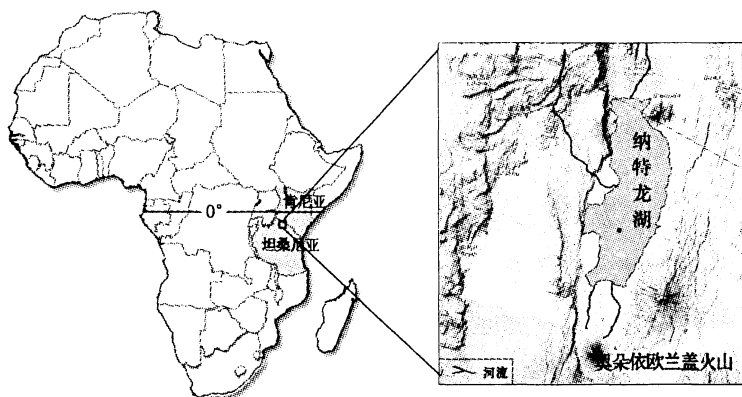


图 7

- (1)运用水循环原理,说明纳特龙湖湖水盐碱度高的主要原因。(8 分)
- (2)分析纳特龙湖成为“小火烈鸟摇篮”的主要原因。(6 分)
- (3)推断纳特龙湖小火烈鸟繁衍面临的潜在自然威胁。(4 分)
- (4)纳特龙湖中富集丰富的晶碱石,可以用于生产纯碱和工业用盐,同时还可以为饮料厂提供苏打粉。有人反对在纳特龙湖周边地区建立大量的化工厂,请明理由。(4 分)

38. (26 分)阅读材料,完成下列要求。

粤港澳大湾区是我国开放程度最高、经济活力最强的区域之一,在国家发展大局中具有重要战略地位。建设粤港澳大湾区是新时代推动形成全面开放新格局的新举措,也是推动“一国两制”事业发展的新实践。

材料一 粤港澳大湾区地处我国沿海开放前沿,香港、澳门的金融、贸易、航运等服务业发达,广州、深圳在商贸物流、新兴产业方面实力雄厚,珠三角已初步形成以战略性新兴产业为先导、先进制造业和现代服务业为主体的产业结构。粤港澳拥有多家国际知名的高等院校,拥有健全的司法和知识产权保护制度。同时,粤港澳大湾区是国际航线要冲,具有侨乡、英语和葡语三大文化资源,是中国与海上丝绸之路沿线国家海上往来距离最近的经济发达区域,企业可以联手走出去,在国际产能合作中发挥重要引领作用。随着广深港高铁、港珠澳大桥开通,粤港澳在教育、文化、旅游、社会保障等领域不断深化合作,努力打造宜居宜业宜游的优质生活圈。

材料二 推进粤港澳的深度融合发展,也面临诸多挑战。粤港澳虽然都是市场经济,但“一国、两制、三关税区”,社会制度不同、法律体系不同;市场互联互通的水平、生产要素的高效流动有待进一步提升;经济运行仍存在产能过剩、供给与需求结构不平衡不匹配等突出问题。为此,党中央提出坚持用法治化市场化方式协调解决大湾区合作发展中的问题。

- (1)结合材料一并运用经济生活知识,分析粤港澳大湾区建设应如何推动我国经济的高质量发展。(14 分)
- (2)结合材料二并运用政治生活知识,说明党中央提出坚持用法治化市场化方式协调解

决大湾区合作发展中问题的原因。(12分)

39.(26分)阅读材料,完成下列要求。

意识形态关乎旗帜、关乎道路、关乎国家政治安全。

随着改革开放的不断深入,社会结构深刻变动,利益格局深刻调整,人们的思想观念和价值取向呈现多元化趋向。在以数字技术为基础、网络为载体的全媒体时代,传统媒体和新兴媒体融合发展,舆论生态、媒体格局深刻变化。主流媒体如何做好意识形态宣传工作成为重要的时代课题。

人民日报社开设电子阅报栏,建设宣传品牌,及时提供更多真实客观、观点鲜明的内容,传播党的声音;学习强国 APP 有“学习新思想”“学习文化”“环球视野”等 17 个板块,打造学习宣传习近平新时代中国特色社会主义思想 and 党的十九大精神全面、丰富的信息库;光明日报全媒体重视平台建设,将时下流行的 H5、AR 与 VR 等技术融入其中,统筹报、网、端、微、屏各种资源,形成宣传合力;央视网综合运用文字、图片、音频、视频等形式,生动、立体地阐释着中国故事;新华网立足实践,将晦涩的专业性话语转变为通俗的生活化语言;中央广播电视总台央视新闻新媒体在 2019 年两会报道中精心打造“独家 V 观”、特稿、VR 全景等时政类融媒体产品,展现大国领袖魅力风采、传递两会声音,点击和阅读收看量屡创新高……

新时代,做好意识形态宣传工作,主流媒体要做好理论被群众掌握的工作,让群众的思考能力与对新时代理论的理解力结合起来,凝聚成砥砺奋进新时代、同心共筑中国梦的磅礴力量,使人民群众投入到社会主义现代化建设的伟大实践当中。

(1)运用文化生活知识并结合材料,探究在媒体融合的背景下主流媒体应如何做好意识形态宣传工作。(10分)

(2)新时代坚持和发展中国特色社会主义,必须重视意识形态工作。结合材料,运用社会存在与社会意识的辩证关系加以说明。(10分)

(3)在媒体融合的背景下,请就青年学生如何在意识形态领域弘扬正能量提出三条建议。(6分)

40.(25分)阅读材料,完成下列要求。

材料一 中国古代形成了行政城市层级体系,城市的行政地位越高,城市也就愈能得到发展。城市管理亦是如此,如国家重京城,既设有复杂的管理机构,又颁布了大量法律进行管理。而在基层社会组织中,则是以民间法形式实施管理的。大体上包括行会法、慈善组织规则及城市街坊组织规则和习惯法。城市是统治乡村的据点,并无自治地位,而城市在经济上也严重依附乡村,城市统治者兼管乡村和城市,使得城市没有独立的行政地位,城市基层组织与农村的基层组织也大致相同,也不存在西方中世纪那样完备的城市管理法。

——摘编自郭雪飞《传统到近代:中国城市管理理念的演变》

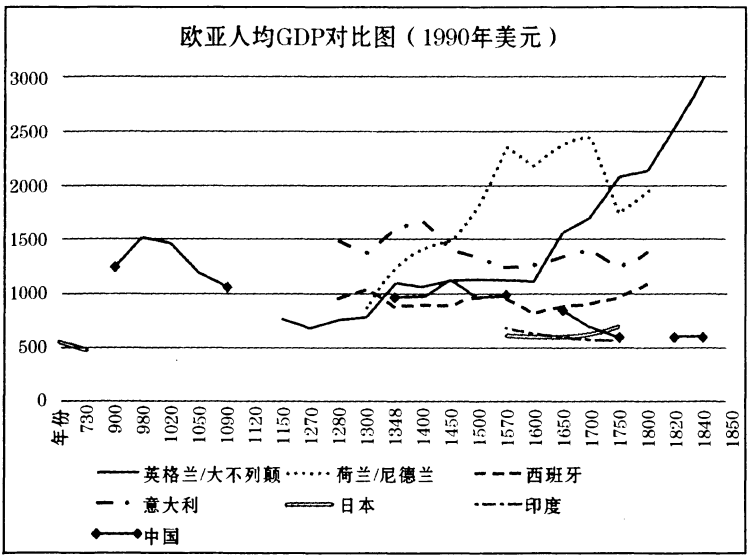
材料二 晚清时期,伴随着开埠通商,中国城市尤其是通商口岸城市经济发展,人口增加,传统的城市体制已不能适应城市发展和维护国家主权的需要。戊戌变法时期,康有为主张开办警政管理城市,还设立了商务局等经济管理机构。清末新政时期,警察机构开始在城市广泛设立。中央成立了商部,制定了商法,近代城市工商业经济的管理机构也开始建立,城市管理法律体系初步确立。张之洞、梁启超、张謇等在租界示范效应的影响下,积极推动地方自治。城市自治章程的颁布和实施,打破了原来城乡合治的管理体制。

——摘编自周执前《国家与社会:清代城市管理机构与法律制度变迁研究》

- (1)根据材料一并结合所学知识,概括中国古代城市管理的特点并分析其成因。(12分)
- (2)根据材料二并结合所学知识,简述晚清时期城市管理体制发生的变化并指出其推动因素。(13分)

41. (12分) 阅读材料,完成下列要求。

材料



(注:“GDP”,即国内生产总值,是当前衡量某个国家和地区经济发展水平的一个重要指标。)

——摘自李稻葵,金星晔,管汉晖《中国历史 GDP 核算及国际比较:文献综述》

结合上表反映的发展趋势,指出它所反映的历史问题,并结合中外历史加以阐述。

请考生在第 42、43 两道地理题中任选一题做答,如果多做,则按所做的第一题计分。做答时用 2B 铅笔在答题卡上把所选题目的题号涂黑。

42. (10分)【地理—选修3:旅游地理】

燕山—太行山片区(见图8)总面积约为9.3万平方公里,位于燕山和太行山两大山脉

腹地。该片区自然条件恶劣,资源匮乏,是北方游牧文化与中原农耕文化相互交融地带。因其特定的地理环境和时代特征,燕山—太行山片区大力发展旅游来脱贫致富。

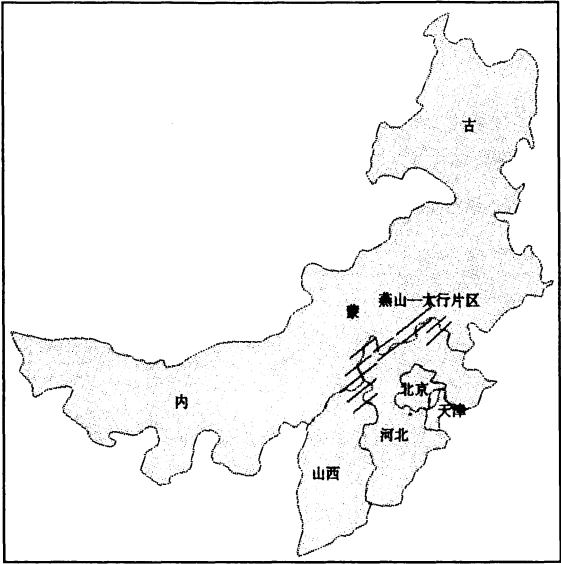


图 8

说明燕山—太行山片区为脱贫致富大力发展旅游的主要原因。

43. (10 分)【地理—选修 6:环境保护】

实心粘土砖俗称红砖,是传统的墙体材料。红砖的生产需要大量粘土,其生产主要包括挖表层粘土、和泥、压制成型、干燥、高温烧制等工序。目前国家已经全面取缔红砖,同时大力推广以粉煤灰、煤矸石、石粉、炉渣、竹炭等为主要原料的新型墙体材料。

分析我国推广新型墙体材料替代红砖的主要原因。

请考生在第 44、45、46 三道历史题中任选一题作答,如果多做,则按所做的第一题计分。作答时用 2B 铅笔在答题卡上把所做题目的题号涂黑。

44. (15 分)【历史——选修 1:历史上重大改革回眸】

材料 隋文帝统一度量衡面对的是南北朝两种不同的制度,即:南朝“梁陈依古”、“宋、齐、梁、陈皆因而不改”,但大体也皆如秦汉制度,代表了一种尊古的礼乐思想。北朝度量衡的混乱和量值的大幅增长,约相当于南方的一尺二寸。传统的古制和急速增长的大制相对立。如将北方早已习用的制度改为南方的小制,很难让北方官民接受,在社会生产力不断提高的前提下,使用已延续数百年的古(小)制,已不适应生产力的发展。如改用北朝大制,强制废除小制,必然会遭到士族阶层的反对。在隋文帝的主持下,制定出大小制度同时并用的方案;小制用于皇室宫廷礼乐制度等,大制为官民之间日常所用,并且大小制之间还制订出简便的换算关系。各地纷纷贯彻执行,如冀州刺史“为铜斗铁尺,置之于肆,百姓便之”。

隋统一度量衡的方案和措施,几乎完全被唐朝承袭,而大制更一直沿用到清朝末年。顾炎武评价说:“三代以来,权量之制,自隋文帝一变”。

——摘编自丘光明《中国度量衡史上的三次大统一》

(1)根据材料,指出隋朝度量衡改革的特点。(6分)

(2)根据材料并结合所学知识,简析隋朝度量衡改革的意义。(9分)

45.(15分)【历史——选修3:20世纪的战争与和平】

材料 二战结束后,美国在南亚政策的重心在印度和巴基斯坦,她有两个并行不悖的目标,那就是一要促成印巴和解,稳定南亚局势,从而稳固封锁共产主义链条中的南亚这一环;二是要尽可能使印度放弃中立,进入西方阵营。美国带着这个构想介入南亚,在经济、军事上对印巴进行了大量的援助,同时政治上基本站在巴的一边,积极调解印巴争端。但为了不影响与英国的关系,在涉及南亚事务时,美国总是视之为英国的传统区域,尽可能将英国或联合国推向前台。但事实表明,她远远低估了印巴间深刻的敌对情绪。任何于对方有利的举动必定被视为对己方的威胁,携手对付所谓的共产主义威胁只能是美国的一厢情愿。印度建国后坚持不结盟的外交政策,强烈反对美对巴军事援助,认为这将把冷战带到印度自己的边界。为抵制美印在中印边界战争后的接近,巴基斯坦不断发展与中国的关系。事实上,美国的两个目标一个也没有实现。只是在中印关系恶化后,一定程度上达到了其期望的对共产主义,特别是对中国的遏制作用。

——摘编自常利锋《第二次印巴战争对印巴美三角关系的影响》

(1)根据材料并结合所学知识,简析美国“印巴构想”难以实现的原因。(8分)

(2)根据材料并结合所学知识,评价美国“印巴构想”的影响。(7分)

46.(15分)【历史——选修4:中外历史人物评说】

材料 刘铭传(1836年—1896年),安徽肥西人。光绪十一年(1885年)十月台湾建省,刘铭传成为首任巡抚。到任之后,面对“台湾孤悬海外,屏障东南,久为外人所窥伺”的严重局面和民族关系复杂的实际情况,提出了“办防”“练兵”“清赋”“抚番”四大政策,在积极规划台湾开发的同时尤其重视处理民族关系。刘铭传认为“中华立国在民,爱民斯为邦本”,因此“民番皆朝廷赤子”,主张一视同仁、体恤当地民族,设立招垦局和番学堂,教番民耕种,学习汉族文化和礼仪制度。对负隅顽抗、反复叛乱的番人头目则派兵征剿。刘铭传抚台六年,功勋卓著,被誉为台湾“近代化之父”。

——摘编自赵松林《试论刘铭传的民族关系思想》

(1)根据材料并结合所学知识,指出刘铭传的民族关系思想的特点。(6分)

(2)根据材料并结合所学知识,简评刘铭传的民族关系思想。(9分)