

闭卷考试

一、单项选择题(请把正确答案填写在答题卡上,每小题 2 分,共 50 分)

图 1

- D. 南半球、东半球

- D. 大西洋 北冰洋 太平洋

图 2

3. 导致甲、乙两地气候差异的主要因素是

- A. 纬度位置 B. 海陆位置
C. 地形地势 D. 人类活动

4. 甲地比丙地降水多的主要原因是甲地

- A. 纬度较低 B. 距海较近
C. 受季风影响 D. 海拔较低

读日本主要工业区分布示意图(图3),完成5~6题。



图 3

5. 日本的工业区集中分布在

- A. 日本海沿岸 B. 太平洋沿岸
C. 岛屿内部 D. 北部沿海

6. 20 世纪 80 年代以来,日本企业纷纷到海外投资建厂,其主要原因是日本

- ①环境污染严重 ②劳动力素质降低 ③土地紧张加剧 ④国内需求减少
A. ①②③ B. ①②④ C. ②③④ D. ①③④

图4中左图为以色列位置示意图,右图为以色列南部某地气候统计图。读图完成7~8题。

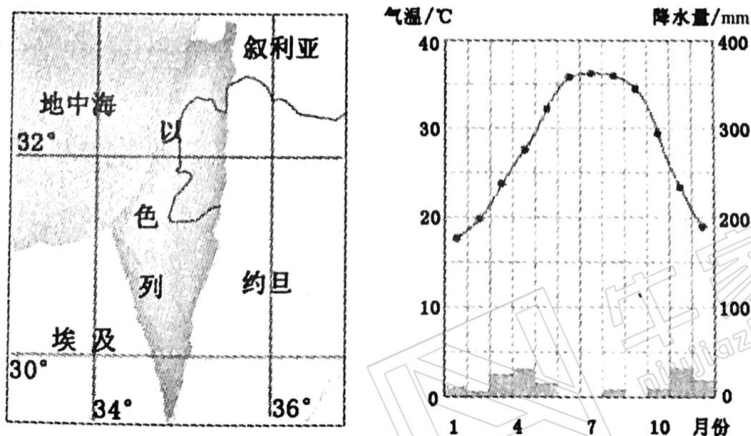


图 4

7. 以色列南部农业生产的主要制约因素是

A. 光照

B. 热量

C. 水源

D. 地形

8. 以色列为改善农业生产不利条件,可采取的有效措施是

①采用滴灌技术

②修建水库

③种植耐旱作物

④人工增雨

A. ①②

B. ①③

C. ②④

D. ③④

欧洲西部是世界葡萄酒、啤酒、伏特加酒三大酒品主要产区(图5),其中伏特加酒酒精度最高。读图完成9~11题。



9. 有利于欧洲西部葡萄生产的气候条件是

A. 雨热同期

B. 光热充足

C. 高温多雨

D. 温和多雨

10. 欧洲西部啤酒主产区的气候类型主要是

A. 亚热带季风气候

B. 地中海气候

C. 温带海洋性气候

D. 温带大陆性气候

11. 伏特加酒在俄罗斯备受欢迎的主要原因是俄罗斯

A. 气候寒冷

B. 气候炎热

C. 降水较多

D. 降水较少

图6中左图为也门特色民居景观图,右图为也门位置示意图。读图完成12~13题。

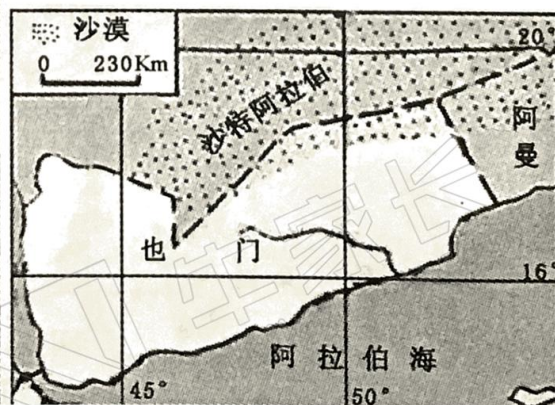



图6

12. 也门特色民居墙厚窗小,其主要功能是

- A. 隔热防风沙 B. 通风防潮湿 C. 利于排水 D. 利于采光

13. 也门的人种及信仰的宗教是

- A. 黑种人 伊斯兰教 B. 黑种人 基督教
C. 白种人 伊斯兰教 D. 白种人 基督教

“硅谷”是美国兴起最早,规模最大的高新技术产业中心。读美国“硅谷”位置示意图(图7),完成 14~15 题。

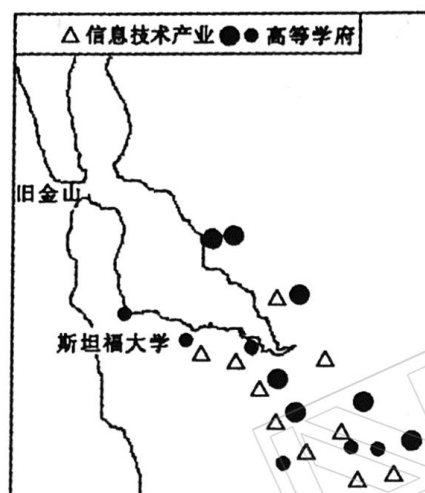


图 7

14. 以下产业不属于高新技术产业的是

- A. 纺织工业 B. 生物工程产业 C. 信息通信产业 D. 新能源新材料产业

15. 硅谷发展高新技术产业的最有利条件是

- A. 矿产丰富 B. 气候适宜 C. 交通便利 D. 科技发达

读西亚石油资源分布和主要输出路线示意图(图 8),完成 16~17 题。

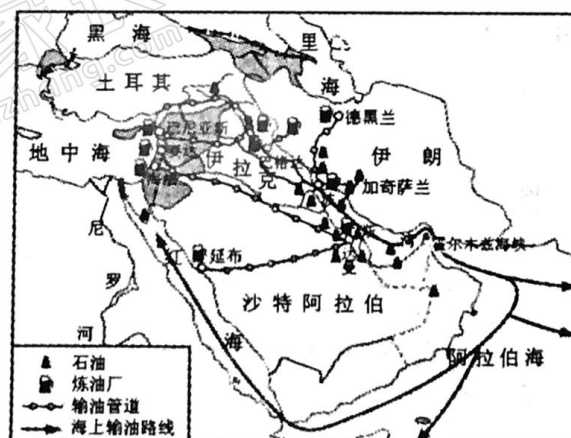


图 8

16. 西亚的石油资源集中分布在

- A. 地中海沿岸 B. 红海沿岸 C. 波斯湾沿岸 D. 黑海沿岸

17. 西亚石油输出的主要运输方式是

- A. 铁路运输 B. 公路运输 C. 海洋运输 D. 航空运输

读撒哈拉以南非洲部分国家出口产品统计图(图9),完成18~20题。

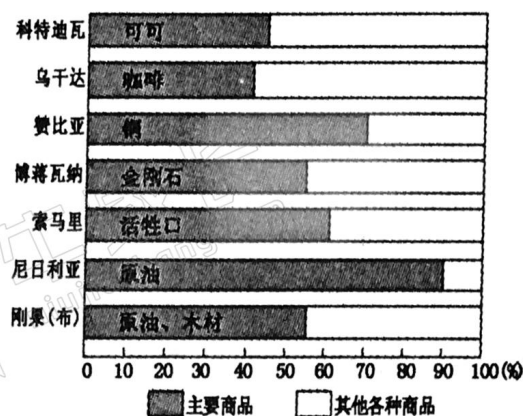


图9

18. 该地区发展经济的主要优势是

- A. 自然资源丰富
- C. 交通便利

- B. 人口众多
- D. 科技发达

19. 该地区经济的主要特点是

- A. 制造业发达
- C. 以出口农矿产品为主

- B. 农业发达
- D. 以出口工业制成品为主

20. 为改变经济发展现状应采取的合理措施是

- A. 大力发展粮食生产
- C. 大力进口工业品

- B. 加大矿产资源开采
- D. 建立完善的民族经济体系

图10中左图为澳大利亚年降水量分布图,右图为澳大利亚牧羊带分布图。读图完成21~22题。

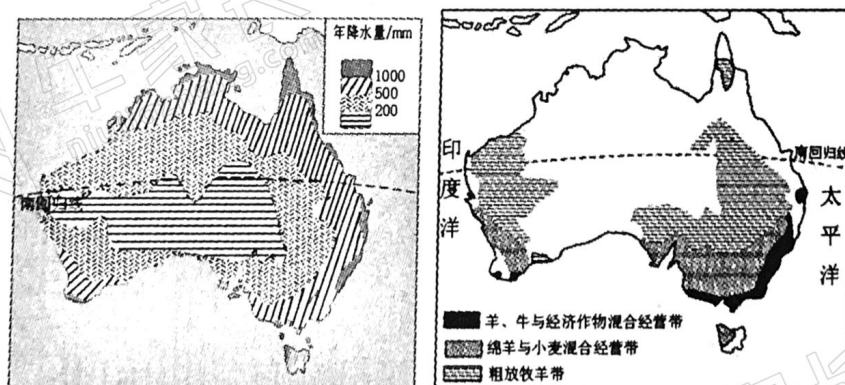


图10

21. 澳大利亚羊、牛与经济作物混合经营带分布在

- A. 东南和西南沿海地区
- C. 西北内陆地区

- B. 东北和西北沿海地区
- D. 中部地区

22. 澳大利亚羊、牛与经济作物混合经营带分布地区的年降水量范围大部分是

- A. 200 毫米以下
- C. 500~1000 毫米

- B. 200~500 毫米
- D. 1000 毫米以上

俄罗斯计划在北极建一座可容纳 5000 人居住,具有人工气候和完整生命支持系统的现代化冰城“乌姆卡”。读“乌姆卡”位置示意图(图 11),完成 23~25 题。

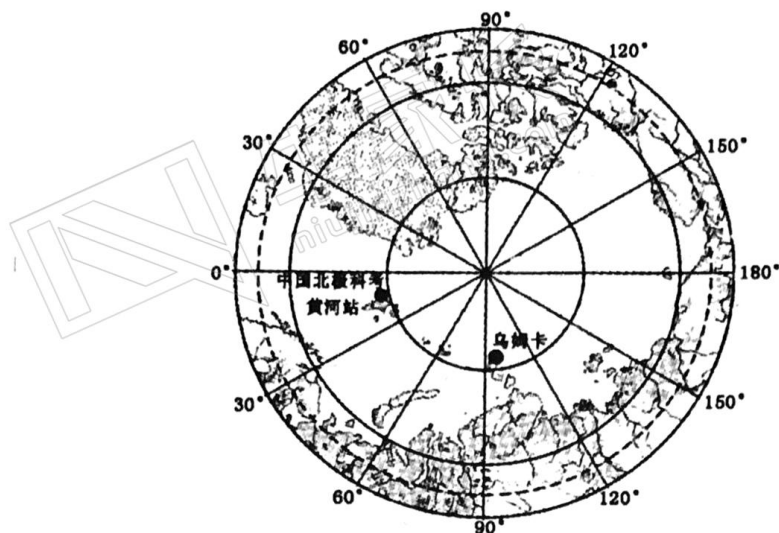


图 11

23. 乌姆卡位于黄河站的

- A. 东北 B. 西北 C. 东南 D. 西南

24. 乌姆卡建设过程中可能面临的最大困难是

- A. 严寒 B. 缺氧 C. 多风沙 D. 多暴雨

25. 到黄河站科学考察的最佳时间是

- A. 3 月~5 月 B. 6 月~8 月 C. 9 月~11 月 D. 11 月至次年 3 月

二、综合题

26. (8 分) 水稻生长需要较高的热量和充足的水分。小麦喜温凉气候,比较耐旱。图 12 中左图为印度半岛地形分布图,右图为印度半岛年降水量分布图。读图完成下列问题。

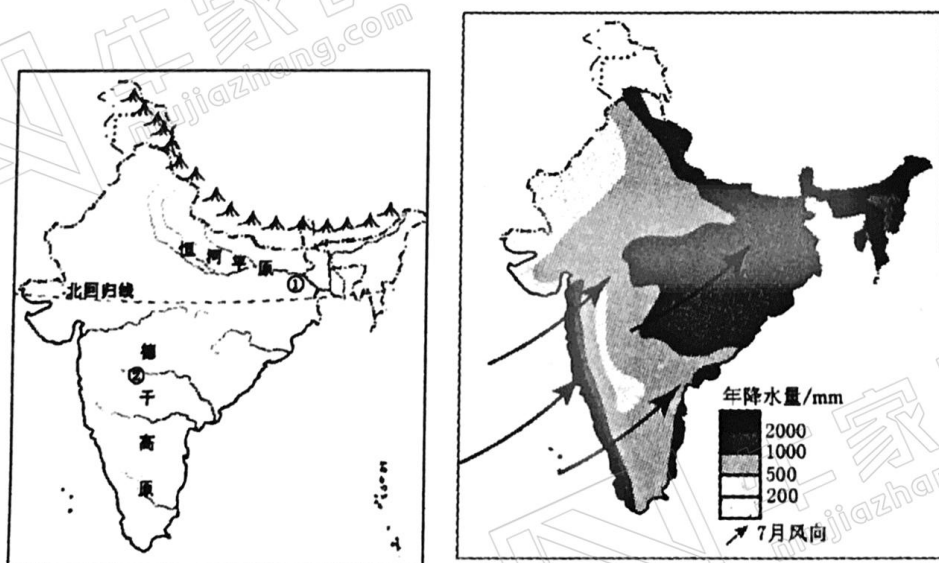


图 12

(1) 图中①②是印度主要粮食作物种植区,其中代表水稻种植区的是_____ (填序

号)地区。说出该地区种植水稻的有利自然条件。(6分)

(2)印度西南季风不稳定易造成_____灾害,对农业生产影响大。(2分)

27.(10分)读中南半岛山河和城市分布图(图13),完成下列问题。

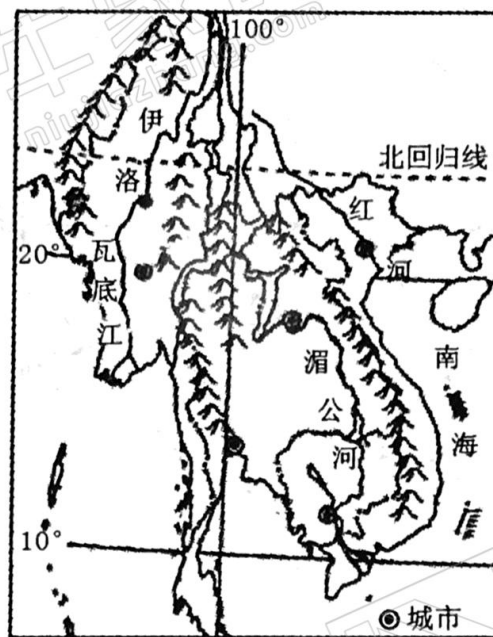


图13

(1)中南半岛城市的主要分布特点是_____。(2分)

(2)分析中南半岛城市分布特点的好处与弊端。(8分)

28.(12分)图14中左图为德国地形与河流分布示意图,右图为莱茵河畔某地气候统计图。完成下列问题。

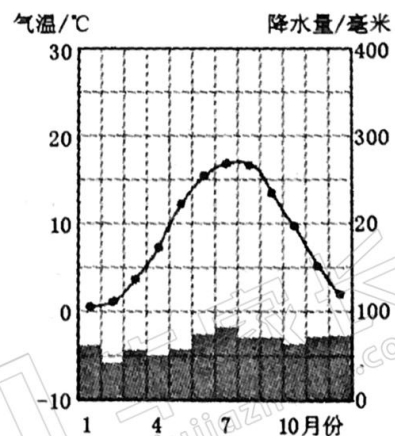
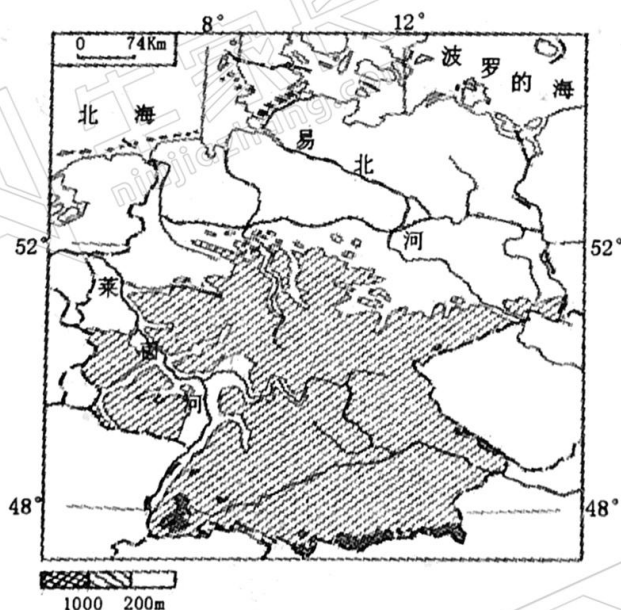


图14

(1)莱茵河的流向是_____,判断理由是_____。(4分)

(2)说出莱茵河畔的主要气候类型及气候特征。(4分)

(3)据图分析德国畜牧业发达的主要自然条件。(4分)

29. (10 分)读加拿大人口、主要城市和铁路分布示意图(图 15),完成下列问题。

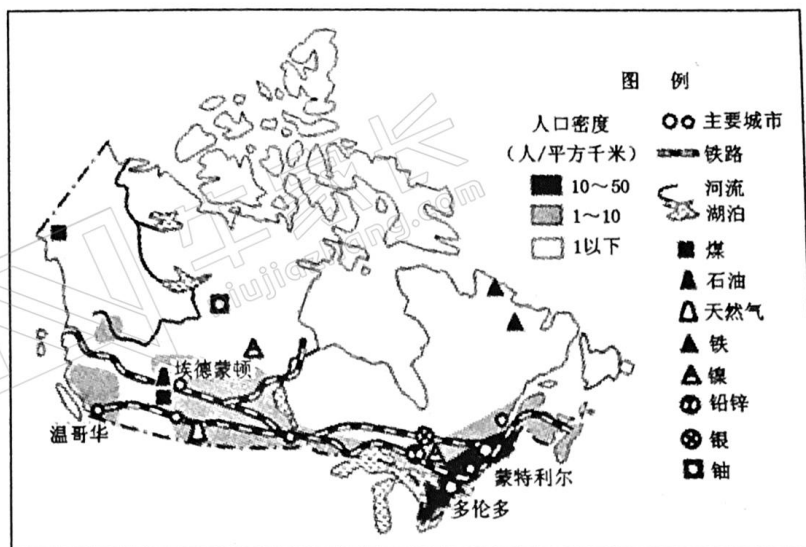


图 15

(1)加拿大城市和铁路线集中分布在 _____,其主要原因是该地区纬度 _____,气温 _____。(6 分)

(2)埃德蒙顿和蒙特利尔是加拿大重要的石油工业中心,请任选一个城市分析其石油工业发展的有利条件。(4 分)

30. (10 分)图 16 中左图为刚果河盆地位置示意图,右图为该地区多年平均各月气温曲线和降水量统计图。刚果河盆地森林面积正在以每年 3000 多平方公里的速度减少。据此完成下列问题。

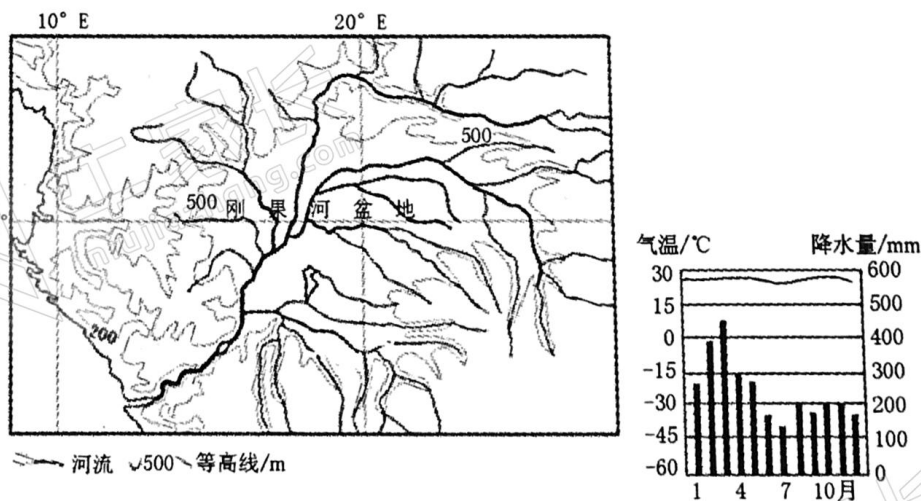


图 16

(1)说出刚果河盆地的水系特征。(4 分)

(2)根据刚果河盆地的自然环境特征可知,当地的人口密度 _____ (大/小)。(2 分)

(3)说出该地森林面积锐减产生的不利影响。(4 分)

加群步骤

- ① 长按下方二维码+小牛好友
- ② 备注 “孩子年级”
加入【牛家长微信群】
- ③ 第一时间了解最新升学动态

小牛聊升学



微信公众号

郑州牛家长



升学信息 | 原创干货 | 家长社群 | 公益活动



每个牛孩身后都有一个牛家长