

## 2018年郑州民办初中阶段性评价模拟试卷

亲爱的小朋友：你好！

在本次阶段性模拟测试中，你需要完成一个综合性情景任务。在一个国际班中，有两位无话不谈的好朋友康康和小智，他们对于中国的文化传统十分感兴趣，在彼此的交流探讨中，收获满满。是不是迫不及待地想知道他们都谈论了哪些内容呢？快来运用所学知识完成每一部分的任务吧，相信你会获益匪浅！

### 第一部分

(满分 70 分)

一、积累与运用(共 3 小题，其中第 1 题 4 分，第 2 题 2 分，第 3 题 3 分，共计 9 分，请在答题卡相应位置作答)

首先他们想到了传统节日，一提到节日，小智与康康的脑海中第一个浮现的便是春节。他们便在书上查阅了关于春节的介绍：春节，俗称“新年”，在中国已经有 4000 多年的历史了。在现代，人们把春节定于农历正月初一，但一般至少要到正月十五前后(上元节)新年才算结束。

在春节期间，中国的汉族和一些少数民族都要举行各种丰富多彩的庆祝活动。这些活动均以祭祀祖神、祭奠祖先、除旧部新、迎禧接福、祈求丰年为主要内容，形式丰富，带有浓郁的各民族特色。受到中华文化的影响，属于汉字文化圈的一些国家和民族也有庆祝春节的习俗。人们在春节这一天都尽可能地回到家里和亲人团聚，表达对未来一年的热切期盼和对新一年生活的美好憧憬。

春节是中华民族最隆重的传统佳节，同时也是中国人情感得以释放、心理诉求得以满足的重要载体，更是中华民族一年一度的狂欢节和永远的精神支柱。

1. 上述对于春节的介绍是不是让你对春节的了解更加全面呢？但小智和康康对于其中两个字音有些拿不准，请你来帮助他们一下吧！

(1) 加点字注音

载体\_\_\_\_\_

祈求\_\_\_\_\_

(2) 上述内容中，有两个错字，小智和康康没有发现，请你找出来并修改。

\_\_\_\_\_改为\_\_\_\_\_

\_\_\_\_\_改为\_\_\_\_\_

\_\_\_\_\_改为\_\_\_\_\_

2. 春节，又称“元日”，由此，你能想到关于春节的哪句诗呢？请写下来，

\_\_\_\_\_, \_\_\_\_\_.

3. 文中划线部分有语病，请改正。

\_\_\_\_\_

为了了解更多的中国传统文化。小智和康康来到了郑州文化博物馆，偶然看见博物馆的正在举行着“宋元明清著名文化人物介绍”的讲座，他们便进去听了。听完之后，他们对于宋代诗人陆游和中国的古典名著《西游记》中“三调芭蕉扇” 的情节十分感兴趣，让我们跟随小智和康康一起去了解一下相关内容吧！

二、阅读理解。(共 13 小题，其中第 10 题 4 分，第 13 题 4 分，其它小题 3 分，共计 41 分，请把正确的序号填涂在答题卡的相应位置)

### 走进诗人陆游

陆游出生于越州山阴（今浙江绍兴），南宋伟大的爱国诗人。

#### 书香世家幼显才

陆游出生于名门望族、江南藏书世家。陆游的高祖陆轾是大中祥符年间进士；祖父陆佃，师从王安石，精通经学，官至尚书右丞。陆游的父亲陆宰，通诗文、有节操，北宋末年出仕，南渡后，因主张抗金受主和派排挤，遂居家不仕；陆游的母亲唐氏是北宋宰相唐介的孙女，亦出身名门。陆游自幼聪慧过人，先后师从毛德昭、韩有功、陆彥远等人，十二岁即能为诗作文。

陆游出生于两宋之交，成长在偏安的南宋，民族的矛盾、国家的不幸、家庭的流离，给他幼小的心灵带来了不可磨灭的印记。他在《感兴》中提到彼时的生活：“少小遇丧乱，妄意忧元元。”

#### 初入仕途诚谏言

28 岁时，陆游进京临安（今杭州）参加锁厅考试（现任官员及恩荫子弟的进士考试），

主考官陈子茂阅卷后取为第一，但因为秦桧的孙子秦埶位居陆游名下，秦桧大怒，想要降罪主考官。次年（1154 年），陆游参加礼部考试，秦桧指示主考官不得录取陆游。从此陆游被秦桧嫉恨，仕途不畅。后秦桧病逝，陆游才初入仕途。陆游进入朝中后，应诏上策，进言“非宗室外戚，即使有功，也不应随意封加王爵”；高宗喜爱珍稀玩物，陆游认为“亏损圣德”，建议皇帝严于律己。

### 北伐献策退山阴

宋孝宗即位后，陆游被任命为枢密院编修官，赐进士出身。隆兴二年在镇江任上结识张浚，献策出师北伐，张浚赞扬为“志在恢复”。后有人向皇帝进言陆游“结交谏官、鼓唱是非，力说张浚用兵”，朝廷即罢免了陆游的官职。著名的《游山西村》便是陆游被罢免官职退居家乡山阴时所作。

### 入蜀州识范成大

乾道八年（1172 年），陆游被任为成都府路安抚司参议官，官职清闲，陆游骑驴入川，颇不得志。次年，改任蜀州通判。淳熙二年，范成大由桂林调至成都，任四川制置使，举荐陆游为锦城参议。范成大统帅蜀州，陆游为参议官，二人以文会友，成为了好朋友。南宋的主和势力诋毁陆游“不拘礼法”、“燕饮颓放”，范成大迫于压力，将陆游免职。陆游就在杜甫草堂附近浣花溪畔开辟菜园，躬耕于蜀州。淳熙三年（1176 年），为回应主和派攻击他“颓放”、“狂放”，陆游自号“放翁”，进行反击。陆游还为此作诗说：“门前剥啄谁相觅，贺我今年号放翁。”

### 临终示儿留绝笔

嘉定二年（1209 年）秋，陆游忧愤成疾，入冬后，病情日重，于是卧床不起。十二月二十九日（1210 年 1 月 26 日），陆游与世长辞，享年八十五岁。临终之际，陆游留下绝笔《示儿》作为遗嘱：“死去元知万事空，但悲不见九州同。王师北定中原日，家祭无忘告乃翁。”

4. 在小学阶段，我们学过陆游的不少诗歌，请问下列诗歌所属的诗句中，哪一首没有包含一定的哲理？

- A. 纸上得来终觉浅，绝知此事要躬行。
- B. 山重水复疑无路，柳暗花明又一春。
- C. 不识庐山真面目，只缘身在此山中。

欲把西湖比西子，淡妆浓抹总相宜。

5. 宋代是也诗词文学蓬勃发展的时代，涌现了许多名家名作。半山的“又绿江南岸”成为“炼字”的典范；稼轩的长短句给人以深刻印象，东坡的“大江东去”道出了历史沉浮；易安的婉转含

蓄话出无限愁情。以下搭配正确的一项是？

- A. 东坡---苏轼；半山---欧阳修；易安---李清照；稼轩-----王安石
- B. 东坡---苏轼；半山---王安石；易安---李清照；稼轩---- 辛弃疾
- C. 东坡---苏轼；半山---辛弃疾；易安---王安石；稼轩---- 李清照
- D. 东坡---辛弃疾；半山---王安石；易安---李清照；稼轩---- 欧阳修

6. 陆游不同时期，其诗歌风格特点是不同的。下列诗句中陆游与陆游的生活状态对应不正确的一项是？

- A. 莫笑躬耕老蜀山，也胜菜把仰园官。----- 蜀中生涯
- B. 少小遇丧乱，妄意忧元元。----- 幼年生活
- C. 莫笑农家腊酒浑，丰年留客足鸡豚。----- 退居山阴
- D. 出师一表真名世，千载谁堪伯仲间。----- 临终绝笔

7. 下面诗歌中没有使用修辞手法的一项是？

- A. 三万里河东入海，万千仞岳上摩天。
- B. 谷声应钟鼓，波影倒松楠。
- C. 吾非儿女辈，肯赋白头吟？
- D. 夜阑卧听风吹雨，铁马冰河入梦来。

8. “纸上得来终觉浅，绝知此事要躬行。”这句话强调的是？

- A. 既要学习书本知识，又要参加社会实践。
- B. 书本知识是浅显的，而且不一定正确，还要通过实践验证。
- C. 要真正消化理解书本知识，还要积极参加实践。
- D. 要获得真正的知识，必须事事亲自实践。

9. 下列是同学们学习了宋元文常的一些心得，其中说法不恰当的一项是？

- A. 小明：说我的宋元文常学得不好，那我可真是比窦娥还冤。
- B. 小红：南宋诗人陆游真是一代奇人，一生作的诗流传下来的就有九千多首，平均三天做一首，是中国历史上现存诗歌最多的诗人。
- C. 小宁：我不同意小红的话，人家乾隆皇帝作诗四万多首，乾隆才是中国历史上现存诗歌最多的诗人。
- D. 小丽：《窦娥冤》真是一部悲剧啊！

10. 对于陆游的诗词，你的了解有多少呢？下面哪几项是正确的？

- A. 《示儿》是陆游的经典之作。诗的最后两句作者告诉儿子，即便是他死了，也不要忘记 把国家统一的消息告诉他，表达了作者的(爱国)之情。
- B. “零落成泥碾作尘，只有香如故。”是对梅花的精神的赞美，同时也表现了自己的高洁人格。
- C. 家祭无忘告乃翁中的“乃翁”指的是(我的父亲)
- D. 陆游在《诉衷情》一词中写道：“胡未灭。鬓先秋，泪空流。此生谁料，心在天山，身老沧州。”这里的“胡”是指女真。

### 三调芭蕉扇

唐僧师徒四人，一路风尘仆仆朝西行去。走着走着，渐渐觉得热气袭人，难以忍受。此时正值秋天，大家感到很奇怪。唐僧让悟空前去了解情况。悟空来到一座庄院，打听到这里叫火焰山，山上八百里火焰，无人能过。唐僧师徒决定在这座庄院里过夜，顺便想了解过山的办法。庄主告诉他们，西南方一千里处有个翠云山芭蕉洞，洞主罗刹女有把芭蕉扇，扇一下火就灭了，扇二下则刮风，扇三下即下雨，这里的老百姓每隔十年拜求她一次，请她施法降雨才能种些粮食糊口。

悟空听他这样一说，就驾着云来到翠云山，向一位樵夫打听铁扇公主的住处，那个樵夫告诉悟空说：“我们这里的人把铁扇公主叫罗刹女，她是牛魔王的妻子。”悟空一听，心想：“坏了，当年我收服她的儿子红孩儿，现在她肯借扇子给我吗？”

悟空果然猜对了，罗刹女听说孙悟空来了，立即拿着青锋宝剑，走出洞门叫道：“孙悟空在什么地方？”悟空连忙上前行礼说：“嫂嫂，我是牛魔王当年在花果山结拜的兄弟。”罗刹女一听这话更生气，指着孙悟空就骂，怪他当年不该收服红孩儿。悟空为了借到宝扇，就让罗刹女在头上连砍了十几下也不还手。罗刹女见一点也伤不到他，吓得扭头就走。悟空见罗刹女不肯借宝扇，从耳朵中掏出金箍棒，拦住她的去路，两个人在翠云山上打了起来。

罗刹女和悟空一直打到晚上，知道不是他的对手，就取出芭蕉扇一扇，立刻一阵狂风，把悟空吹得一个跟头接一个跟头地翻了一夜，直到天亮，总算抱住一块峰石，落到小须弥山上。幸而寻到灵吉菩萨，给他一粒“定风丹”再去借扇。

悟空把定风丹放在怀里，驾着云回到翠云山，又来寻罗刹女借扇子。罗刹女还是不肯借，

和悟空打了几回后觉得没有劲了，又拿出扇子朝悟空用力扇去，悟空竟然没有动。公主又用扇扇他，悟空口含定风丹，一动不动。公主害怕忙回了洞府，闭门不出。悟空变作一只小虫，飞入洞中，钻在茶沫之下，随茶水被公主答应喝入肚腹之中，拳打脚踢，来回翻腾，公主腹中



疼难忍，答应借扇，但给的是一把假扇。无奈之下悟空变成牛魔王模样，骗得真扇，却被牛魔王所变的猪八戒夺回。

悟空第三次来借扇，与牛魔王大战，八戒、沙僧、哪吒及天神上前助战，最后把牛魔王打得现出原形。悟空用芭蕉扇扇灭山火，师徒四人继续西行取经。

11. 孙悟空与罗刹女的交战是在下面哪一个地点？

- A. 火焰山
- B. 翠云山
- C. 花果山
- D. 小须弥山

12. 孙悟空三调芭蕉扇的过程中，哪一位没有提供帮助？

- A. 樵夫
- B. 观音菩萨
- C. 猪八戒
- D. 哪吒

13. 以下与文章意思不符的两项是？

- A. 孙悟空第一次借扇的时候，是比较有把握的，因为牛魔王是自己当年在花果山结拜的兄弟，而且还使红孩儿也走上了正道。
- B. 第二次借扇是在孙悟空吃了乌金丹之后，铁扇公主扇不飞他，他就变了一个小飞虫进到铁扇公主肚子里折腾，铁扇公主受不了，就给他一把假扇子，结果越扇火越大。
- C. 牛魔王变成八戒，接过扇子，现出原形与悟空相斗。
- D. 孙悟空第三次借扇是在众护法神将帮助下，牛魔王败走。诸金刚与天兵天将，将牛魔王收伏。悟空用罗刹女交出的宝扇扇息山火，师徒翻越火焰山。

14. 根据你对孙悟空的了解，下面对于孙悟空的评价，哪一句你认为是不恰当的？

- A. 孙悟空是勇敢、坚毅、无所不能的形象的化身。
- B. 孙悟空护送唐僧西天取经中，对于唐僧自始至终都是很忠诚的。
- C. 《西游记》中塑造的孙悟空是存在着虚构和夸张的部分的，这也正是这个人物形象的魅力所在。
- D. 孙悟空行事有时不计后果，在大闹五庄观时，完全不顾事情的原委就将人参果树推倒，引来后患。

15. 文中对于“铁扇公主”这个人物的描述不正确的是？

- A. 《西游记》中铁扇公主的儿子是红孩儿，外号是“圣婴大王”，“红孩儿”是他的乳名。
- B. 红孩儿被观音收服以后，做了“善财童子”，所以铁扇公主十分憎恨他，因为铁扇公主不认为那是正道。
- C. 铁扇公主在孙悟空钻入腹中之后，马上答应借扇，说明铁扇公主是真的为孙悟空的本领所折服。
- D. 红孩儿被观音收服，作为善财童子，铁扇公主并不认为这是归入了正道的表现。

16. 下面对于《西游记》的描述不正确的一项是？

- A. 《西游记》的内容在中国古典小说中是很庞杂的，它既有儒家的思想，还有佛家和道家 的思想。
- B. 《西游记》是一部神话，其中虚构成分占多数，是没有具体的作品来源的。
- C. 《西游记》中同时体现了阶级意识，呈现出了一定的政权观念。
- D. 总体来说，孙悟空在《西游记》中是一个神话的虚构英雄，是一个必须借助法术和宝物的英雄。

### 三、写作。（满分 20 分）

17. 中国传统文化中名人辈出，想必提起他们，你也有很多想要表达的内容吧！

请以“\_\_\_\_\_，我想对你说”为题，明确想要表达的对象，写出自己心里想说的话，表达出真情实感。

要求：（1）字数不少于 200 字；（2）综合运用多种表达技巧。

为了让国际班的四名外国同学更加深入了解中国文学，小智和小康带着他们去了一家西游记主题餐厅吃饭，餐厅的老板老孙是个数学迷，在他的餐厅里，积极回答数学问题是可以参加抽奖的，请你加油回答他们的问题吧。

## 第二部分

### (满分 90 分)

一、选择题（共 7 小题，每小题 4 分，共计 28 分；在每小题给出的四个选项中，只有一项是符合要求的，请把正确选项的序号填涂在答题卡的相应位置）

17. 老孙告诉小智、小康和他们的同学：“我最近在读《西游记》，上周我读了 60 页，这周我又读了余下的  $\frac{1}{15}$ ，如果这本书一共有  $a$  页，你们能算出我已经读了多少页吗？”（ ）

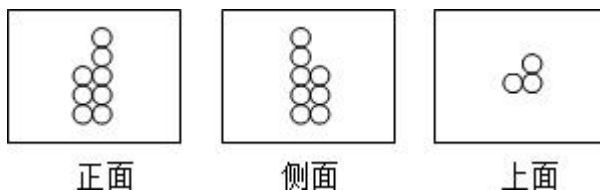
- A.  $60 + \frac{1}{15}a$       B.  $60 + \frac{1}{15}$       C.  $60 + \frac{1}{15}(a - 60)$       D.  $\frac{1}{15}a$

18. 小智发现餐巾纸盒上印有以下图形，其中与“西”字相对的字是（ ）



- A. 欢      B. 我      C. 游      D. 记

19. 小康带着他的同学们在参观餐厅的时候，看到餐厅的大厅里摆了一堆棋子，从三个角度观察这堆棋子（如图），这堆棋子可能有（ ）个？



- A. 8      B. 13      C. 11      D. 12



20. 吃完饭，他们六人共消费了价值为680元的菜品，老孙提出以下结账方案可供小智和小康选择。方案一：美团可 92 元购得 100 元代金券，每单限6 张；方案二：参与餐厅满500 减 50 的优惠活动，只能选择其中一种方案，请问小智和小康最少付（ ）元。

- A. 630                      B. 632                      C. 626                      D. 636

用餐结束后，小智获得了一次抽奖机会，他们6 人都可以参加，抽奖盒子里放了10 个球：一个红球，两个绿球，三个蓝球，四个白球，摸得红球得大奖；

21. 小智第一个上去抽奖，请你估计一下小智得大奖的可能性是（ ）

- A.  $\frac{1}{6}$                       B.  $\frac{3}{10}$                       C.  $\frac{1}{5}$                       D.  $\frac{1}{10}$

22. 小智摸到了一个蓝球（不放回），那么小康得大奖的可能性是（ ）

- A.  $\frac{1}{10}$                       B.  $\frac{1}{9}$                       C.  $\frac{1}{5}$                       D.  $\frac{2}{9}$

23. 最终前五名同学都没有摸到大奖（球都没有放回），那么最后一名同学 Alice 获得大奖的可能性是（ ）

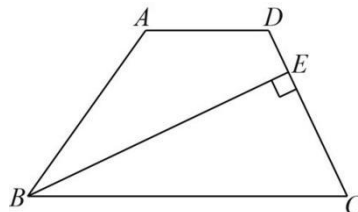
- A.  $\frac{1}{10}$                       B.  $\frac{1}{9}$                       C.  $\frac{1}{5}$                       D. 1

## 二、填空题（共5 小题，共计 20 分，请在答题卡相应位置作答）

24. 老孙在账本上记账的时候发现有一组递等式的运算符号和括号因为水渍看不清楚了，小智和小康打算帮老孙把它补充完整。

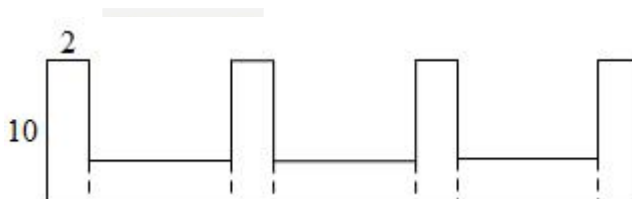
$$\begin{aligned} & 15 \quad 8 \quad 20 \quad 20 \quad 6 \quad 12 \quad 4 \\ = & 120 \quad 20 \quad 20 \quad 6 \quad 3 \\ = & 140 \quad 20 \quad 2 \\ = & 7 \quad 2 \\ = & 5 \end{aligned}$$

25. 老孙告诉他们一个好消息：老孙的第二家西游记主题餐厅正在筹备中，如图是餐厅的平面图，梯形ABCD的上底AD为10米，下底BC为24米，腰CD的长为16米，过B点向CD作出的垂线的长是18米，那么梯形ABCD的面积是多少？

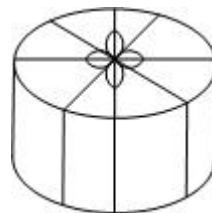


26. 老孙打算在新店放20张大小相同的圆桌，桌面直径是2米，现需要把桌面刷上油漆（只刷上面），桌面每平方米需用油漆100克，一桶1千克的油漆15元，老孙讨价还价后，店主答应八折优惠，那么老孙需要花费（ ）元。（ $\pi$ 取3.14）

27. 老孙打算在新店的门前用栅栏围成一个小花园，如图是栅栏的一部分，是由七个长为10分米，宽为2分米的相同长方形经过竖放、横放而成的图形，求这个图形的周长是（ ）分米。



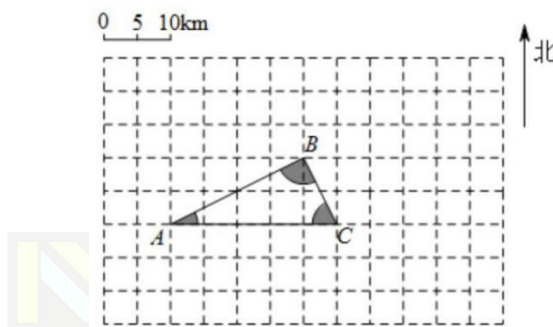
28. 老孙预订了一个蛋糕，蛋糕盒上扎了一条漂亮的丝带，捆扎方法如图所示，已知蛋糕盒的底面周长是94.2cm，高是16cm，丝带接头处共20cm长，这条丝带长（ ）米。



三、综合与实践（共9道题，共计42分，其中第30、31两个小题为单选题，请把正确选项的序号填涂在答题卡的相应位置）

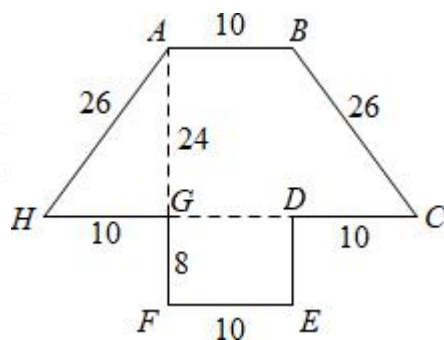
用餐之后，老孙给我们讲起了《西游记》中师徒四人去西天取经的故事，现在请你用自己的智慧来解决取经路上的磨难吧。

师徒四人途径黑水河时，黑水河中妖怪变成船家，将乘船的唐僧、八戒掳去水底。沙僧潜水与那怪大战，不能获胜。悟空为了营救唐僧和八戒，夜观黑水河，如图所示。



29. 图中每一小格是1cm，把图中线段的比例尺改写成数值比例尺是（ ）。
30. 图中每一小格是1cm，则黑水河的实际面积是（ ）
31. 若B在A的东偏北 $30^\circ$ 方向上，则B在C的（ ）偏（ ）（ ）度方向上。
32. 孙悟空沿AB、BC、CA飞行一周需6秒，但妖怪计划按2:1的比例填海造岛（将三角形按2:1扩大），那么孙悟空在速度不变的情况下沿新岛飞行需要（ ）秒。

孙悟空与妖怪大战时，妖怪率领一众小妖摆成如图所示的天覆阵。（单位：米）

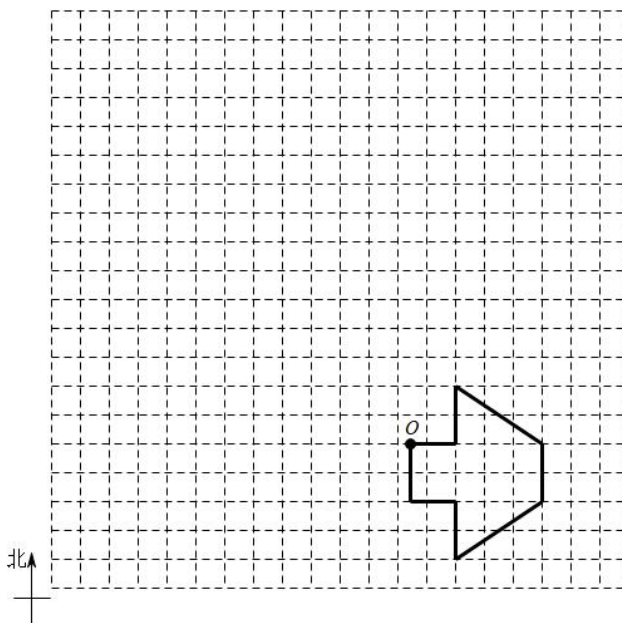


33. 由图可以看出，天覆阵可以被看成一个等腰梯形和一个长方形的组合，在阵型实线边界，每2米安排3只小妖，天覆阵的内部区域不站小妖，请问阵中有多少只小妖？

34. 天覆阵所围的区域面积为多少？

35. 孙悟空的速度是每秒 100 米，妖怪的速度是每秒80 米，当孙悟空在 A 点时，妖怪在 D 点，那么孙悟空追上妖怪需要花多长时间？

36. 天覆阵的移动可以看成平移和旋转两种运动方式的结合，如图所示，每一格的宽度代表200m，天覆阵向南平移了0.8 千米，向东1 千米到达了如图位置，请在方格纸上画出天覆阵移动前的位置。



## 第三部分

### (满分 40 分)

康康是国际班的一员，为这次的文化节准备了一份开场演讲稿，想要让朋友们了解中国文化，其中可能有一些你不认识的单词，请你结合上下文猜猜它们的意思。

一、读演讲稿，选出与划线单词意义相近的单词（共 6 小题，每题 1.5 分，共计 9 分，请把正确选项的序号填涂在答题卡的相应位置）

Hello, everyone! It's my great honor to be here to give you a brief introduction of Chinese culture. As we all know, China is located(1) in east Asia with the most long-standing(2) culture in the world. It is a beautiful country with many fascinating(3) places, for instance(4) the Great Wall, the Summer Palace and so on. Every year, a lot of foreigners from different countries come China to go sightseeing(5). Now, please follow us to experience the charms(6) of the Chinese culture as a whole.

- |                |              |                |              |
|----------------|--------------|----------------|--------------|
| 1. A. lies     | B. arrives   | C. gets        | D. lives     |
| 2. A. boring   | B. ancient   | C. interesting | D. beautiful |
| 3. A. funny    | B. big       | C. far         | D. wonderful |
| 4. A. such as  | B. including | C. except      | D. about     |
| 5. A. shopping | B. camping   | C. travelling  | D. swimming  |
| 6. A. taste    | B. beauty    | C. feeling     | D. size      |

答案：ABDACB

- 解析：1. 考查动词。根据句意，中国位于亚洲东部，lie in 表示位于，arrive 表示到达，get 表示得到，live 表示居住，故答案为A。
2. 考查形容词。根据句意，中国有着历史上最悠久的历史，boring 表示无聊的，ancient 表示古老的，interesting 表示有趣的，beautiful 表示美丽的，故答案为 B。
3. 考查形容词。根据句意，它是一个美丽的国家，有很多极好的地方，famous 表示著名的，big 表示大的，far 表示远的，wonderful 表示极好的，故答案为 D。
4. 考查介词。根据句意，有很多美好的地方，比如长城，颐和园等，such as 表示例如，including 表示包括，except 表示除了，about 表示关于，故答案为 A。
5. 考查名词。根据句意，每年，有来自不同国家的外国人来中国旅游，shopping 表示购物，camping 表示露营，travelling 表示旅行，swimming 表示游泳，故答案为 C。
6. 考查名词。根据句意，现在，跟随我们来体验中国文化的魅力吧，taste 表示味道，beauty 表示美丽，feeling 表示感觉，size 表示尺寸，故答案为B。

康康想要跟大家分享中国的传统节日，并制作了一份表格。

二、仔细阅读信息，并把表格里数字代表的节日名称、时间和相关习俗补充完成。（共 6 小题，每小题 1.5 分，共计 9 分，在答题卡相应位置作答）

#### Mid-Autumn Festival

It's a time for families to get together. It is on the 15<sup>th</sup> of the 8th lunar (农历) month. People eat moon cakes in the open air. And the moon is round and bright that evening. They have fun time enjoying the full moon and chatting with each other.

#### Dragon Boat Festival.

This is an old festival. It's on the 5th day of the 5th lunar (农历) month. The festival is best known for its dragon-boat races. People also eat rice dumplings on that day. They have different tastes. Some have eggs, meat, or fruit in them.

#### Qing Ming Festival

It's also known as the Tomb Sweeping Festival. It may be on any day in the period April 4-April 6. It is a day for people to remember their dead relatives (死去的亲人). People often go to the graves (坟墓) and put food and flowers there.

#### Chong Yang Festival

It's a festival for old people. It's in autumn, too. It's on the 9th day of the 9th lunar month. At this festival, people go to homes for the elderly (敬老院). It's also a time to go to climb mountains.

节日名称	日期	传统习俗
Mid-Autumn Festival	15 <sup>th</sup> of the 8th lunar (农历) month	eat ____1____ in the open air
____2____	5th of the 5th lunar (农历) month	____3____ races and rice dumplings
Qing Ming Festival	____4____	go to ____5____ and put food and flowers there.
____6____	9th day of the 9th lunar month	climb mountains

为对话排序（每空 1 分，共计 6 分，在答题卡相应位置作答）

3. 康康和智智在下课期间谈论起了自己最喜欢的节日。以下是两人的对话，但是他们的顺序乱了，请根据上下文将对话按先后顺序进行排序，将字母序号填涂在答题卡的相应位置。

- A. I like Spring Festival best, because I can get lucky money. What about you?
- B. Why do you like it?
- C. Which is your favorite festival?



D. I like Dragon Boat Festival.

E. They are really delicious!

F. Because I like eating rice dumplings.

(1) \_ (2) \_ (3) \_ (4) \_ (5) \_ (6)

4. 阅读理解（共 6 小题，每小题 1.5 分，共计 9 分，请把正确选项的序号填涂在答题卡的相应位置）

The Spring Festival is our Chinese people's festival. There are different names for each Chinese year. We call it the year of monkey, the year of dog, the year of pig. And this year is the year of sheep.

Before the day of the festival, people are busy shopping and cleaning their houses. On the Eve, there is a big family dinner. After dinner, all the family stay up late to welcome the New Year. It is the middle of the night. We have dumplings. We can watch many kinds of programs on TV. On the first day of the New Year, people especially children put on their new clothes and go to visit their friends. They say "Happy New Year" and some other greetings to each other. People have a good time during the festival.

(1) How many different names are there for Chinese years?

A. 10

B. 6

C. 4

D. 12

(2) When is the Eve in Chinese year?

A. The evening of the Spring Festival day.

B. The evening before the Spring Festival day.

C. The evening after the Spring Festival day.

D. On the evening of January 1st.

(3) What does the people do before the Spring Festival?

A. They sing and dance with their friends.

B. They play games with their family.

C. They go shopping and clean their houses.

D. They watch TV programs and visit friends.

(4) What's the favorite food for the Chinese people on the Eve?

A. Cakes.

B. Vegetables.

C. Dumplings.

D. Meat.

(5) On the festivals people usually\_\_\_\_\_.

A. wear new clothes

B. say some greetings

C. visit their friends

D. Both A, B and C

(6) People often say\_\_\_\_\_ to each other on the festival.

A. Happy New Year

B. Have a good time

C. Good morning

D. Nice to meet you

五、写作。（满分 7 分）

根据大家刚才的聊天，你最喜欢的节日是什么呢？请跟朋友们分享，不少于 50 个单词。（请在答题卡的相应位置作答）

## 综合

35. 鲲鹏出自哪个典籍( )?
- A. 《庄子-逍遥游》 B. 《山海经》 C. 《搜神记》
36. 牵牛星和织女星两颗星隔着银河遥相呼应。牵牛星和织女星都是
- A. 恒星 B. 行星 C. 卫星
37. 在各种动物中, 最早被人类饲养的是( )
- A. 猪 B. 狗 C. 羊
38. “山城”是我国哪座城市的雅号?
- A. 洛阳 B. 重庆 C. 武汉
39. 光年是一个( )
- A. 时间单位 B. 长度单位 C. 温度单位 D. 反映光的亮度的单位
40. 发生月食的时候, 下列说法正确的是( )
- A. 太阳、月球、地球在一条直线上, 月球在中间
- B. 太阳、地球、月球在一条直线上, 地球在中间
- C. 月球背着太阳的一面正好对着地球
- D. 月球向着太阳的一面正好背着地球
41. 煤炭、石油和天然气等燃料中的能量来自( )
- A. 亿万年前地壳中的特殊的岩石和液体
- B. 亿万年前地壳中的特殊的液体和气体
- C. 亿万年前动植物的遗体
- D. 亿万年前植物通过光合作用积蓄的太阳能
42. 我国第一个王朝是( )。
- A. 夏朝 B. 商朝 C. 秦始皇创立的秦朝
43. 做馒头和面包时, 添加些( )就会暄软多孔。
- A. 乳酸菌 B. 霉菌 C. 酵母菌 D. 曲霉菌
44. “绿色理念”要求从根本上减小乃至杜绝污染, 下列对农作物收割后留下的秸秆的处理方法中, 不符合“绿色理念”的是( )
- A. 就地焚烧 B. 发酵后作为农家肥 C. 加工成饮料瓶 D. 发酵制沼气

## 加群步骤

- ① 长按下方二维码+小牛好友
- ② 备注 “孩子年级”  
加入【牛家长微信群】
- ③ 第一时间了解最新升学动态

小牛聊升学



牛家长  
niujiazhang.com

微信公众号

郑州牛家长



升学信息 | 原创干货 | 家长社群 | 公益活动

