

2018 年平行线六年级第三次阶段性综合评估

【考试须知】

1. 试卷总分 240 分；其中语文 70 分，数学 90 分，英语 40 分，综合 40 分；
2. 考试时间共计 120 分钟；
3. 本次测评全部使用答题卡，请在答题卡上做题，勿超过规定答题卡区域，否则无效；
4. 请使用黑色签字笔作答，选择题使用 2B 铅笔，其他题目不得使用铅笔作答；
5. 请在规定的时间内答题，遵守考试纪律。

第一部分 语文素养（满分：70 分）

一、基础知识与积累。（共 26 分）

1、下列各组字中声母完全不同的一组是（ ）。(3 分)

- A. 峻 竣 竣 俊 B. 戊 戌 戌 戎
C. 乐 铄 砾 烁 D. 占 拈 沾 惦

2. 下面各句中没有语病的是()。(3 分)

- A. 能否具备良好的心理素质，是考试取得好成绩的关键。
B. 我们不仅要在课堂上及教科书中学语文，还要在课堂外和生活中学语文。
C. 经过车辆尾号限行措施，使成都的交通状况改观了很多。
D. 老师耐心地纠正并指出了我这次作文中存在的问题。

3. 根据提示，修改下面一段文字。(4 分)

传统文化是民族内在的灵魂和血脉，是民族的身份证明，①是中华儿女和穆相处，
撷手发展的共同精神家园，是中华民族生生不息的不竭动力。②中国之所以成为世界上
最早的几大文明古国之中(百里挑一 绝无仅有 难以想象)的延续至今的国家，一个重要
原因就是中华文化具有坚强的生命力与内在的活力。

(1) ①处画线句中标点符号使用有误，且有两个错字，请将改好的句子写在下面。(3 分)

(2) ②处画线句中所给的三个词语中最符合语境的是_____。(1 分)

4. 下面哪个句子标点符号的使用是正确的?请选一选。() (3 分)

A. 茫茫宇宙到底有没有外星人，生命能不能合成，人果真由命运主宰？这一切都引起

人们深深地思考。

B. 有关专家指出，白开水是最符合人体需要的“天然饮料”：它既洁净，又能使硬度过大的水变得适中——(因为过多的矿物质煮沸后会沉淀)，还会有多种微量元素。

C. 我们的肌肤每天受到各种侵害，阳光的辐射、空气的污染，都会使肌肤变得干燥粗糙。您是否想过给自己的肌肤补充一些营养呢？

D. 到底去不去呀？我的小祖宗！妈妈“咚咚咚”地敲着我的房门：“人家来电话催好几遍了，你倒是给人家一个回话呀！”

5. 你知道下列对联写的人物是谁吗？请选出正确的一项。() (3 分)

(1) 犹留正气参天地，永剩丹心照古今。

(2) 四面湖山归眼底，万家忧乐到心头。

(3) 鬼狐有性格，笑骂成文章。

(4) 酌酒花间，磨针石上；倚剑天外，挂弓扶桑

A. 岳飞 范仲淹 蒲松龄 辛弃疾

B. 文天祥 范仲淹 蒲松龄 李白

C. 岳飞 杜甫 蒲松龄 李白

D. 文天祥 杜甫 李白 辛弃疾

6. 古往今来，许多文学作品都写过石头：_____曾以石补天，_____曾以石填海，《_____》曾名为《石头记》，_____笔下的美猴王竟是一尊石猴。(4 分)

7. 2016 年 11 月 30 日，联合国教科文组织保护非物质文化遗产政府间委员会批准中国申报的“二十四节气”列入联合国教科文组织《人类非物质文化遗产代表作名录》。(6 分)

(1) 依据《二十四节气歌》填空：立春梅花艳，_____红杏鲜，_____闻春雷，春分蝶踟蹰。(2 分)

(2) 读诗句，说说你从诗句中了解了哪些有关“清明节”的信息。(4 分)

①春城无处不飞花，寒食东风御柳斜。

②梨花风起正清明，游子寻春半出城。

③风雨梨花寒食过，几家坟上子孙来？

④马穿杨柳嘶，人倚秋千笑。

二、阅读下面的文字，完成 1~4 题。（共 16 分）

乌鸦喝水

徐成龙

“小朋友，乌鸦口渴了怎么办？”老师的话音一落，教室里一双双小手树林一般竖了起来。

“乌鸦是用什么方法喝到瓶子里的水的？”老师和蔼可亲，眉开眼笑的。

一双双眼睛如饥似渴地盯着老师，有几个学生急不可待了，从位置上站起来，似乎怕老师看不到。老师笑咪咪地指定一位女生回答。小女生忽地站起来，忽闪着明亮的眼睛，声音甜润悦耳，回答得天衣无缝。

“读了这个故事，大家明白什么道理吗？”老师的提问越来越有深度了。课堂里沉默一会儿，一双双小手又慢慢地举了起来。

“这位男同学，你来回答。”老师指着坐在前面的一个小男生说。

“这个故事告诉我们，遇到困难要开动脑筋想办法。”小男生大大方方地回答。你真聪明。老师的笑容灿烂了，掏出一朵小红花，亲切地说：“奖你一朵小红花。”男生喜滋滋地坐下，挺自豪的。

这是一堂公开课，上的是《乌鸦喝水》，执教的是很有名气的张老师。她看着同学对答如流，脸上露出了欣慰的笑容。坐着听课的老师也不停地颌首称是。“老师，我有一个问题。”忽然，一个胖男生说。

张老师脸上露出一丝惊讶，倏然间恢复了常态，迈开步子向前走去，脸上还是挂着笑：“说说你的问题吧！”

“老师，我想……乌鸦不一定能喝到瓶子里的水。”胖男生挠着头皮，眼睛看着老师，也许是紧张吧，说话也不伶俐了。胖男生的话像给平静的湖面投了一块石子，教室里唧唧喳喳的，许多学生流露出鄙夷的神色，窃窃私语。

张老师愣怔着，自己教了十几年的书，这课书不知道讲了多少遍，从没有学生提出这个问题，这个学生也太幼稚了。张老师的脸微微涨红，咳嗽一声，掩饰住刚才的尴尬，又变得镇定自若了。

张老师环顾了一下教室，满面春风地问：“同学们，你们说，乌鸦能喝到瓶子里的水吗？”“能。”同学们异口同声地说。

“瓶子里有水，乌鸦怎么会喝不到水呢？”一个女生轻蔑地看了一眼胖男生说。“是啊！”张老师接言道，“瓶子里有水，放上小石子水就会往上升，这是基本常识。我们应该像那只乌鸦一样，开动脑筋想一想，不要信口开河。”

张老师示意胖男生，他无奈地坐下，耷拉着脑袋默然不语，眼眶溢满了泪水。张老师依然兴致勃勃地讲着《乌鸦喝水》的课文，一年又一年。

十几年过去，那个胖男生师范毕业了，分配到母校任教，成了一位新教师，大家热情地喊他赵老师。学校有个不成文的规定，新分配来的老师要上一节公开课。赵老师左思右想，决定上《乌鸦喝水》这一课。

课堂气氛活跃极了，水到渠成的。听课的老师露出了满意的笑容。讲课将要结束的时候，赵老师笑眯眯地说：“小朋友们，《乌鸦喝水》这一课已经讲完了，你们都没有什么问题吗？”赵老师的眼光充满了期待，亲切地看着小朋友。”

一个女生站起来，清脆地说：“老师，我有一个问题，乌鸦在瓶子里放上小石子，它真的能喝到水吗？”

课堂里顿时沉寂下来，在座的都看着赵老师。一个男生扑哧一声笑了：“课文不是已经说乌鸦喝到水了吗？这有什么怀疑？”教室里霎时嗡嗡起来，有些人还在嘻嘻地笑。

赵老师挥着手，让小朋友安静，说：“大家都发表了意见，那么我们看看乌鸦究竟能否喝到水，让事实说话吧！”

赵老师拿出几个装着数量不一的水的瓶子和一盆小石子，和颜悦色地说：“下面我们做个实验，在几个瓶子里放上小石子，看看乌鸦能否喝到水。”赵老师的话音一落，小朋友们乐坏了，争先恐后要上台做实验。

上来的小朋友小心翼翼地放着小石子，教室里鸦雀无声，一会儿结果出来了。小朋友看着其中的一个瓶子目瞪口呆了，听课的老师也目瞪口呆了，教室里又是一阵交头接耳声。

“我们的实验结束了，小朋友们看到了什么？”赵老师按捺不住喜悦地问。

“有一个瓶子，乌鸦是无论如何也喝不到水的。”小朋友不约而同地高声道。

赵老师话题一转：“怎样的瓶子乌鸦才能喝到水呢？”

小朋友们陷入了沉思，那个女生站起来不慌不忙地说：“瓶子里有足够的水乌鸦才能喝到，否则就喝不到了。”赵老师睿智的目光闪着光彩。热烈的掌声响起，在教室里久久回荡。

听课的张老师走出教室，一下子把赵老师的手握住了，激动地说：“小赵，你给我

们上了一堂精彩的课。”（有删改）

1. 将第 1 自然段中画线句改为“教室里一只只小手迅速举了起来”好不好？为什么？（3 分）

2. 第 12 自然段加点词“信口开河”可用下列哪个词替换，意思不变？（ ）（2 分）

A. 胡言乱语 B. 言而无信 C. 信誓旦旦 D. 守口如瓶

3. 在张老师和赵老师的课堂上都发生了出人意料的特殊情况，但结果并不相同。请仔细阅读相关段落填表。（8 分）

《乌鸦喝水》	特殊情况（概括）	具体表现
在张老师的课堂上	胖男生提出乌鸦不一定很能喝到水。	提问者：紧张、无奈 张老师：（2）_____ 同学们：（3）_____
在赵老师的课堂上	（1）_____ _____	赵老师：胸有成竹、正确引导 小朋友：（4）_____

4. 下列最能体现本文主旨的诗句是（ ）。（3 分）

A. 只缘身在此山中 B. 近朱者赤近墨者黑 C. 青出于蓝胜于蓝 D. 柳暗花明又一村

三、阅读文言文，回答问题。（共 8 分）

昔齐人有欲金者，清旦①衣冠而之市。适②鬻(yù)③金者之所，因攫(jué)其金而去。吏捕得之，问曰：“人皆在焉，子攫人之金何？”对曰：“取金之时，不见人，徒见金。【注释】①清旦：清早。②适：往，去，到。③鬻：卖。

1. 解释下列句中加点的字。（4 分）

(1) 昔齐人有欲金者() (2) 因攫其金而去()

(3) 吏捕得之() (4) 徒见金()

2. 翻译文中画线句子。（2 分）

3. 这则寓言讽刺了社会上哪类人？（2 分）

四、习作乐园。(20 分)

脑海中的往事像镜头倒转一样连续不断地上演，无一不是平平淡淡的小事，却温暖得令人忍不住落泪。那一段段美好的时光，静静流淌在心泉的最深处，它将永远温馨地鲜活在遥远的记忆里，成为支持我一往无前的力量。

请以“那件小事激励着我”为题目写一篇文章。

要求:①内容具体，有真情实感；②体裁为记叙文；③字数在 300 字左右；④凡涉及真实的人名、校名、地点，一律用 A、B、C 等英文大写字母代替；⑤不得抄袭。

第二部分 数学素养（满分：90 分）

一. 请你算一算. (每题 4 分，共 8 分)

1. 计算 $191 \times 0.125 + 209 \times \frac{1}{8}$

2. 解方程 $(2\frac{3}{2}x + 15) - 12 = 30$

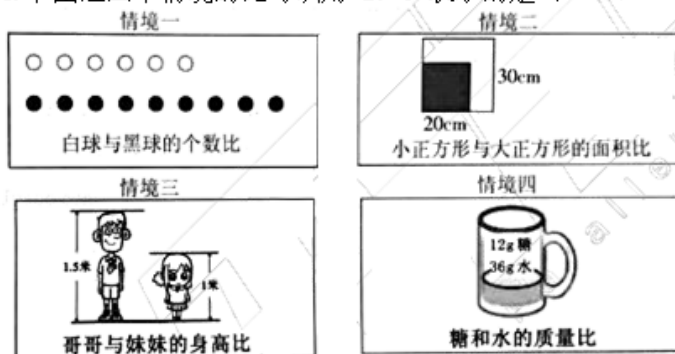
春天到了，万物复苏。平平，行行和线线不仅在课堂上学习到了很多数学知识，还在春意盎然的大自然中感受到了数学的美妙。

二. 请选择你认为正确的选项. (每题 4 分，共 20 分)

3. 老师正在布置宣传板报，上面写了今日最高温度 15°C ，最低温度 -2°C ，今日的温差是 () $^{\circ}\text{C}$.

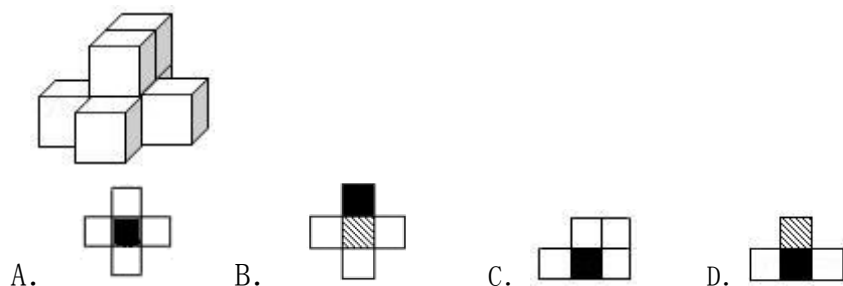
- A. 11 B. 13 C. 17 D. 19

4. 下图这四个情境的比可以用 2:3 表示的是 () .

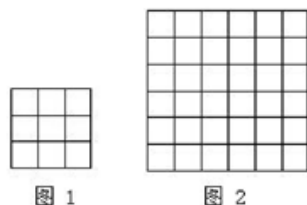


- A. 情境一 B. 情境二 C. 情境三 D. 情境四

5. 校园的一角摆放着用相同立方体堆成的立体图形雕塑，如果用□表示 1 个立方体，用▨表示 2 个立方体叠加，用■表示 3 个立方体叠加，那么图中由 7 个立方体叠成的几何体，从正前方观察，可画出的平面图形是（ ）



6. 李叔叔用同一种型号的铁丝编织铁丝网用来处理湖里的漂浮物，制成如图 1 所示的铁丝网重 60 克，若制成如图 2 所示的铁丝网重（ ）克。



- A. 110 B. 210 C. 310 D. 410

7. 通讯市场竞争日益激烈，一通讯公司的手机市话收费按原标准每分钟降低了 a 元后，再次下调了 25%，现在的收费标准是每分钟 b 元，原收费标准每分钟为（ ）元。

- A. $\frac{4}{3}b + a$ B. $\frac{3}{4}b + a$ C. $\frac{5}{4}b - a$ D. $\frac{5}{4}b + a$

三. 请你来填空. (每题 4 分, 共 32 分)

8. 六一班进行队形队列训练，平平数了数，正好排成人数相等的三列，小明排在正中一列，从前或从后数都是第 8 个，六一班学生有_____人。

9. 语文课上，老师讲了成语“十拿九稳”，如果用百分数来表示“十拿九稳”是_____。

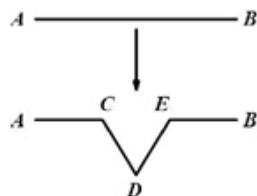
10. 学校体育器材室乒乓球的袋子中有 8 个黄球和若干白球，它们除了颜色外完全相同，行行从中任意摸出一个球，若摸出黄球的可能性是 $\frac{4}{5}$ ，则白球有_____个.

11. 平平准备用一个长方形的纸板做一个最大的圆，这个长方形的面积是 42 平方厘米，长方形的一条边是 7 厘米，那么这个圆的面积是_____平方厘米. (π 取 3.14)

12. 学校要在 A 地植树 140 棵，B 地植树 100 棵，甲、乙两个园丁每天分别能植树 28、32 棵. 甲在 A 地，乙在 B 地，若其中一人完成后，立即要帮助另一个人植树. 两人同时开始，那么，AB 两地全部完成植树任务用_____天.

13. 体育课结束的时候，从 600 米远的地方往回抬一个器材筐，需要 2 个同学一起抬；现在由 3 个同学轮流抬，平均每个同学抬了 米.

14. 李老师把一个橡皮筋 AB 做如下图的“生长”操作，将 AB 变成折线 $ACDEB$ ，其中 C 和 E 是 AB 的三等分点， C 、 D 、 E 三点可构成等边三角形. 行行想了想，如果一个边长是 9cm 的等边三角形，把每条边都进行“生长”操作，经过 1 次“生长”操作得到的图形的周长是 cm .

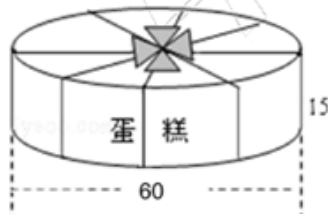


15. 学校里一台只装有 A4 纸的复印机有 6 个可放大或缩小的功能键（如图所示），其中 250%、100% 和 50% 这三个键因损坏而不能使用. 现有一页 A4 纸文件需要复印一份与原件一样大小的复印件，至少要复印 次 .

250%	200%	125%	100%	50%	10%
------	------	------	------	-----	-----

四. 实际应用. (每题 6 分, 共 30 分)

16. 用塑料绳捆扎一个圆柱形的蛋糕盒（如图，单位：厘米），在它的整个侧面贴上商标和说明，这部分的面积是多少平方厘米？（ π 取 3.14）



17. 为了加强学生的体育锻炼，学校要求每个班级配 30 根跳绳，平平 and 行行分别去了两家商店，两家商店的跳绳都是 18 元一根，他们打电话告诉对方两个店的优惠情况，A 店打七五折销售，B 店按“满 100 减 30 元”的方式促销. 请问选择哪个店买省钱，跟原价相比能省多少钱？

18. 围棋，起源于中国，中国古代称为“弈”，可以说是棋类之鼻祖，围棋至今已有 4000 多年的历史，围棋使用方形格状棋盘及黑白二色圆形棋子进行对弈. 现在第一堆围棋子中含有白子 35%，第二堆棋子中含有白子 45%，平平将两堆棋子混合，混合后一共有 160 颗，

且含有白子 40%，原来第一堆围棋子有多少颗？

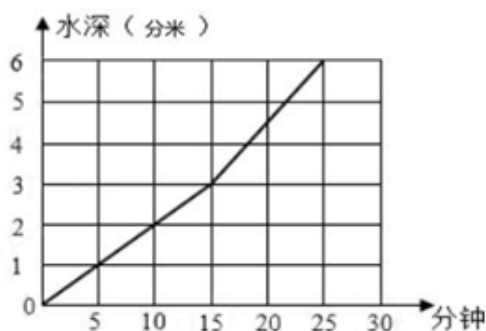
19. 行行在手工课时把两个相同的长方形按图 1（上图为四等分）放置，现在将这两个长方形分别同时向左右方向平移至图 2，每个长方形的移动速度都为 2 厘米/秒。

- (1) 请问这个长方形长多少厘米？
- (2) 这个平移过程需要多长时间？



20. 学校食堂有一个底面积为 30 平方分米，高 8 分米的圆柱形水箱，水箱中装有 A、B 两个进水管，先开 A 管，过一段时间后两管同开，线线用下面折线图表示进水情况，请根据图回答以下问题。

- (1) A 管开放 _____ 分钟后，B 管开始与 A 管同时进水。
- (2) A 管 10 分钟进水 _____ 立方分米。
- (3) A、B 两管同时进水，每分钟进水多少立方分米？（需要写过程）



第三部分 英语素养

一、 单项选择。(5 分)

1. American Thanksgiving Day is in _____.
A. July B. November C. August D. October
2. My dress is Size M. Your dress is Size L. Your dress is _____ than _____.
A. bigger; my B. smaller; my C. bigger; mine D. smaller; mine
3. You can go to the _____ to send postcard to your friends.
A. post office B. museum C. cinema D. hospital
4. ---What do you have _____ lunch _____ Mondays?
---We have tomatoes, tofu and fish. Here is our school menu.
A. at; in B. of; with C. for; on D. for; in
5. ---What are you doing now?
---We _____.
A. are playing pianos B. are playing the piano
C. playing the piano D. are play the pianos

二、 用所给单词的适当形式填空。(10 分)

1. I have many _____ (friend) in my class, I'm very happy everyday.
2. ---What did you do last weekend?
---I _____ (help) my mother do housework.
3. My mother and I are planning to have a surprise party of our little sister's _____
(nine) birthday.
4. ---Jim, let's _____ (play) football this Sunday.
---Good idea!
5. ---Jim, is this model ship yours? It's beautiful.
---Yes, Alice. It's _____ (I). It's made by myself.
6. I like _____ (collect) stamps very much.
7. Did you go _____ (swim) last Sunday.
8. Taylor Swift is one of the best _____ (sing) in American.
9. One day, Mr. Green asked Mrs. Green _____ (go) shopping for him.
10. Jimmy is used to _____ (watch) TV the whole night.

三、 请选出正确的答句，并将选项填入括号中。(5 分)

- () 1. When's your birthday? A. Yes, we did.
() 2. What's your favorite holiday? B. It's the fifth of August.
() 3. What date is it today? C. It's on the fifth of August.
() 4. What did she do on the farm? D. Spring Festival.
() 5. Did you have a wonderful time? E. She planted some flowers.

四、句型转换。(5 分)

1. There are some flowers on the teacher's desk? (一般疑问句)
_____ flowers on the teacher's desk?
2. I think he is very clever. (否定句)
I _____ think he _____ very clever.
3. Must I do my homework before school? (作否定回答)
_____.
4. We have fine weather today. (改为感叹句)
_____ weather we have today!
5. Twenty minutes later the clock will strike twelve. (保持句意基本不变)
The clock will strike twelve _____.

五、阅读理解。(10 分)

A

In some parts of the world there are large deserts. There are no trees and no water there. Travelers must take food and water with them. The only animal that can walk through the desert is the camel. It can go without food or water for a long time and it can carry heavy things. People call the camel "the ship of the desert". The camel's humps(驼峰)hold fat, and its stomach(胃) holds water in twelve deep pockets. Each pocket has a closed mouth, and the food does not mix(混合) with the water. When the camel wants some water, it can get it out of the pockets. The camel's food is grass and leaves of trees.

根据短文内容,判断正误,正确的写 T,错误的写 F.

- () 1. Camels can walk through the desert because they don't drink or eat.
() 2. People call the camels "the ship of desert", because all camels can swim in the desert.
() 3. All camels have less than three humps.
() 4. Every camel, even the young, has got twelve pockets in its stomach.
() 5. Camels only eat grass.

B

Mrs. Green is going to give a birthday party to Mary. Mary is her daughter. She will be ten years old. A lot of her friends are coming to the party. Twenty of them are girls.

Mrs. Green is getting ready for the party. Mrs. White is helping her.

"That's a big nice cake," says Mrs. White to Mrs. Green.

"Thank you very much."

Mrs. Green is going shopping now. She is going to buy fruit for the party. Mrs. Green buys a lot of pears, apples, oranges and bananas. Then she goes home.

It's five o'clock in the afternoon. Everything is ready. Now the first girl is arriving. The party is going to begin in thirty minutes.

回答问题

1. Who is Mrs. Green going to give a birthday party to?

2. How old is Mary?

3. What does Mrs. Green buy fruit for?

4. When is the party going to begin?

5. How many girls are there at the party?

六、趣味题。(5 分)

1. "Walls have ears" means_____.

A.墙上有洞 B.隔墙有耳 C.震耳欲聋 D.耳聪目明

2. ---Who's the boy in a hat?

A.戴着帽子 B.在帽子上 C.拿着帽子 D.带着帽子

3. "Practice in pairs." means_____.

A.两人练习 B.两人表演 C.组成小组 D.三人游戏

4. She's a green hand. "green hand" means_____.

A.老手 B.新手 C.绿手 D.热手

5. "Like father, like son." means_____.

A.父子一样 B.像父亲,又像儿子 C.有其父必有其子 D.喜欢父亲也喜欢儿子

第四部分 综合素养

清明节当天，小瓶盖们一起参加了平行线教育举办的六年级第三次阶段性综合测评。大家一起与他们来解答下列问题吧。

1. 唐朝是我国古代的诗歌鼎盛时期，家喻户晓的“大李杜”和“小李杜”就出自这一时期，其中“大李杜”指_____和杜甫，而与李商隐并称为“小李杜”的_____在清明时节写下了“清明时节雨纷纷，路上行人欲断魂”的著名诗句。（4 分）

2. 古往今来，有很多描绘清明的诗词，下列哪一项描绘的不是清明（ ）（4 分）

- A. 借问酒家何处有？牧童遥指杏花村。
- B. 春城无处不飞花，寒食东风御柳斜。
- C. 试上吴门窥郡郭，清明几处有新烟。
- D. 远上寒山石径斜，白云深处有人家。

3. 为了弘扬革命传统和爱国主义精神，在清明节来临之际，小瓶盖们所在的班级举行了“缅怀革命先烈，学习英雄事迹”的活动，你能将下列英雄与其介绍对应起来吗？（4 分）

刘胡兰	舍身炸碉堡
杨靖宇	抗美援朝上甘岭战役
董存瑞	生的伟大，死的光荣
黄继光	东北抗日联军领导人

4. 清明一到，气温升高，正是春耕春种的大好时节，故有“清明前后，种瓜点豆”的农谚。植物产生同自己相似的新个体称为繁殖，有些植物可以用根、茎、叶繁殖后代，但是我们熟悉的绿色开花植物几乎都是从（ ）开始他们新的生命的。（4 分）

- A. 花 B. 根 C. 叶 D. 种子

清明节前夕，2018 年全国两会顺利闭幕。两会期间产生了许多将会改变我们生活的重大决议决定。

5. 3 月 13 日，国务院机构改革方案提请十三届全国人大一次会议审议，改革着重推进重点领域和关键环节的机构职能优化和调整，提高政府执行力。以下哪个不是改革后的国务院组成部门？（4 分）

- A. 外交部 B. 国防部 C. 教育部 D. 农业部

6. 为了巩固蓝天保卫战成果，推进污染防治取得更大成效。李克强总理在政府工作报告中强调：今年二氧化硫、氮氧化物排放量要下降 3%，以下哪个不是氮氧化物产生的危害（ ）。(4 分)

- A. 雾霾 B. 酸雨 C. 全球变暖 D. 光化学烟雾

7. 阳春三月，万物复苏，春季是一年中最美好的季节。但它的气候也变化无常，也是一些传染病的高发阶段，因此有人把春季称为“多病之春”，以下哪些措施能有效地减少疾病的发生和传播（ ）（多选题）(4 分)

- A. 勤洗手，养成良好的卫生习惯 B. 不到人口密集、空气污染的场所去
C. 合理膳食，增加营养 D. 开窗通风，保持室内空气新鲜

8. 春分是春季 90 天的中分点，春分时太阳直射点在 _____，此时全球绝大部分地区昼夜等长，春分过后北半球各地昼 _____（长/短）夜 _____（长/短）。(4 分)

9. 俗话说“一年之际在于春”，春天是美好的代名词，赞美春天的诗句不胜枚举，学校将以“我和春天有个约会”为主题，举办手抄报大比拼活动。

(1) 请你为此活动设计一个宣传语 (2 分)

(2) 如果你要参加此活动，你会怎么设计？请将设计图画在答题卡对应区域。(6 分)

数学素养

一. 请你算一算. (每题 4 分, 共 8 分)

1. 50 2. $x=4$

二. 请选择你认为正确的选项. (每题 4 分, 共 20 分)

3. C 4. A 5. D 6. B 7. A

三. 请你来填空. (每题 4 分, 共 32 分)

8. 45 9. 90% 10. 2 11. 28.26 12. 4 13. 400 14. 36 15. 5

四. 实际应用. (每题 6 分, 共 30 分)

16. 圆柱的侧面积: $60 \times 3.14 \times 15 = 2826$ (平方厘米)

答: 这部分的面积是 2826 平方厘米.

17. A: $30 \times 18 \times 0.75 = 405$ (元)

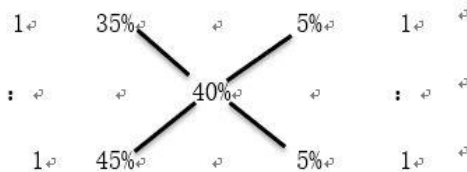
B: $30 \times 18 = 540$ (元)

$540 - 5 \times 30 = 390$ (元)

$405 > 390$ 选择 B 商店, 可以节省 $540 - 390 = 150$ (元)

答: 选择 B 商店, 跟原价相比能省 150 元.

18. 方程或者配比



$160 \div (1+1) = 80$ (颗)

答: 原来第一堆围棋子有 80 颗.

19. (1) $84 \div (1 + \frac{3}{4}) = 48$ (厘米)

(2) $48 \times \frac{3}{4} \div (2+2) = 9$ (秒)

答: (1) 这个长方形长 48 厘米. (2) 这个平移过程需要 9 秒.

20. (1) A 管开放 15 分钟后, B 管开始与 A 管同时进水. ↵

(2) A 管 10 分钟进水 60 立方分米. ↵

(3) A、B 两管同时进水, 每分钟进水多少立方分米? ↵

$$30 \times (6-3) \div (25-15) = 9 \text{ (立方分米)} \quad \text{↵}$$

答: 每分钟进水 9 立方分米. ↵

语文素养

(满分: 70 分)

一、基础知识与积累。(共 26 分)

1、下列各组字中声母完全不同的一组是()。(3 分)

- A. 峻 竣 竣 俊 B. 戍 戌 戌 戎
C. 乐 砾 砾 烁 D. 占 拈 沾 惦

【答案】B

2. 下面各句中没有语病的是()。(3 分)

- A. 能否具备良好的心理素质,是考试取得好成绩的关键。
B. 我们不仅要在课堂上及教科书中学语文,还要在课堂外和生活中学语文。
C. 经过车辆尾号限行措施,使成都的交通状况改观了很多。
D. 老师耐心地纠正并指出了我这次作文中存在的问题。

【答案】B

3. 根据提示,修改下面一段文字。(3 分)

传统文化是民族内在的灵魂和血脉,是民族的身份证明,①是中华儿女和穆相处,撮手发展的共同精神家园,是中华民族生生不息的不竭动力。②中国之所以成为世界上最早的几大文明古国之中(百里挑一 绝无仅有 难以想象)的延续至今的国家,一个重要原因就是中华文化具有坚强的生命力与内在的活力。

(1) ①处画线句中标点符号使用有误,且有两个错字,请将改好的句子写在下面。(2 分)

(2) ②处画线句中所给的三个词语中最符合语境的是_____。(1 分)

【答案】(1)是中华儿女和睦相处、携手发展的共同精神家园,是中华民族生生不息的不竭动力。(2)绝无仅有。

4. 下面哪个句子标点符号的使用是正确的?请选一选。() (3 分)

- A. 茫茫宇宙到底有没有外星人,生命能不能合成,人果真由命运主宰?这一切都引起人们深深地思考。
B. 有关专家指出,白开水是最符合人体需要的“天然饮料”:它既洁净,又能使硬度过大的水变得适中——(因为过多的矿物质煮沸后会沉淀),还会有多种微量元素。
C. 我们的肌肤每天受到各种侵害,阳光的辐射、空气的污染,都会使肌肤变得干燥粗糙。您是否想过给自己的肌肤补充一些营养呢?

D. 到底去不去呀？我的小祖宗！妈妈“咚咚咚”地敲着我的房门：“人家来电话催好几遍了，你倒是给人家一个回话呀！”

【答案】C

5. 你知道下列对联写的人物是谁吗？请选出正确的一项。（ ）（4分）

- (1) 犹留正气参天地，永剩丹心照古今。
- (2) 四面湖山归眼底，万家忧乐到心头。
- (3) 鬼狐有性格，笑骂成文章。
- (4) 酌酒花间，磨针石上；倚剑天外，挂弓扶桑。

- A. 岳飞 范仲淹 蒲松龄 辛弃疾
- B. 文天祥 范仲淹 蒲松龄 李白
- D. 岳飞 杜甫 蒲松龄 李白
- C. 文天祥 杜甫 李白 辛弃疾

【答案】B

6. 古往今来，许多文学作品都写过石头：_____曾以石补天，_____曾以石填海，《_____》曾名为《石头记》，_____笔下的美猴王竟是一尊石猴。（4分）

【答案】女娲 精卫 红楼梦 吴承恩

7. 2016年11月30日，联合国教科文组织保护非物质文化遗产政府间委员会批准中国申报的“二十四节气”列入联合国教科文组织《人类非物质文化遗产代表作名录》。

(1) 依据《二十四节气歌》填空：立春梅花艳，_____红杏鲜，_____闻春雷，春分蝶踟蹰。（2分）

(2) 读诗句，说说你从诗句中了解了哪些有关“清明节”的信息。（4分）

- ① 春城无处不飞花，寒食东风御柳斜。
- ② 梨花风起正清明，游子寻春半出城。
- ③ 风雨梨花寒食过，几家坟上子孙来？
- ④ 马穿杨柳嘶，人倚秋千笑。

【答案】（1）雨水 惊蛰

（2）①寒食节家家禁火，有折柳插门的习俗。②清明节是人们又踏青寻春的好时节。③清明有扫墓祭祖的习俗。④清明有踏青、荡秋千等活动。

二、阅读下面的文字，完成（1）～（4）题。

乌鸦喝水

徐成龙

“小朋友，乌鸦口渴了怎么办？”老师的话音一落，教室里一双双小手树林一般竖了起来。

“乌鸦是用什么方法喝到瓶子里的水的？”老师和蔼可亲，眉开眼笑的。

一双双眼睛如饥似渴地盯着老师，有几个学生急不可待了，从位置上站起来，似乎怕老师看不到。老师笑咪咪地指定一位女生回答。小女生忽地站起来，忽闪着明亮的眼睛，声音甜润悦耳，回答得天衣无缝。

“读了这个故事，大家明白什么道理吗？”老师的提问越来越有深度了。课堂里沉默一会儿，一双双小手又慢慢地举了起来。

“这位男同学，你来回答。”老师指着坐在前面的一个小男生说。

“这个故事告诉我们，遇到困难要开动脑筋想办法。”小男生大大方方地回答。你真聪明。老师的笑容灿烂了，掏出一朵小红花，亲切地说：“奖你一朵小红花。”男生喜滋滋地坐下，挺自豪的。

这是一堂公开课，上的是《乌鸦喝水》，执教的是很有名气的张老师。她看着同学对答如流，脸上露出了欣慰的笑容。坐着听课的老师也不停地颌首称是。“老师，我有一个问题。”忽然，一个胖男生说。

张老师脸上露出一丝惊讶，倏然间恢复了常态，迈开步子向前走去，脸上还是挂着笑：“说说你的问题吧！”

“老师，我想……乌鸦不一定能喝到瓶子里的水。”胖男生挠着头皮，眼睛看着老师，也许是紧张吧，说话也不伶俐了。胖男生的话像给平静的湖面投了一块石子，教室里唧唧喳喳的，许多学生流露出鄙夷的神色，窃窃私语。

张老师**悻悻**着，自己教了十几年的书，这课书不知道讲了多少遍，从没有学生提出这个问题，这个学生也太幼稚了。张老师的脸微微涨红，咳嗽一声，掩饰住刚才的尴尬，又变得镇定自若了。

张老师环顾了一下教室，满面春风地问：“同学们，你们说，乌鸦能喝到瓶子里的水吗？”“能。”同学们异口同声地说。

“瓶子里有水，乌鸦怎么会喝不到水呢？”一个女生轻蔑地看了一眼胖男生说。“是啊！”张老师接言道，“瓶子里有水，放上小石子水就会往上升，这是基本常识。我们应该像那只乌鸦一样，开动脑筋想一想，不要**信口开河**。”

张老师示意胖男生，他无奈地坐下，耷拉着脑袋默然不语，眼眶溢满了泪水。张老师依然兴致勃勃地讲着《乌鸦喝水》的课文，一年又一年。

十几年过去，那个胖男生师范毕业了，分配到母校任教，成了一位新教师，大家热情地喊他赵老师。学校有个不成文的规定，新分配来的老师要上一节公开课。赵老师左思右想，决定上《乌鸦喝水》这一课。

课堂气氛活跃极了，水到渠成的。听课的老师露出了满意的笑容。讲课将要结束的时候，赵老师笑眯眯地说：“小朋友们，《乌鸦喝水》这一课已经讲完了，你们都没有什么问题吗？”赵老师的眼光充满了期待，亲切地看着小朋友。”

一个女生站起来，清脆地说：“老师，我有一个问题，乌鸦在瓶子里放上小石子，它真的能喝到水吗？”

课堂里顿时沉寂下来，在座的都看着赵老师。一个男生扑哧一声笑了：“课文不是已经说乌鸦喝到水了吗？这有什么怀疑？”教室里霎时嗡嗡起来，有些人还在嘻嘻地笑。

赵老师挥着手，让小朋友安静，说：“大家都发表了意见，那么我们看看乌鸦究竟能否喝到水，让事实说话吧！”

赵老师拿出几个装着数量不一的水的瓶子和一盆小石子，和颜悦色地说：“下面我们做个实验，在几个瓶子里放上小石子，看看乌鸦能否喝到水。”赵老师的话音一落，小朋友们乐坏了，争先恐后要上台做实验。

上来的小朋友小心翼翼地放着小石子，教室里鸦雀无声，一会儿结果出来了。小朋友看着其中的一个瓶子目瞪口呆了，听课的老师也目瞪口呆了，教室里又是一阵交头接耳声。

“我们的实验结束了，小朋友们看到了什么？”赵老师按捺不住喜悦地问。

“有一个瓶子，乌鸦是无论如何也喝不到水的。”小朋友不约而同地高声道。

赵老师话题一转：“怎样的瓶子乌鸦才能喝到水呢？”

小朋友们陷入了沉思，那个女生站起来不慌不忙地说：“瓶子里有足够的水乌鸦才能喝到，否则就喝不到了。”赵老师睿智的目光闪着光彩。热烈的掌声响起，在教室里久久回荡。

听课的张老师走出教室，一下子把赵老师的手握住了，激动地说：“小赵，你给我们上了一堂精彩的课。”（有删改）

1. 将第1自然段中画线句改为“教室里一只只小手迅速举了起来”好不好？为什么？（3分）

2. 第7自然段加点词“信口开河”可用下列哪个词替换,意思不变?() (2分)

- A. 胡言乱语 B. 言而无信 C. 信誓旦旦 D. 守口如瓶

3. 在张老师和赵老师的课上都发生了出人意料的特殊情况,但结果并不相同。请仔细阅读相关段落填表。(8分)

《乌鸦喝水》	特殊情况(概括)	具体表现
在张老师的课堂上	胖男生提出乌鸦不一定很能喝到水。	提问者: 紧张、无奈 张老师: (2) _____ 同学们: (3) _____
在赵老师的课堂上	(1) _____ _____	赵老师: 胸有成竹、正确引导 小朋友: (4) _____

4. 下列最能体现本文主旨的诗句是()。(3分)

- A. 只缘身在此山中 B. 近朱者赤近墨者黑 C. 青出于蓝胜于蓝 D. 柳暗花明又一村

【答案】

1. 示例①: 不好。因为文中原句运用了比喻的修辞手法,形象生动地表现了课堂上学生积极举手发言的情景。

示例②: 好。“迅速”一词可以表现学生积极发言的情景,“一只只”则表现举手的同学多,与原句运用比喻的表达效果一致,而且更加简洁。

2. A

3. (1) 赵老师引导小朋友用实验证明乌鸦的确有可能喝不到水。

(2) 愣怔(尴尬)、镇定自若(满面春风)

(3) 鄙夷(轻蔑)、窃窃私语

(4) 目瞪口呆、陷入沉思

4. C

三、阅读文言文,回答问题。(8分)

昔齐人有欲金者,清旦①衣冠而之市。适鬻(yù)金者之所,因攫(jué)其金而去。吏捕得之,问曰:“人皆在焉,子攫人之金何?”对曰:“取金之时,不见人,徒见金。”

【注释】①清旦:清早。②适:往,去,到。③鬻:卖。

1. 解释下列句中加点的字。(4分)

- (1) 昔齐人有欲金者() (2) 因攫其金而去()

(3)吏捕得之() (4)徒见金()

2. 翻译文中画线句子。(2分)

3. 这则寓言讽刺了社会上哪类人?(2分)

【答案】

1. (1)从前(2)离开(3)抓捕(4)只
2. 有这么多人都在场,你怎么敢抢人家的金子呢?
3. 讽刺了只顾眼前利益、利欲熏心、胆大妄为的这类人。

四、习作乐园。(20分)

脑海中的往事像镜头倒转一样连续不断地上演,无一不是平平淡淡的小事,却温暖得令人忍不住落泪。那一段段美好的时光,静静流淌在心泉的最深处,它将永远温馨地鲜活。在遥远的记忆里,成为支持我一往无前的力量。

请以“那件小事激励着我”为题目写一篇文章。

要求:①内容具体,有真情实感;②体裁为记叙文;③字数在300字左右;④凡涉及真实的人名、校名、地点,一律用A、B、C等英文大写字母代替;⑤不得抄袭。

英语素养

一、1-5 BCACB

二、1.friends 2.helped 3.ninth 4.play 5.mine

6.collecting 7. swimming 8. singers 9.to go 10. watching

三、1-5 CDBEA

四、1.Are there any

2.don't; is

3.No, you needn't.

4.What fine

5.in twenty minutes

五、A. 1-5 FFTTF

B. 1. Mary

2. Mary is 10 years old. / Ten years old.

3. For the party. / For Mary's birthday party.

4. 5:30 / Half past five. / Five Thirty

5. Twenty. / 20.

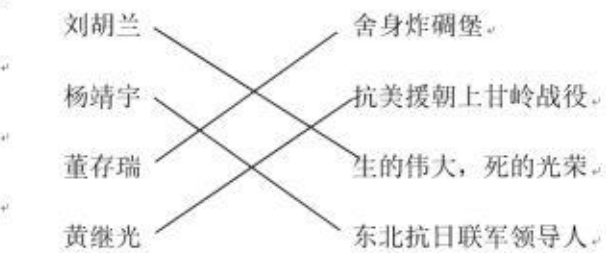
六、1-5 BAABC

综合素养

1、李白 杜牧（每空 2 分，共 4 分）

2、D（4 分）

3、（共 4 分）



4、D（4 分）

5、D（4 分）

6、C（4 分）

7、ABCD(全对给 4 分，少选不给分)

8、赤道 长 短（第一空 2 分，2、3 空各一分）

9、老师酌情给分。

郑州牛家长

微信号: zznijiazhang

长按二维码关注



 升学信息  家长社群  公益讲座

 我们不是搬运工 原创才是我们的特色