

郑州市 2019 年高中毕业班第三次质量预测

文综试卷

试卷解析：新东方地理、政治、历史教研组

本试卷分选择题和非选择题两部分。考试时间 150 分钟，满分 300 分。考生应首先阅读答题卡上的文字信息，然后在答题卡上作答，在试题卷上作答无效。交卷时只交答题卡。

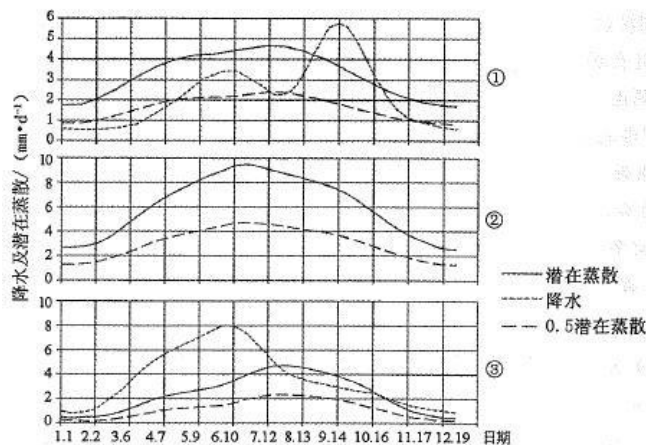
第 I 卷

本卷共 35 个小题，每小题 4 分，共 140 分。在每小题给出的四个选项中，只有一项是符合题目要求的。

图 1 为世界局部区域示意图，图 2 中①②③表示图 1 中三个地区多年平均日降水和潜在蒸散量的年内变化。读图完成 1~3 题。



图 1



注：潜在蒸散表示在一定气象条件下水分供应不受限制时，某一固定下垫面可能达到的最大蒸发蒸腾量。当一个地区某时期 $P < 0.5PET$ (P 为降水量， PET 为潜在蒸散量) 时为其气象干旱期， $P > 0.5PET$ 时为湿润期 (其中 $P > PET$ 为潮湿期)。

图 2

1. 图 2 中①代表的区域

- A. 4 月中旬至 7 月上旬为干旱期
- B. 7 月中旬至 8 月上旬为湿润期
- C. 9 月上旬至 10 月中旬为潮湿期
- D. 11 月初至次年 4 月底为湿润期

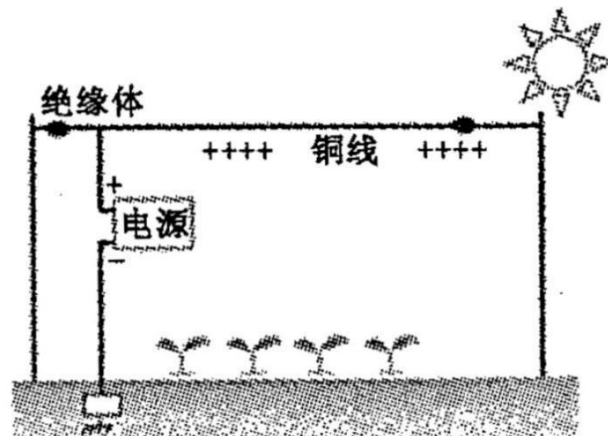
2.图 2 中①②③与图 1 所示地区对应正确的是

- A.①—甲 B.②—丙 C.③—乙 D.①—丙

3.导致乙、丙两地区潜在蒸散量差异的主导因素是

- A.海陆位置 B.大气环流 C.地面状况 D.洋流分布

20 世纪 90 年代我国开始进行电气栽培技术试验。在电气栽培大棚中(图 3)，农作物生长在裸露的铜线下，高出地面约 3 米的铜线通电后产生的高频电流能杀死空气或土壤中的细菌和病毒。在植物内部，高频电流加速天然带电粒子(如碳酸氢盐和钙离子)的运输，同时也使吸收二氧化碳和光合作用等代谢活动有所增加。目前在我国，一公顷的电气化温室大棚每天需要消耗大约 15 度电，耗电量非常低，但考虑到硬件成本问题，未在所有大棚中开展电气栽培技术。据此完成 4~6 题。



4.发展电气栽培技术的最主要目的是

- A.延长作物生长周期，提高作物产量 B.加快作物生长，降低生产成本
C.减少化肥农药使用，改善作物品质 D.增加科技投入，提高产品价格

5.目前，在电气栽培大棚中种植最多的农作物可能是

- A.小麦 B.牧草 C.棉花 D.蔬菜

6.与我国东部沿海地区相比，西部地区推广电气栽培的最大障碍是

A.气候 B.土地 C.资金 D.能源

大规模的人口迁移能迅速改变一个地区的人口结构并导致老龄化。根据地区老年人口和非老年人口的数量变化情况将老龄化划分为:残留老化、集聚老化、自然老化及集聚稀释四种类型。图 4 为 2000~2010 年我国某市老龄化类型空间分布图,表 1 为 2000~2010 年该城市中心区 37 个街区老龄化空间类型统计表。阅读材料完成 7~8 题。

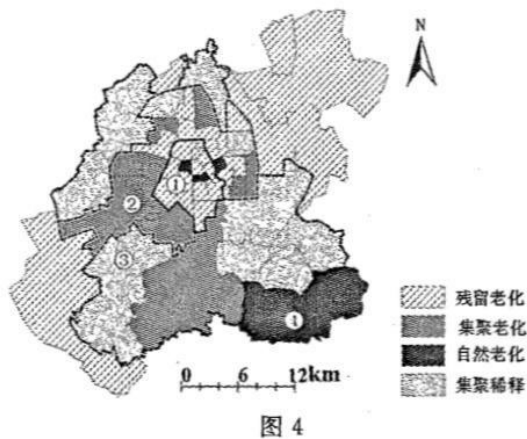


表 1

老化类型	街区数	老年人口变化	非老年人口变化	2010 老龄化率(%)
残留老化	21	15621	-121784	10.26
集聚老化	11	40987	126203	9.32
自然老化	3	2118	17759	9.22
集聚稀释	2	2626	47915	5.50

注:如果一个地区的老龄化率超过 7%,则该地区属于老化型区域。

7.2000~2010 年,该市

- A.①区域大量劳动力流入 B.②区域老年人口基数小
C.③区域大量老年人口流出 D.④区域人口流动较少

8.该市最可能是

- A.广州 B.上海 C.西安 D.长春

长白山高山苔原位于长白山火山锥体上部(海拔约为 2000-2500m),主要以灌木苔原为主,很少有草本植物。在全球气候变化背景下,原先位于长白山苔原带西坡较低海拔的草本植物不断上侵,原有的灌木开始萎缩退化。图 5 为草本入侵程度与环境因子变化关系示意图。读图完成 9~11 题。

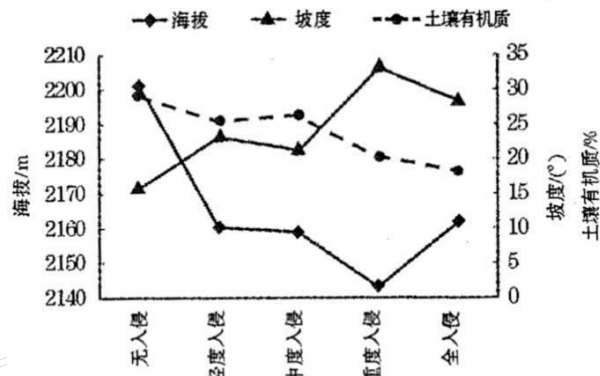


图 5

9.全球变暖背景下，高山苔原带最先遭受草本植物入侵的区域是

- A.较低海拔的缓坡地带
- B.较低海拔的陡坡地带
- C.较高海拔的缓坡地带
- D.较高海拔的陡坡地带

10.随海拔升高，草本植物入侵减弱的原因是

- ①气温降低
 - ②光照减弱
 - ③降水增加
 - ④种子传播距离加大
- A.①② B.②③ C.①④ D.③④

11.草本植被入侵后导致当地

- A.生物量增加
- B.生物耗水量增加
- C.土壤肥力降低
- D.土壤水分降低

12.进入 2019 年，人民币兑美元汇率接连走强，在其他条件不变的情况下，下列对汇率变化及其影响描述正确的是

序号	币值	汇率	影响
①	人民币升值	美元汇率跌落	有利于我国商品出口
②	人民币贬值	美元汇率上升	有利于我国商品出口
③	美元升值	人民币汇率下降	有利于我国吸引外资
④	美元贬值	人民币汇率上升	有利于我国对外投资

A.① B.② C.③ D.④

13.均衡性转移支付资金是以促进地区间基本公共服务均等化为目标，综合考虑各种因素，由中央分配给地方的补助资金。日前，财政部下发通知，提前向全国地方政府投入 16632 亿元的中央财政资金，主要用于公务员教师等工资发放及其他民生支出。中央实施此轮均衡性转移支付

- ①发挥了再分配的调节功能
- ②促进了财政收支平衡
- ③提高了市场配置资源效率
- ④有利于促进社会公平

A.①② B.①④ C.②③ D.③④

14.2019 年的《政府工作报告》提出，下调城镇职工单位养老保险缴费比例，各地可降至 16%；同时，加快推进养老保险省级统筹改革，继续提高企业职工养老保险基金中央调剂比例，划转部分国有资本充实社保基金。此举

- ①有利于降低企业经营成本，促进企业提质增效
- ②可以减少职工社保缴费数额，提高其生活水平
- ③增进民生福祉，使全民共享国有经济发展成果
- ④能拓宽社保基金筹资渠道，增加劳动报酬所得

A.①② B.①③ C.②④ D.③④

15.全国人大十三届二次会议就表决通过的《中华人民共和国外商投资法》明确规定，国家外商投资实行准入前国民待遇加负面清单管理制度，此举旨在

- ①保护外商在华合法利益，优化营商环境

②增强投资者的信心，创新外商投资方式

③放宽市场准入，积极促进外商来华投资

④促使我国企业走出国门，促进国际合作

A.①③ B.①④ C.②③ D.②④

16.2019 年年初，全国人大环境与资源保护委员会委托中国工程院开展了水污染防治法实施情况评估研究工作，并把评估结果运用到执法检查中，这是全国人大常委会首次在执法检查中引入第三方评估，全国人大常委会引入第三方评估

①保障了第三方参与执法检查的权利 ②增强了人大监督工作的科学性

③促使人大的决定权得以真正的实现 ④创新了人大执法检查工作方法

A.①② B.①③ C.②④ D.③④

17.2019 年 1 月 10 日，中共中央印发了《中国共产党农村基层组织工作条例》。该条例对党的农村基层工作作出全面规范，是新时代党的农村基层组织建设的基本遵循。该条例

①加强和规范基层政权的工作

②是党更好履行管理农村公共事务职能的重要举措

③推动全面从严治党向基层延伸

④为新时代乡村全面振兴提供坚强政治和组织保证

A.①② B.①③ C.②④ D.③④

18.独龙族是我国 28 个人口较少民族之一，长期聚居于深山峡谷中的云南省贡山县独龙江乡。新中国成立初期，该族告别刀耕火种的原始社会，直接过渡到社会主义社会。新时代独龙族人民团结一心艰苦奋斗，2018 年实现整族脱贫，独龙族的两次跨越

①使平等团结互助和谐新型民族关系得以形成

- ②是我国改善民生、促进共同发展的生动写照
- ③体现了我国社会主义民主政治制度的优越性
- ④是维护独龙族人民群众民主权利的根本保障

A.①③ B.①④ C.②③ D.②④

19.2019年2月5日，由中国国家京剧院与意大利艾米利亚—罗马涅刚院基金会联合制作的实验京剧《图兰朵》在罗马上演。该剧改编自意大利歌剧《图兰朵》，融合了中西方戏剧、音乐元素，让西方观众在他们熟悉的故事中领略中国京剧艺术魅力。这说明

- ①通过文化融合实现文化创新是繁荣文化的重要途径
- ②不同民族文化间的共性是人类文明进步的重要动力
- ③文化的交流、借鉴与融合有助于世界文化繁荣发展
- ④坚持对优秀传统文化的批判继承是文化创新的源泉

A.①②

B.①③

C.②④

D.③④

20.随着权健、无限极等一个个保健品神话的破灭，国内的保健品市场成了大家关注的焦点。不少使用保健品的人陷入了恐慌和焦虑中，他们从昔日对保健品的盲目“迷信、依赖”，一下子反转到“怀疑、全面否定”。人们对保健品的认识体现了

- ①认识的反复性决定了对保健品认识的过程性
- ②人们在实践中追求和发展真理是永无止境的
- ③对保健品的认识受到主体和容体因素的制约

④认识的发展是一个不断推翻原有认识的过程

- A.①②
- B.①④
- C.②③
- D.③④

21.黑洞是爱因斯坦广义相对论预言存在的一种天体，光也无法逃脱它的势力范围，这个势力范围称作事件视界。日前，由全球 200 多名科学家共同合作的事件视界望远镜通过全球 8 个高海拔地区的射电望远镜勾勒出了黑洞图像，人类关于黑洞的数百年探索，终于得到了影像印证。这说明了

- ①把握事物的联系有利于人们正确认识客观事物
- ②人为事物联系形成后不能独立于人的意识之外
- ③人们能根据固有联系无条件建立新的具体联系
- ④自在事物的联系是客观的、不以人的意志为转移

- A.①③
- B.①④
- C.②③
- D.②④

22.目前，已经有 150 多个国家和国际组织同中方签署了共建“一带一路”合作文件，大批合作项目落地生根并开花结果，个别项目遇到暂时的困难和问题，但并不能改变“一带一路”受到广泛欢迎的客观事实。“一带一路”的发展现状印证了

- ①认识事物的时候需要坚持两点论和重点论的统一

- ②事物的性质主要是由主要矛盾的主要方面决定的
- ③主要矛盾在事物发展中处于支配地位起决定作用
- ④主要方面与次要方面在一定条件下可以相互转化

- A.①②
- B.①④
- C.②③
- D.③④

23, 所谓“996工作制”, 即早9点上班, 晚9点下班, 一周工作6天。近日, “996工作制”发公众热议, 一边是反对声占多数的员工, 一边是大谈责任的老板。人民日报、新华社对发文表示:奋斗应当提倡, 但“996工作制”违反劳动法。由此可见

- ①材料中价值观的差异导致了人们利益的差异
- ②正确的价值选择要以正确的价值判断为前提
- ③价值判断的正确性依赖于价值选择的合理性
- ④人民利益是衡量价值观正确与否的最高标准

- A.①②
- B.①③
- C.②④
- D.③④

24. 周代作为“天子”的周王既掌握“天命”又主宰“天下”。王室衰微后, 诸侯征伐只能获取实质上的“天下”, 却无法得到象征“天命”的“天子”身份。秦始皇创制皇帝名号, 着重标榜自己的功德, 淡化“天下”为“天命”的赐予。这说明了

- A. 周代天命观念逐渐消亡
B. 秦注重按功德分配身份地位
C. 神权不再与王权相结合
D. 秦意在打破旧有的权力逻辑

25. 北宋《孙明复小集》中记载:儒家学者批判汉唐经学时说“汉魏而下,诸儒纷然四出,争为注解,使我六经之旨益乱”。《二程集》认为“汉之经术安出?只是以章句训诂为事。”由此可知宋代儒学

- A. 忽视了对先秦儒家经典的传承
B. 实现了儒学在危机下的复兴
C. 批判汉唐经学并重建人文信仰
D. 重视知识系统远离生活实践

26. 随着社会经济的发展,宋代出现了富民阶层。苏洵对此有这样的描述:“富民之家,地大业大,阡陌连接,募召浮客(四处漂泊的人),分耕其中,鞭笞驱役,视以奴仆,安坐四顾,指麾于其间。”由此推知,当时

- A. 土地兼并导致了流民问题
B. 农业经营方式比较落后
C. 政府实行特殊的土地政策
D. 人身依附关系更为严重

27. 美国史学家罗威廉在《最后的中华帝国:大清》一书中认为清朝有三个机构创新,三个创新指向了清王朝统治最重要的三个方面。具体情况如表所示:

机构	功能	主要表现
理藩院	管理	对汉族中国本部十八行省之外的管理(大清帝国的多民族与大疆域)
内务府	保护	对皇帝个人及其有关家族的保护
军机处	控制	满洲统治者对核心包括军事权力和行政权力的高度控制

这说明清朝

- A. 倾向于推行满汉民族分治政策
B. 构建了较独特的帝国管控体系

- C . 实行家国同构的国家管理模式 D . 对边疆地区控制相对比较松散

28 . 1876 年，朝鲜与日本签订《江华条约》之后，清政府在“以夷制夷”政策的主导下，催促甚至直接参与了朝鲜与美、英、德、俄、法签订的通商条约。清政府企图在朝鲜与各国签订的条约上写明朝鲜为中国属国，以确保列强承认自身的宗主国地位。这反映了清政府

- A . 被迫放弃天朝观念 B . 外交思想渗透 “中体西用”
C . 逐步接受条约体系 D . 遭受列强的政治控制加剧

29 . 1861 年冯桂芬在《校邠庐抗议》中提出“君民不隔不如夷”之说，他所提出的重儒官、复乡职、公选举以及复陈诗等论，都立足于 “通上下之情起见” ，体现了西方的公举和公论的某些色彩。该主张

- A . 属于资产阶级早期维新思想 B . 一定程度上突破了体用的藩篱
C . 为戊戌变法提供了理论基础 D . 明确提出学习西方的民主政治

30 . 1910 年 9 月，资政院正式成立。职权是议定国家出入预算、决算、税法、公债、制定法规、弹劾大臣等。根据资政院院章，资政院总裁出自钦定，清廷视之为控制资政院的工具。资政院第一任总裁溥伦，主张凡事 “先交资政院参议” ，他与度支部(主管财政)大臣载泽经常因政务问题发生争论，以上材料

- A . 体现 “分权与制衡” 的色彩 B . 表明资政院是最高决策机构
C . 表明预备立宪是一场骗局 D . 加剧革命派和立宪派的分歧

31 . 下表是 1943 年陕甘宁边区土布生产统计，表中数据综合说明当时

	布厂(家)	织机(架)	年产布(匹)	占总产量(%)
国营	23	185	22832	20.7
合作私营	37	179	22000	20.0

私营	50	150	12000	10.9
民间织户		20000	53334	48.4
合计		20514	110116	100

- A. 新民主主义经济的发展
B. 社会主义改造已经启动
C. 个体生产的效率仍较高
D. 官僚资本挤压私人资本

32. 色诺芬在《雅典政制》中写道：“在雅典，奴隶和定居外邦人放肆无比，在那里，你不能打他们，奴隶也不会为你让道……我们已经建立起奴隶与自由人之间的平等、定居外邦人和公民之间的平等”。材料表明当时的雅典

- A. 政策具备人性化的特点
B. 政策立足于保护奴隶的利益
C. 实现了公民的直接民主
D. 自由人和奴隶是公平平等的

33. 18 世纪下半叶，法国国王提出征收廿一税，尽管高等法院不愿登记新税法令，但是未能阻止。这种强权做法激起贵族及其他特权者的抵制，他们将君主行为斥之为“专制”，并通过公共舆论对政府施压，由此侵蚀了王权的合法基础。材料反映了

- A. 法国贵族成为反封建的先驱
B. 法国传统秩序蕴含了民主趋势
C. 征税激起了法国大革命爆发
D. 贵族要求限制国王的税收权力

34. 英国乡村拾穗惯例由来已久。济贫委员会在 1843 年的调查显示，一个家庭捡拾三四蒲式耳(计量单位)的谷物是较为普遍的现象，约占家庭总收入的 3%—13%。捡拾谷物对穷人的重要性依旧不言而喻。但到 19 世纪末，乡村女性逐渐放弃了拾穗活动，上述转变的主要原因是英国

- A. 圈地运动深入发展
B. 女性地位的逐渐提高
C. 经济结构发生变动
D. 福利救助体系的发展

35. 为抵消中国日益增长的全球影响力，美国总统特朗普于 2018 年 9 月份签署一项法律，设立新的外援机构“美国国际开发金融公司”，授权该公司可提供 600 亿美元贷款，并为愿意到发展中国家开拓业务的企业提供保险，包括增加在非洲、亚洲和拉丁美洲的基建投资。美国的这一做法

- A. 表明其把中国当作最大竞争对手 B. 是其推行经济霸权主义的体现
C. 反映出中美激烈地争夺第三世界 D. 是经济多极化日益明显的反映

第 II 卷

本卷包括必考题和选考题两部分。第 36 题至第 42 题为必考题，每个试题考生都必须作答。第 43 题至第 47 题为选考题，考生根据需求作答。

36.(24 分)阅读图文资料，完成下列要求。

洋浦千年古盐田(见图 6)是至今保留最完好、最早采用日晒的古盐场，目前仍有 1000 多个形态各异保存完好的硯式石盐槽密布海滩。2008 年这片古盐田被列为国家非物质文化遗产，2018 年申报世界文化遗产名录。盐田人就地取材，将海岸边黑色的多气孔结构的玄武岩石块凿成一个底面平平如砚状的浅坑，平时在这些石槽中注入经海泥过滤后的海水(涨潮时海水也会自动漫入这些石槽)，经暴晒制作出高品质的盐巴。在现代工业文明的冲击之下，一批批规模较大的工厂化盐场的诞生，严重冲击着盐田人固守的古盐田，传统制盐工艺越来越失去市场存在的价值，村里的新一代年轻人纷纷外出打工。

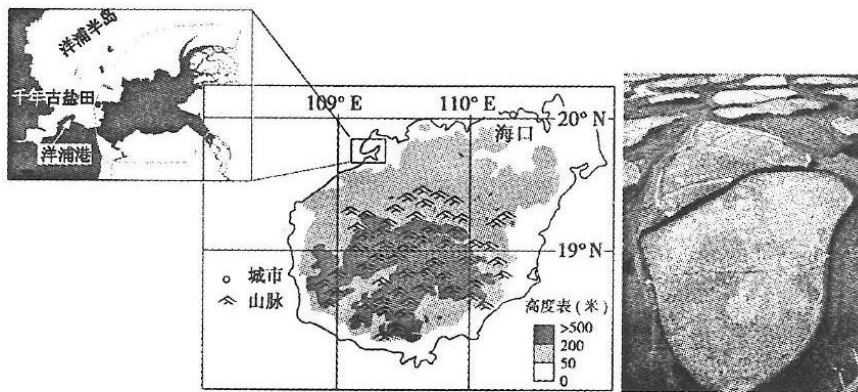


图 6

- (1)当地传统民居多以石头为建筑材料，说明其原因。(6 分)
- (2)分析洋浦古盐田的形成条件。(8 分)
- (3)分析当地村民多以玄武岩作为制盐容器的主要原因。(4 分)
- (4)请你对古盐田的传承与保护提出合理化建议。(6 分)

37.(22 分)阅读图文资料，完成下列要求。

亚洲象是非常珍稀的濒危物种，我国的亚洲象主要分布于云南省西南部(见图 7)。亚洲象是草食性动物，一天要吃掉约 300 公斤的新鲜饲料，每天会长途跋涉寻找水源、采寻食物，不适应生态环境的剧烈变化。亚洲象最适宜的生存环境是原始森林中的沟谷等开阔地，且寿命较长。近几十年来，为追求经济的迅速发展，亚洲象栖息地不断遭到破坏，变成生态孤岛，同时随着人类生活范围的不断扩大，亚洲象和人类的距离越来越近，甚至重叠，形成人象混居。野象伤人、偷食庄稼、踩踏房屋、攻击牲畜家禽等时有发生，而村民在斗争中只能无力驱赶，并无其他应对之策，少数不堪其扰的村民，在极端情况下则会选择报复杀害而造成亚洲象的死亡，人象矛盾突出。

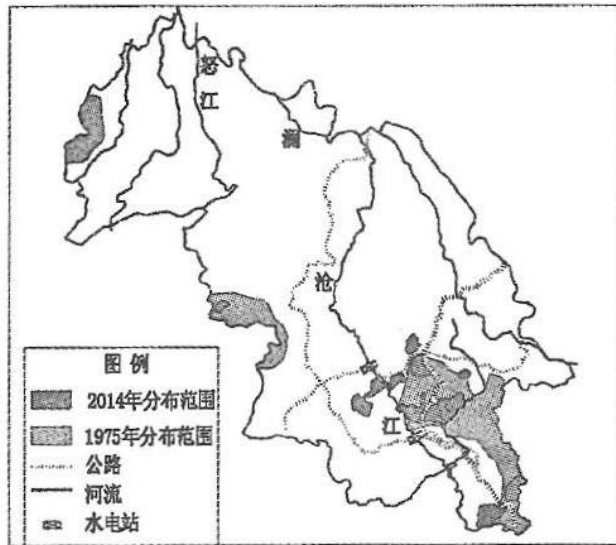


图 7

- (1) 描述云南亚洲象栖息地范围的变化。(4 分)
- (2) 分析云南西双版纳原始森林的沟谷成为亚洲象集聚地的主要原因。(6 分)
- (3) 说明云南亚洲象栖息地演变成生态孤岛的过程。(6 分)
- (4) 请提出保护云南亚洲象的有效措施。(6 分)

38. (14 分) 阅读材料, 完成下列要求。

材料一



数据来源: 国家统计局

(注: 据统计, 全球范围内每 100 人脱贫, 就有 70 多人来自中国。到 2020 年, 中国将提前 10 年完成联合国 2030 年可持续发展议程制定的消除贫困目标。)

材料二 贵州省遵义市播州区平正仡佬族乡团结村是一个深度贫困村, 中天金融集团是贵州一家本土民营企业。2017 年以来, 中天金融集团积极响应中共贵州省委、省政府的号召, 携手团结村, 实现了企业发展与乡村振兴的互利共赢。

中天金融集团的团队, 因地制宜, 精准施策, 先后成立农业发展有限公司、旅游发展有限公司。

企业团队深入挖掘当地优质特色农业资源，带动村民发展有机蔬菜、高山茶园等有机作物种植；做托当地红色文化，仡佬族文化，乡土田园风光，打造了“农旅文”深度融合的体验式农家品牌“乐耕甜”；大力发展电子商务，让农产品牵手电商，实现游客对接农家。中天金融集团积极改善团结村卫生室医疗条件，组织专业医疗队对村民进行体检、建立健康档案，捐赠团体意外保险，为脱贫致富保驾护航。2018年，全村户均增收2万元，最高增收超过20万元；直

接间接带动地800人就业，500余返乡就业创业。与此同时，中天金融集团连续3年上《财富》中国500强，荣获“中国TOP全融榜”“年度社会责任”奖。

简要说明材料一包含的经济信息。(4分)

(2)结合材料二并运用经济生活知识，说明中天金融集团是如何把自身发展和脱贫攻坚有机结合起来的。10分

39.(12分)阅读材料，完成下列要求：

新时代，中国成功走出了一条特色大国外交之路，日益走近世界舞台中央。

党的十八大以来，中国成功组织9次海外公民离境行动，受理各类领事保护救助案近30万起；中国同30多个国家签署产能合作议定书，助力中国企业、装备技术“走出去”；中国在钓鱼岛问题上坚持原则，有理有据回击所谓南海仲裁案....

无论中国发展到什么程度，中国始终是世界和平的建设者、全球发展的贡献者、国际秩序的维护者。推动朝鲜半岛无核化，叙利亚争端等地区热点问题的政治解决，回应国际社会的殷切期待，中国方案赢得普遍赞赏；提出并稳步推进“一带一路”建设，发起成立亚洲基础设施投资银行、金砖国家新开发银行、丝路基金、南南合作援助基金和中国—联合国和平与发展基金等，丰富了全球治理的体制机制；主办亚太经合组织领导人北京会议、“一带一路”国际合作高峰论坛等系列主场外交，引领世界经济方向；与178个国家建交，100个左右的国家和国际组织建立了

不同形式的伙伴关系，实现对大国、周边和发展中国家全覆盖.....

展望未来，一个开放自信的中国，将以更加开阔的视野和更加博大的胸怀拥抱世界，汇聚起各方共建人类命运共同体的磅礴之力，为自身的发展、人类的繁荣与进步作出新的更大贡献。结合材料并运用当代国际社会知识，分析新时代中国外交是怎样惠及中国、增益全球的（12分）

40.故宫博物院拥有近600年历史，规模宏大的宫殿群，186万余件藏品，是名副其实的传统中华文化宝库。提炼、解读其中的优秀文化并转化到当代生活中，不断增强人民群众的文化参与感、认同感、获得感和自豪感，对弘扬优秀传统文化、增强文化自信具有重要意义。

近年来，故宫博物院面向公众征集文化产品创意，把具有历史特色的丰富文化资源提炼出来，创作出手机壳、紫砂壶等文创产品，让高冷严肃的宫廷文化融入现代生活。经过三年多努力，故宫博物院建成全世界博物馆中最强大的数字平台，人们可以通过网站、微博、微信等随时随地浏览故宫文物的信息。2019年故宫博物院举办的“贺岁迎春—紫禁城里过大年”“紫禁城上元之夜”文化活动，通过文物展览、实景搭建、虚拟现实体验等多种方式，让人们全方位、沉浸式地感受宫廷年俗和传统节庆文化。

此外，故宫博物院的文化创意展已经走进比利时的布鲁塞尔、韩国的首尔、澳大利亚的悉尼等地，让全世界人民都能感受到中国文化的魅力

(1)结合材料并运用文化生活知识，探究如何推动优秀传统文化融入大众生活、增强文化自信，(10分)

(2)中华优秀传统文化的传承发展离不开文化创新，据此有人认为：“文化创意者的灵感是激发故宫文化生机与活力的根本保障。”请运用意识作用的原理对此观点加以评析(10分)

(3)请就如何增强故宫文化的国际影响力提出三条建议，(6分)

41. 阅读材料，完成下列要求。(25分)

几百年来，东亚始终是全球最具活力的区域之一，东亚贸易在经济全球化和世界经济发展中扮演着重要角色。

材料一：明初统治者反对对外贸易，建朝以后的142年里，朝贡贸易是唯一的合法外贸途径。15世纪初郑和下西洋，除宣扬国威外，大量采购西洋(马六甲海峡以西的印度洋地区)物产亦是重要目的。……1509年，明廷开放广东开展特定的民间贸易。1514年，葡萄牙人来到中国并逐渐取得在澳门的居住权。1567年，朝廷开放福建省一港口供中国商人对外贸易并对进口贸易征税。之后，西班牙、荷兰、英国商人相继东来。与此同时，中国的民间海外贸易活动活跃，逐渐形成了以闽粤为中心、澳门为核心的亚太经贸网络，中国的瓷器、茶业等物品大量流向西方。中国的商人、工匠遍布南洋各个群岛，大量白银流入中国。……在明末清初的几十年里，郑氏海商集团操控着东亚、东南亚的海上贸易。

——摘编自(美)易劳逸《家族、土地与祖先：近世中国四百年社会经济的常与变》

材料二：清初厉行海禁。1683年康熙帝打败郑氏集团，结束海禁，并在主要海港设置海关。海关迅速成为最热络的通商单位，专门经营外贸的中国商行在广州快速增加。1757年，乾隆帝宣布广州为清帝国唯一对西方开放贸易的港口，颁布了一套详细的规则，这就是著名的“广州贸易体系”。以广州为中心，形成了一个多样且整合性好的经济图。清朝持续外贸顺差。……西方各商业势力也不得不寻求与这个体系的融合。19世纪40年代后，随着中西多项条约的签订，“条约体系”逐渐取代旧的体制，以上海为中心之一的新的远东商贸网络逐渐形成。

——摘编自(美)范岱克《广州贸易：中国沿海的生活与事业》

材料三：20世纪最后四十年，东亚迎来了发展高峰，日本经济崛起，“亚洲四小龙”腾飞，中国改革开放。……进入新千年，中国的改革开放持续深入，GDP跃居世界第二。……以习近平为首的中国政府立足亚太、面向世界，提出了“一带一路”的战略构想。中国在亚太地区和全球事务中发挥了日益重大的影响力。

——摘编自王义桅《“一带一路”：机遇与挑战》

(1)根据材料一并结合所学知识，概括从明朝前期到后期东亚贸易出现的变化，并说明导致

这种变化的原因。(10分)

(2)根据材料一、二并结合所学知识，指出明朝中后期与清朝前中期东亚贸易的相似之处，并简述清朝“广州贸易体系”的积极作用。(10分)

(3)综合上述材料并结合所学知识，谈谈你对明清以来东亚贸易和该区域发展的认识。(5分)

42. 阅读材料，完成下列要求。(12分)

材料：国家和民族间的交流合作会受到一种或多种因素的影响，人类历史上民族和国家间的文流融合一般有以下几种类型：

文化共享	资源互补互惠	肤色相同或相近	共同的历史命运	官方形态推进
文化共享的类型可以归纳为族源型、语言型、宗教型、民俗型和官方意识形态型	在相当规模的区域内，各民族会按照各自不同的方式对区域内的资源相关部分加以利用，而且和其他民族形成长期稳定的资源互补互惠关系。但因资源争夺和竞争也经常造成国家和民族间的冲突	在某些情况下，肤色变成了一种族性特征，成为一种社会界限。如在长期的殖民掠夺的过程中，形成了有色人种的种族主义，形成了“文明人”与“野蛮人”的对立观念。	各民族共同的历史经历和历史命运对民族和国家间的交流认同起着重要的作用。	各国家通过多元文化和各种措施推动国家和民族间交流和合作。

——摘编自毕跃光《民族认同、族际认同与国家认同的共生关系研究》

围绕材料，运用所学史实，对上述材料中的类型进行论证。(要求：围绕材料中的一种或几种类型展开论述；中外关联，观点明确，史论结合，逻辑清晰。)

43.(10分)[地理选修3:旅游地理]

江州造船厂位于江西瑞昌，是上世纪六十年代末中央在长江中下游建立的一个核潜艇厂。

2015 年 12 月，该厂宣告破产，随后开始进行工业旅游的开发。该厂厂区分为上中下三部分，

高三家长圈

高三家长圈

高三家长圈

上部是居住社区，中部属于现在仍在运营的厂区部分，下部为废弃工厂，堆积有大量废旧机械。厂区被废弃的生产车间虽部分建筑废弃，居民私自搭建的棚屋具有消防安全隐患，但整体结构基本完整；道路阻塞并且断裂破损，雨天有一定的积水现象；周边湖水有一定的污染，湖面有废旧船舶器材；植被杂乱，周边山体上采矿伐林的现象严重。表 2 为该地游客年龄结构调查统计表。

表 2

年龄段	比例
0—24 岁	25%
25—64 岁	70%
65 岁以上	5%

请你为江州造船厂工业旅游的开发提出具体措施。

44.(10 分)[地理——选修 6:环境保护]

沙海蜇为一种经济价值较低的水母，生长周期短，繁殖能力强，以浮游生物为食、成体天敌数量少，环境耐受力极强，但其幼体常遭受一些鱼虾摄食。沙海蜇对环境很敏感，温度上升可能触发水螅体释放小水母。近年来，由于秦皇岛海域人类的不合理活动，常导致沙海蜇水母的爆发。分析近年来秦皇岛海域沙海蜇经常暴发的主要原因。

45.【历史——选修 1:历史上重大改革回眸】(15 分)

材料：咸丰以降，清政府入内外交困中，沙俄趁机对中国东北领土进行侵吞，导致了严重的边疆危机，大量贫苦百姓出关开荒谋生，造成奉天地区(今辽宁省及内蒙和吉林的部分地区)民人数量剧增，为数不多的州县衙门难以维系基层社会的有效治理。加之相沿已久的旗民二元管理体制下各自为政、吏治败坏的弊病，使得当地匪盗横生、百姓困苦。在这种情况下，清廷被迫于光绪元年(1875 年)差办事练达的刑部尚书对奉天地区行政体制进行改革。崇实提出了一系列改革措施：盛京将军按内地总督体制加兵部尚书衔，统辖奉天地区钱粮、驻防、刑狱事务，并兼管奉天府尹，成为当地名副其实的最高长官；奉天刑名案件由将军、府尹负总责，盛京刑部侍郎只能对重大案件按律审结，其他案件不得干预；盛京将军和奉天府尹每年最

少得养廉银八千两和六千两，其他官员亦应一定程度加薪。崇实的改革开启了清末奉天地区行政体制变革的序幕，当地实行了二百余年的旗民二元管理体制开始被州县一元管理体系所取代，进而逐步确立了同于内地的单纯以地域划分的行省政区模式。

——摘编自刘洋崇实《改革与清代奉天地区政区变迁研究》

(1)根据材料并结合所学知识，概括崇实改革的背景。(6分)

(2)根据材料，归纳崇实改革的主要内容及其作用。(9分)

46.【历史一选修3:20世纪的战争与和平】(15分)

材料：1925年尼加拉瓜各政治集团间爆发内战。1926年8月自由党成立立宪政府。1926年，美国武装进驻尼加拉瓜并支持保守党建立迪亚斯政府，引起许多地方起义。1927年5月，自由党领导的立宪政府同美国签订投降协定，其中参与起义的将军桑地诺拒绝投降，在山区建立根据地，走上了抗美游击战争的道路。从1927年5月到1929年5月，是桑地诺抗美游击战争的第一阶段，它标志着桑地诺依靠工农、独立进行抗战的开始。桑地诺在军队中实行严格的集中制和纪律，严惩一切违反纪律的行为，在军队内部保持平等关系，官兵之间互称兄弟；出版物加强对军队的历史教育，军队和人民的关系也相当密切。美国对尼加拉瓜的干涉，引起世界舆论的抗议，1929年，桑地诺为了获得军需品和国外的支持，在墨西哥从事外交活动。在美国占领区内，学生用罢课形式反对美国强迫他们学英语，农民用各种方式来支援和参加桑地诺军队，市民积极响应桑地诺号召拒绝参加美国主导的尼加拉瓜选举。1933年，美国撤出尼加拉瓜，美国在尼加拉瓜进行了6年侵略战争，动员了美国海军陆战队1.2万人以上，六七十架飞机和几十艘军舰，最终仍以失败而宣告结束。

——摘编自(美)布拉德福德·伯恩斯《在尼加拉瓜的战争》

(1)根据材料并结合所学知识，概括桑地诺领导的抗美斗争的特点。(8分)

(2)根据材料并结合所学知识，分析美国侵略尼加拉瓜最终失败的原因。(7分)

47.【历史一选修4：中外历史人物评说】(15分)

材料：梁漱溟(1893-1988)，20世纪30年代曾致力于从中国传统文化中寻求改造旧中国建设新中国的方法。他认为中国问题不是政治问题也不是经济问题，而是“文化”或“教育”

问题，中国并不需要任何制度性的根本改革，而应返回到“农本社会”、“伦理本位社会”。指出解决乡村问题进而解决中国问题的唯一出路是通过乡村建设复兴中华文明，主张以农立国，进行乡村的自我改造。为此，他在山东邹平县成立山东乡村建设研究院，开展乡村建设运动。抗战爆发后，由少数知识精英经营并设计的9年的乡村建设运动寿终正寝。同一时期，中国现代社会学和人类学的创始人费孝通(1910-2005)对广西和江苏等地村子进行田野调查，写出《江村经济》。他指出中国农村的基本问题，就是农民的收入降低到不足以维持最低生活水平的程度，中国农村真正的问题就是农民的饥饿问题，主张彻底变革土地制度。在兵荒马乱的战争岁月，费老很早就看到了中国农村的发展前途在于工业化，强调以工促农，认为增加农民收入是解决土地问题的根本办法。改革开放后的实践证明，其思想有着强烈的现实意义。

——摘编自熊跃根《志在富民——费孝通先生的学术追求》等

(1)根据材料并结合所学，分析20世纪30年代以来，梁漱溟和费孝通等致力于乡村建设运动的原因。(6分)

(2)根据材料并结合所学知识，对比梁漱溟和费孝通乡村建设思想的不同点并指出这些思想的历史借鉴意义。(9分)