

2018 年高中毕业年级第二次质量预测

文科综合试题卷

本试卷分选择题和非选择题两部分。考试时间 150 分钟，满分 300 分。考生应首先阅读答题卡上的文字信息，然后在答题卡上作答，在试题卷上作答无效。交卷时只交答题卡。

第 I 卷

本卷共 35 个小题，每小题 4 分，共 140 分。在每小题给出的四个选项中，只有一项是符合题目要求的。

柯达公司所在的美国罗切斯特市是全球重要的光学中心。19 世纪 80 年代，柯达公司发明胶卷，引领摄影行业发生革命性变化，其生产的胶卷曾占有全球 70% 的市场份额。20 世纪末，柯达公司率先发明数码拍照技术，随后因考虑公司转型的风险，数码项目被搁置。2004 年柯达公司中止在美国的胶卷生产业务，2013 年柯达公司宣布破产。近年来，罗切斯特光学企业开始参与世界最大口径 30 米望远镜等研发制造，当地光学产业不断发展。据此完成 1~3 题。

1. 当时，柯达公司搁置数码项目的主要原因可能是数码技术
 - A. 存在技术缺陷
 - B. 研发费用较高
 - C. 市场推广难度大
 - D. 对胶卷产业冲击大
2. 柯达公司胶卷产业在摄影领域走向衰落的主要影响因素是
 - A. 市场
 - B. 技术
 - C. 资金
 - D. 政策
3. 罗切斯特光学产业复兴的主要原因是由于当地
 - A. 原料丰富
 - B. 地价低廉
 - C. 海陆交通便利
 - D. 产业基础好

斯喀基拉海槽位于挪威西南海域，是大陆架上的水下谷地。读斯喀基拉海槽位置示意图(图 1)，完成 4~6 题。



(注：图中为量度水深单位，1 得相当于 1.8288 米。主要用于航行或采矿的度量单位。)

图 1

高三文综试题卷 第 1 页 (共 14 页)

4. 斯咯基拉海槽最深处约为

- A. 349 米 B. 449 米 C. 549 米 D. 649 米

5. 导致挪威海岸线曲折的主要地质作用是

- A. 生物风化 B. 冰川侵蚀 C. 风力侵蚀 D. 流水侵蚀

6. 斯咯基拉海槽的形成过程可能是

- A. 板块碰撞挤压, 大洋板块向下俯冲 B. 地壳断裂下陷, 海平面上升
C. 地壳抬升, 河流下切侵蚀 D. 冰川侵蚀, 海平面上升

某农业气象站对武汉城郊冬季不同天气条件下某塑料大棚内外气温进行了逐时对比观测。图 2 为该气象站根据观测数据绘制的 2 月温度日变化曲线图, 图中四条曲线分别为阴天和晴天两种天气条件下大棚内、外气温日变化曲线。读图完成 7~9 题。

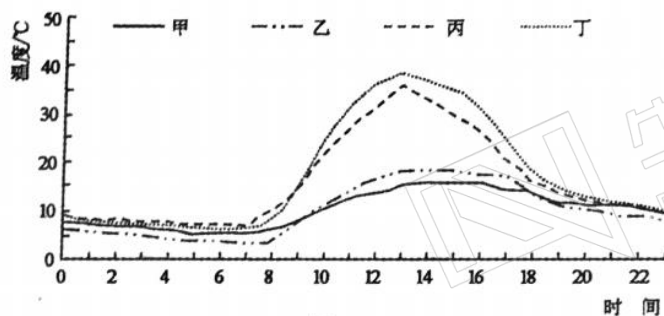


图 2

7. 表示该地 2 月晴天大棚内气温日变化的曲线是

- A. 甲 B. 乙 C. 丙 D. 丁

8. 气温日较差最小的是

- A. 阴天大棚内气温 B. 阴天大棚外气温
C. 晴天大棚外气温 D. 晴天大棚内气温

9. 常见大棚蔬菜生长的适宜温度大部分为 $23\sim 28^{\circ}\text{C}$, 上限温度为 35°C 。2 月, 该地菜农需揭膜降温的时间段是

- A. 5~7 时 B. 11~15 时 C. 18 时前后 D. 24 时前后

1959 年新安江水库建成蓄水, 该水库在水位 108 米的时候, 面积在 3 亩以上的岛屿有 1078 个, 故又称千岛湖。1982 年千岛湖被确定为首批国家级风景名胜区。读 2001~2011 年新安江水库不同蓄水位对应的水域面积变化示意图(图 3), 完成 10~11 题。

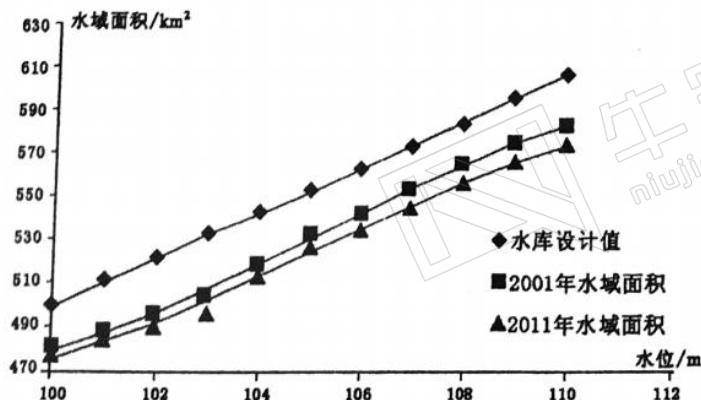


图 3

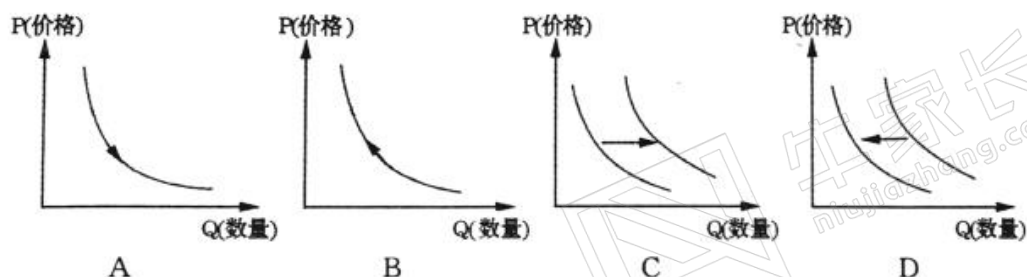
10. 与建库前相比,水库建成后

- A. 湖面风速显著减小
B. 湖面湿度明显降低
C. 湖泊周围下渗减弱
D. 湖泊周围无霜期延长

11. 与 2001 年相比,2011 年不同蓄水位水域面积变化的主要原因最可能是

- A. 恢复植被
B. 人工清淤
C. 填湖造陆
D. 生态补水

12. 随着我国手机行业的发展,自主品牌手机质量与外国品牌手机质量的差别已经很小。自主品牌手机的价格优惠力度不断加大,其他条件不变,则外国品牌手机的需求变动图是



13. 据统计,我国民营企业用近 40% 的资源,创造了 60% 以上的 GDP,缴纳了 50% 以上的税收,贡献了 70% 以上的技术创新和新产品开发,提供了 80% 以上的就业岗位。为支持民营企业发展,政府可采取的经济措施是

- ①对违法失信的民营企业实行市场禁入制度
②着力构建民营企业与政府的新型政商关系
③对符合条件的民营企业贷款给予利息补贴
④提高民营企业新购入仪器设备税前扣除上限

- A. ①②
B. ②③
C. ①④
D. ③④

14. 可转换公司债券,是指发行人依照法定程序发行、在一定期间内依据约定的条件可以转换成股份的公司债券。可转换公司债券投资者在转换前拥有债权,也可以选择在规定时间内将其持有的债券以事先约定的转股价格转换成指定公司的股票。可转换公司债券的持有人

- ①实际上拥有了更为灵活的投资选择
②可以选择持有债券到期并收取本息
③转换前后都享有股东的权利和义务
④能够同时享有债券收益和股票收益

- A. ①②
B. ①③
C. ②④
D. ③④

15. 2017 年 12 月,成都海关和乌鲁木齐海关在全国中欧班列中首创内外贸货物同列运输模式,充分利用蓉欧快铁进出口的空箱仓位资源,通过内贸箱换外贸箱、空箱换重箱等创新举措全面提升蓉欧快铁双向满载率,实现了通道共享、互惠共赢的中欧班列合作新模式。

该合作模式的形成

- ①标志着我国对外开放进入了一个新阶段
- ②提升了蓉欧快铁的运行质量和经济效益
- ③创新了流通模式,构建共享型流通体系
- ④创新外贸发展模式,增加进出口贸易量

A. ①② B. ②③ C. ①④ D. ③④

16. 近日,中共中央、国务院决定在全国开展扫黑除恶专项斗争,有力打击震慑黑恶势力犯罪,有效铲除黑恶势力滋生土壤,不断增强人民获得感、幸福感、安全感。扫黑除恶专项斗争旨在

- ①维护社会大局稳定和国家长治久安 ②保障人民安居乐业和基层政权巩固
- ③强化专政,扩大公民权利的保护范围 ④保障人权,提高我国公民的政治地位

A. ①② B. ①③ C. ②④ D. ③④

17. 2017年,我国相关部委开展精简行政许可申报材料试点工作。电网工程项目核准、互联网新闻信息服务许可等九个试点事项全流程申报材料得到大幅精简,平均精简比例为29%,最高精简比例达到44%。该试点工作的开展有利于

- ①优化公共服务,建设服务型政府 ②推进政务公开,提高政府公信力
- ③降低交易成本,激发市场的活力 ④提高审批效率,树立政府的权威

A. ①② B. ②③ C. ①④ D. ③④

18. 习近平主席在新兴市场国家及发展中国家对话会上倡议,金砖国家要积极拓宽“朋友圈”,打造开放多元的发展中国家伙伴网络,建立“金砖+”合作模式,让更多发展中国家参与到团结合作、互利共赢的事业中来。这一倡议

- ①将使更多的发展中国家受益,推动国际新秩序建立
- ②能消除发展中国家间的分歧,扩大彼此合作的空间
- ③说明我国积极参与全球治理,不断贡献中国的智慧
- ④维护金砖国家间的共同利益,兼顾我国的自身利益

A. ①② B. ①③ C. ②④ D. ③④

19. 作为一部红色经典,《黄河大合唱》不朽的旋律和歌词背后,是抗日战争这场全民族的血泪记忆和悲壮史诗。近年来《黄河大合唱》被频遭改编,原本承载厚重历史的曲目却被肢解成一个个段子、一句句笑话,成了狂欢搞笑的“佐料”。这给我们的启示是

- ①多样风格的文化作品是我国文化发展的方向
- ②需要加强文化市场的管理而不能放任自流
- ③多样化创新经典作品,充实人们的精神生活
- ④弘扬主旋律经典作品,筑牢民族文化的根基

A. ①② B. ①③ C. ②④ D. ③④

20. 面对世界经济的复杂形势和全球性问题,世界的和平与发展需要各国共同努力,发挥共同而有区别的作用。中国正以积极的姿态参与国际事务,发挥负责任大国的作用,推动

“人类命运共同体”建设。上述材料包含的哲学方法论是

- ①坚持客观与主观具体的历史的统一 ②积极发挥主观能动性的基础性作用
③要一切以时间、地点和条件为转移 ④用局部的发展推动事物整体的发展
A. ①② B. ②③ C. ①④ D. ③④

21. 170年过去了,但《共产党宣言》的光辉并没有因为时间的流逝而泯灭。联系中国共产党诞生的历史与中国革命、建设、改革的成功实践,使我们感到《共产党宣言》对中国的影响巨大。中国特色社会主义进入新时代,要重新阅读《共产党宣言》。重新阅读《共产党宣言》要求我们

- ①发挥正确意识对改造客观世界的积极推动作用
②把《共产党宣言》作为中国共产党的指导思想
③把《共产党宣言》的智慧融入治国理政实践中
④在新时代的改革实践中不断否定真理的客观性
A. ①② B. ①③ C. ②④ D. ③④

22. 与“和谐号”相比,“复兴号”采用了更先进的安全保障技术,全新低阻力流线型头型设计更加节能,车厢实现 WiFi 全覆盖,是我国具有完全自主知识产权、达到世界先进水平的中国标准动车组。我国高铁从最早的“洋基因”“混血”“以我为主”,到现在由内而外都是“纯中国”制造。我国高铁的发展印证了

- ①新事物总是以旧事物作为自己存在和发展的基础
②在批判性思维推动下实现理论和实践的不断创新
③坚持在辩证的否定中推动事物向更高的阶段发展
④辩证否定的实质是保留旧事物中的积极合理因素
A. ①③ B. ①④ C. ②③ D. ②④

23. 卢丽安,从小对大陆有着特殊感情,大学毕业后希望回大陆工作,得到批准进入复旦大学任教,并很快成为最受欢迎的教授之一。在谈到两岸关系时,她说:“我生长在宝岛台湾,我以台湾的女儿为荣,我以生为中国人为傲。我爱台湾、也爱大陆,就像爱自己的爸爸妈妈。”很多台胞朋友和大陆网民为她点赞。上述材料表明

- ①良好的发展机遇是实现人生价值的决定条件
②坚持正确的价值取向能促进人生价值的实现
③个人应站在人民群众的立场上做出正确选择
④追求个人的个性发展是实现人生价值的基础
A. ①② B. ②③ C. ①④ D. ③④

24. 西周的封国与夏商时期的封国不同,不是在原部族居地上就地册封,而是把同姓王族或异姓功臣分封到边远的地方或新征服的土地上,这样封国内不仅有不同氏族宗族的居民,而且由外迁入受册封者的氏族统一管理,这反映了西周的分封制

- A. 对各种政治势力之间的矛盾起着制衡作用
B. 使边远和新征服的地区同内地周文化一致

C. 使封国自主经营的积极性发挥了作用

D. 使夏商以来的血缘族体逐渐走向瓦解

25. 下表是商鞅死因的几种说法,从表中关于商鞅死因的历史研究中,可以得出

西汉司马迁	商鞅此人刻薄寡恩,用刑太过。
改革开放前某学者	商鞅代表新兴地主阶级,变法触犯了奴隶主阶级的利益,遭到他们报复。
近年来的最新研究	商鞅权势太重,行事专断,与当时君主秦惠王的矛盾加剧而被杀。

A. 历史研究角度影响历史解释

B. 时间越久远历史研究越失实

C. 研究者的史观左右历史事实

D. 历史叙述方式决定历史结论

26. 据统计,《宋史》列传中的北宋人物,出身于高官家庭的不过四分之一左右,而出身于布衣的则超过二分之一,时代愈晚,布衣出身的比例也愈高;而布衣官员入仕的途径,在北宋初期以科举出身的约占三分之一,在北宋中期已超过四分之三,到北宋晚期更超过五分之四。这反映了

A. 科举制更能选拔出最优秀的官吏

B. 选官制度的开放和阶层的流动

C. 北宋官僚队伍膨胀问题日益严重

D. 限制世家子弟是科举制的特点

27. 从 16 世纪 40 年代开始,来自中国福建、广东、浙江的船只不断到日本九州,以物易银。同时,西班牙在美洲开采的大量白银也经由马来西亚流向中国。这些现象表明当时中国

A. 政府推动白银货币化

B. 自给自足的小农经济逐渐解体

C. 封建商品经济的发展

D. 成为新航路开辟的最大受益者

28. 1865 年李鸿章上书总理衙门主张:“铁路与铜线,事同一律,万难允许”。1875 年李鸿章正式提出,铁路电报等西方新式物件,要“酌度时势……择其至要者,逐渐仿行”。导致李鸿章态度发生变化的原因是

A. 清政府开始自强求富的改革

B. 民族资本主义经济发展的需求

C. 西方对中国的侵略逐渐加重

D. 资本输出导致自然经济解体

29. 20 世纪初,民国政府颁布了大量发展实业的法律、法规,如《公司条例》《商人条例》《矿业条例》等,这种做法

A. 有利于保障民族资本主义的合法地位

B. 有效遏制了外国资本主义对中国的侵略

C. 奠定了近代中国民族工业发展的基础

D. 促使资本主义经济成为中国经济的主体

30. 七七事变后,日军想在华北范围内,以强大的军事打击,速战速决,迫使中国屈服。因此,淞沪战役打响后,日方最初仅想以第 3、第 11 师团组成“上海派遣军”应对,但随着对中国军队决心在上海“大打”意图的逐渐明了,而向上海增派兵力。这一材料

A. 说明了中国政府对抗日有充足的准备

- B. 证明了日军扩大侵华战争是迫于无奈
C. 反映了淞沪会战打乱了日军作战计划
D. 体现了日本在侵华战略上比较被动

31. 20 世纪 90 年代,“基本上是摆个地摊就能发财的年代,敢下海就能淘来第一桶金。”大量公务员“下海”经商,社会上出现了“下海潮”。据此可知,这一时期

- A. 市场经济体制已经正式确立 B. 国内供需矛盾较为突出
C. 政治体制剧变引发经济变革 D. 计划经济体制开始变革

32. 《十二铜表法》中规定,在进行财产交易时,当事人要说出规定的套语,至于这种套语的言辞是否反映了当事人的真实意思,法律不予过问。只要交易的仪式符合要求,即使当事人的交易协议是在受欺骗情况下达成的,也不影响法律效力。这说明当时在罗马

- A. 公民法不重视对私有财产的保护 B. 经济领域容易出现法律漏洞
C. 对法律的随意解释影响司法公正 D. 公民法具有形式主义的特征

33. 英国的保尔芒图指出:“工厂制度是机械化的必然结果。一套由若干相依成分所组成的、带有一个总动力的设备,只能安设在一个地方,而它的运转是由一批受过训练的人员操纵的。这个地方就是工厂,工厂是不允许有别的定义的。”这种制度的确立

- A. 使劳动力开始集中生产 B. 开创了精细生产分工的模式
C. 推动了机器生产的普及 D. 开启了流水线标准化的生产

34. 有学者认为,“在美国,有权作出决定的只是总统而不是内阁,美国的内阁仅是一个非正式的总统的咨询机构,即使参加内阁会议的大多数人的意见与总统相左,总统亦可不必采纳。”这一论点

- A. 反映美国的内阁没有实际作用 B. 说明总统权力缺乏有效制衡
C. 表明总统与内阁之间权限不明 D. 符合宪法对总统职权的规定

35.

国家和地区	社会保障福利支出在财政总支出中的比重(%)				20 世纪 80 年代 平均经济增长 率(%)
	1985 年	1986 年	1987 年	1988 年	
韩国	5.65	—	6.44	7.43	9.6
新加坡	1.61	1.57	1.31	2.04	6.6
中国香港	6.01	5.79	5.93	5.98	6.9
中国台湾	6.30	6.6	5.8	7.6	7.9

由上表我们可以得出,此时期“亚洲四小龙”

- A. 民众分享经济发展成果有限 B. 经济高速发展缩小了贫富差距
C. 社会福利政策覆盖面比较窄 D. 政府忽视民众的正当权益

第Ⅱ卷

本卷包括必考题和选考题两部分。第36题至第42题为必考题,每个试题考生都必须作答。第42题至第45题为选考题,考生根据需求作答。

36. (24分)阅读图文资料,完成下列要求。

青海省共和县塔拉滩(位置见图4)以戈壁沙丘为主,是黄河上游和三江源地区风沙危害最严重的地带之一,每年从这里进入龙羊峡库区的流沙达3131万立方米。2011~2017年,塔拉滩地区大力发展光伏产业,并建成数十个光伏企业集聚的光伏产业园,其发电能力达3350兆瓦。随着光伏电站与龙羊峡水电站的并网发电,该地成为全球最大的水光互补能源基地。光伏产业的发展改变了地面热力平衡和地表覆盖状况,促进了塔拉滩地区的生态改善,植被不断恢复,沙丘移动距离和移动速度呈明显减缓态势。同时,植被恢复对光伏发电效率和园区灾害风险产生了不利影响,为此园区引入牧羊业(图5),并形成了良性循环。

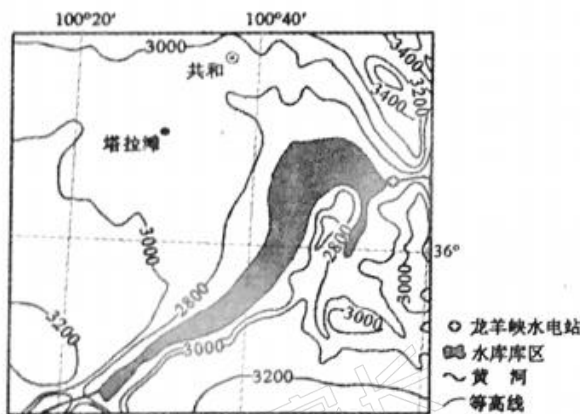


图4

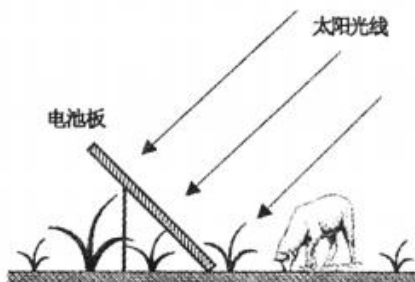


图5

- (1)评价塔拉滩建设光伏产业园的区位条件。(8分)
- (2)分析光伏产业对塔拉滩植被恢复的积极作用。(6分)
- (3)说明引入牧羊业对光伏产业园区的有利影响。(6分)
- (4)简述塔拉滩光伏产业和龙羊峡水电站的互补作用。(4分)

37. (22分)阅读图文资料,完成下列要求。

鄂霍茨克海(位置见图6)是太平洋西北部的边缘海,冬季大部分海域被海冰覆盖。该海域的海冰南下至北海道沿岸,会形成著名的流冰景观。每年1月末到3月初是北海道流冰的最佳观赏季节,但流冰现象具有不确定性,常有游客无功而返。海域西部的黑龙江是注入鄂霍茨克海的最大河流,其水量丰富,有机质含量高。海域东侧的勘察加半岛是虎头海雕的重要栖息地,虎头海雕常在浮冰上捕食鱼类(图7)。每年冬季,虎头海雕伴随流冰,从勘察加半岛向北海道迁徙越冬。

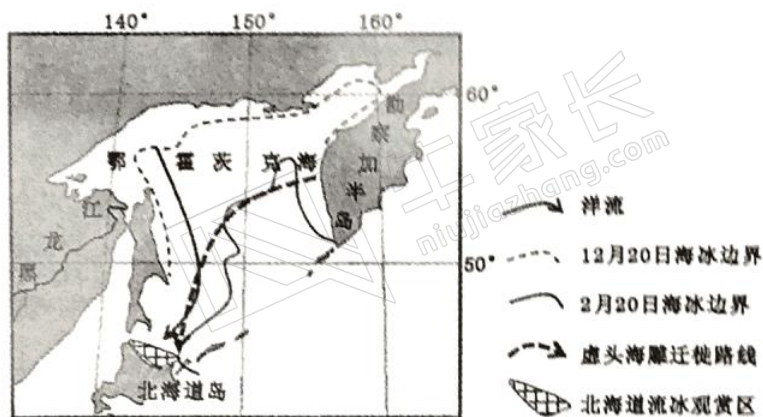


图 6



图 7

(1)说出鄂霍茨克海海冰边界的变化特点,并分析其形成原因。(8分)

(2)描述北海道流冰的形成过程。(4分)

(3)推断北海道流冰具有不确定性的主要原因。(4分)

(4)分析流冰对虎头海雕迁徙越冬的积极作用。(6分)

38. (14分)阅读材料,完成下列要求。

随着经济社会的发展,消费者的消费诉求从追求产品功能为核心向追求消费体验演进。由于互联网和移动互联网终端大范围普及所带来的用户增长以及传统业务正逐渐萎缩,一批有实力的电商企业积极寻找新的增长动力,开始布局新零售。

2018年年初,某电商的新零售——首家线下生鲜超市正式开业。生鲜超市的商品是根据该电商的大数据,从其后端几十万个自营商品池中精选出来的,使商品的结构独具特色,最大限度贴近附近用户的需求。消费者可以在店内的镜面屏幕上查询到商品的产地、食用方法等信息,而海鲜等一些商品,可选择交给店内的大厨直接完成烹饪。顾客可通过APP购买,可选择微信支付和刷脸支付。顾客线上购买的商品在5分钟内即可送至配送员手中,以门店为中心的3公里范围内,可享受最快半小时送达服务。

结合材料和所学经济知识,分析新零售产生的原因,并说明新零售是如何更好地满足顾客的消费体验。(14分)

39. (12分)阅读材料,完成下列要求。

宪法是国家的根本法,是治国安邦的总章程,是党和人民意志的集中体现。

我国现行宪法1982年公布施行后,分别于1988年、1993年、1999年和2004年进行了4次修改。2004年以来,党和国家事业不断开创新局面。党的十九大在新的历史起点上对新时代坚持和发展中国特色社会主义作出重大战略部署,提出了一系列重大政治论断。根据党的十九大精神对我国现行宪法作出必要的修改完善,把党和人民在实践中取得的重大理论创新、实践创新、制度创新成果通过国家根本法确认下来,使之成为全国各族人民的共同遵循,成为国家各项事业、各方面工作的活动准则。

中国共产党第十九届中央委员会第二次全体会议审议通过了《中共中央关于修改宪法

部分内容的建议》，并向全国人大常委会提出关于修改宪法部分内容的建议。全国人大常委会在讨论的基础上提出了宪法修正案草案，提请十三届全国人大一次会议审议并获得通过。

结合材料，运用政治生活知识，分析中国共产党提出修改宪法部分内容建议的理论依据以及本次修改宪法的重要意义。(12分)

40. (26分) 阅读材料，完成下列要求。

乌兰牧骑，1957年诞生于内蒙古大草原，是活跃在农村牧区的流动文艺团队，是草原上的“红色文艺轻骑兵”。

60多年来，乌兰牧骑队员迎风雪、冒寒暑，长期在戈壁、草原上辗转跋涉，以天为幕布，以地为舞台，创作演出了一批承载着乌兰牧骑精神的“接地气、传得开、留得下的优秀作品”。其中，有表达草原人民用辛勤劳动创造美好家园的《搬毡舞》，有唱出蒙古族韵味和美感的《走马》，有纪念抗战胜利70周年的大型历史剧《青山儿女》……这些作品为广大农牧民送去了欢乐和文明，传递了党的声音和关怀，产生了深远的社会影响力和巨大的社会凝聚力。一些优秀的乌兰牧骑通过将短调民歌、呼麦、马头琴与现代音乐相结合讴歌新人物，为农牧民全面奔小康加油鼓劲。还凭借其“骑着马儿去表演”的独特演出方式走出大草原，走进北京、上海等地，并走出国门，赴德国、比利时等国家演出，取得了良好的经济效益，为自身发展增添了后劲。

如今，乌兰牧骑已经从最初的一支9人队伍发展到75支队伍、3000多名队员，成为“全国文艺战线的一面旗帜”。

(1) 乌兰牧骑成为“全国文艺战线的一面旗帜”，运用文化继承与发展的知识说明其成功的原因。(10分)

(2) 有人认为：“在市场经济条件下，我国的文艺创作应坚持社会效益服从经济效益。”请运用对立统一的观点对这一看法加以评析。(12分)

(3) 在新的时代，面对电视、网络媒体的冲击，请就如何让乌兰牧骑有更大的影响力提出合理化建议。(4分)

41. (25分) 阅读材料，完成下列要求。

材料一

欧洲的商人行会出现于9世纪，市场狭小并具有地方性，……早期的城市经济需要一个相应的管理机构，行会由此产生。12、13世纪时，意大利和英国的行会已相当发达。……从13世纪后期开始，手工业者的人数和力量不断扩大，逐渐实现了生产和销售的分离，手工业行会逐渐取代商人行会成为行会的主体。商人通过市政当局干预行会，包买商逐渐支配了农村家庭手工业，为手工业工场的产生准备了条件。西欧行会在相当长的时期内支配着城市的经济生活，有权讨论并决定重大问题。有些城市行会组织发展为城市联盟，以团体名义向国王请求给予垄断贸易的特权。

——摘编自代轩宇《西欧行会组织的发展与演进》

材料二

中国行会有中国的特色，这些组织都是奉政府之命成立。它是在专制统治高度强化，宗法等等级极其森严和富商大贾畸形膨胀的基础之上产生的。……商人行会和手工业行会即使

高三文综试题卷 第10页 (共14页)

非完全同样,几乎也都是在早期出现,它们互相保护和互为保证。商业行会组织占有主导地位,是当时工商不分的表现。……鸦片战争后,随着中国社会经济结构的变化,传统行会日趋没落。

——摘编自唐力行《商人与中国近世社会》

材料三

商会是中国近代以商人为主体的最为普遍的资产阶级社团,……在市政建设、民政管理、公益事业管理、社会治安乃至工商、文教、卫生等方面都有较大的发言权。1905年,中国第一个由商人自己组织的商会——上海商务总会召开各业商董大会,声援“抵制美货运动”。1907年,上海商务总会提出了筹办华商联合会和中国华商银行的动议。在1909年的第二次国会请愿运动中,华商联合会办事处即承担了动员和组织海内外华商参加这一政治运动的重任。

——摘编自朱英《近代中国商人与社会》

(1)根据材料一、二并结合所学知识,概括欧洲行会与中国传统行会的不同之处。(10分)

(2)根据材料二、三并结合所学知识,指出清末商会与传统行会相比发生的变化,并分析这种变化出现的原因及对中国社会产生的影响。(15分)

42. (12分)阅读材料,完成下列要求。

材料

国家	大事年表
英国	1802年,颁布《工厂法》 1832年,议会改革,工业资产阶级获得更多席位 1836年,工人阶级发动宪章运动争取普选权 1840年,发动鸦片战争侵略中国
美国	19世纪50年代,两党制最终形成 1879年,爱迪生发明电灯 1886年,芝加哥工人大罢工,争取八小时工作制 1898年,美西战争后势力侵入菲律宾、古巴等地
法国	1804年,拿破仑建立法兰西第一帝国 1850年,巴尔扎克完成《人间喜剧》 1871年,巴黎公社建立 1875年,《法兰西第三共和国宪法》颁布
德国	1844年,普鲁士西里西亚纺织工人起义 1866年,西门子制成发电机 1871年,德国统一并确立了二元制君主立宪制 1882年,德、奥、意三国建立军事同盟

上表为19世纪西方主要国家历史大事年表。从表中提取相互关联的历史信息,自拟论题,并结合所学知识予以阐述。(要求:写明论题,相互关联,史论结合。)

高三文综试题卷 第11页 (共14页)

请考生在第 43、44 两道地理题中任选一题作答,如果多做,则按所做的第一题计分。作答时用 2B 铅笔在答题卡上把所选题目的题号涂黑。

43. (10 分) 旅游地理

近两年赴芬兰的中国游客数量大幅增长,其人均消费额也居各国游客之首。赫尔辛基机场是中国等亚洲旅客前往欧洲最便捷的途径之一。2016 年 1 月赫尔辛基机场成为首个启用支付宝服务的欧洲机场,目前该国多数城市的商家也开始接受这种新型的支付方式。图 8 中左图赫尔辛基位置示意图,右图为 2016~2017 年中国大陆赴芬兰游客数量月度同比增速变化示意图。

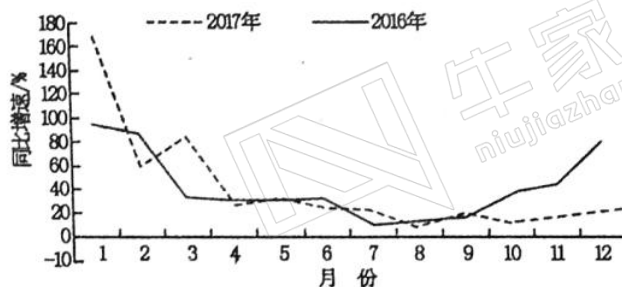


图 8

说出 2016~2017 年中国大陆赴芬兰游客数量同比增速最快的季节,并分析其主要原因。

44. (10 分) 环境保护

棕地指城市中存在开发障碍的闲置土地,这些土地大多存在土地污染、生态破坏等问题,其成因多为历史时期不合理的工业开发。棕地更新是城市化进程中优化城市空间结构的重要课题。马家沟(图 9)穿过哈尔滨的核心城区,临近哈尔滨高校园区,曾经是哈尔滨最重要的城市河流,后来河道常年干涸,三条废弃铁路将河道割裂,河道中部、南部土壤呈碱性,生态受损严重,土壤沙化,植被种类较少。




图 9

从生态、社会、文化角度,简述马家沟棕地改造的可行措施。

请考生在第 45、46、47 三道历史题中任选一题作答,如果多做,则按所做的第一题计分。作答时用 2B 铅笔在答题卡上把所做题目的题号涂黑。

45. (15 分)【历史上重大改革回眸】

材料一

1978 年十一届三中全会后,随着农村经济体制改革的开展,政府特别重视农村多边经营的一个环节——乡镇企业的发展。截至 1985 年,乡镇企业除数量之外,所有的项目基本上都是增加的趋势,特别是 1984 年急剧增加。但是,每一个企业的职工平均人数,1983 年时 30 人左右,到 1984 年时减少 8 人,1985 年时又减少 5 人。乡镇企业的主要行业,除了纺织、建材外,还有食品加工、矿山采掘、肥料、农具、农药等多种类型,其中主要的行业有 25 种以上。

——摘编自滨下武志《近代中国的国际契机》

材料二

长期以来,城乡分离的二元经济格局,使农村单纯搞农业,城市搞工业,这种做法使城乡差距进一步扩大。而乡镇企业既接受了城市的辐射,又扩大向城市反射,开创“城中有我,我有城”的局面。……对于中国的乡镇企业,英国路透社说,“中国在乡镇工厂利用剩余劳动力的办法,在发展中国家是独树一帜”。

——摘编自应佳洁《乡镇企业在经济社会发展中的地位与作用研究》

(1) 根据材料一,概括乡镇企业的特点。(7 分)

(2) 根据材料一、二并结合所学知识,分析发展乡镇企业的意义。(8 分)

46. (15 分)【20 世纪的战争与和平】

材料一

应该根据各国对美国利益构成威胁的可能性来确定重点关注国家。他们对美国安全构成威胁程度各不相同,威胁并不是单单来自一个潜在的匹敌的竞争对手。……这个目标是否具有地缘政治的战略地位和战略价值,是否具有市场价值和资源价值,执掌这个地区的政权对美国威胁程度,其他国际主要力量是否具有控制这一地区的战略意图,以及美国是否有合适的时机和条件来消除这种威胁。

——乔治·理博伊《国家利益》(2002 年)

材料二

2003 年 3 月 20 日,美国以伊拉克藏有大规模杀伤性武器为由,绕开联合国安理会,单方面对伊拉克实施军事打击。2003 年 4 月 15 日,美军已控制伊拉克全境。2010 年 8 月美国战斗部队撤出伊拉克,历时七年多,美方并没有找到所谓的大规模杀伤性武器。由于伊拉克战争使用了大量美国现代化新式武器,这场战争被美国人民称为“浪费钱的战争”。伊拉克战争的胜利虽然使美国向“新帝国梦”迈向了一步,却跌进伊战后的泥潭。伊拉克的反美游击战和国际恐怖主义合流,成为新的国际恐怖中心。

——摘编自李荣《伊拉克战争的影响》

(1) 根据材料一,概括美国发动伊拉克战争的原因。(6 分)

(2) 根据材料一、二并结合所学知识,分析伊拉克战争的实质及影响。(9 分)

47. (15分)【中外历史人物评说】

材料

钱镠(852年—932年),五代十国时期吴越国的创建者。唐末,他靠跟随董昌保护乡里、抵御乱军起家,曾多次用计击败对手,有勇有谋,逐渐占据以杭州为首的两浙十三州。因吴越地区地域狭小,三面强敌环绕,钱镠始终依靠中原王朝。他在位期间,采取保境安民的政策,兴修水利,修建钱塘江捍海石塘,百姓都非常爱戴尊敬他,称其为“海龙王”。钱镠修身治家也十分谨严,两度订立治家家训。遵循钱镠的遗训,末代国王钱弘俶“纳土归宋”,使国家“不被干戈”,因此宋代所编《百家姓》钱姓被排在第二位。其后人始终一脉书香绵延,代有人才涌现。清乾隆帝御赐“清芬世守”匾额。近代更是人才“井喷”。明代冯梦龙所著的《喻世明言》第二十一卷讲述了钱镠发家,最终封王建国的故事。至今,杭州还有很多他的传说,如“钱王射潮”等。

——摘编自白寿彝《中国通史》

- (1) 根据材料并结合所学知识,概括钱镠建立吴越国的时代背景与个人原因。(7分)
- (2) 根据材料并结合所学知识,简析钱镠在后世受到尊崇的原因。(8分)

加群步骤

- ① 长按下方二维码+小牛好友
- ② 备注 “孩子年级”
加入【牛家长微信群】
- ③ 第一时间了解最新升学动态

小牛聊升学



微信公众号

郑州牛家长



升学信息 | 原创干货 | 家长社群 | 公益活动

