

# 2017—2018 学年上期期末考试 七年级地理试题卷

闭卷考试

注意:本试卷分试题卷和答题卡两部分。考试时间 60 分钟,满分 100 分。考生应首先阅读答题卡上的文字信息,然后在答题卡上作答,在试题卷上作答无效。交卷时只交答题卡。

## 一、单项选择题(请把正确答案填涂在答题卡上,每小题 2 分,共 50 分)

2016 年,中国历法的二十四节气被列入联合国教科文组织人类非物质文化遗产名录。

图 1 中左图为某日光照示意图,右图为二十四节气在地球公转轨道上的位置示意图。读图完成 1~3 题。

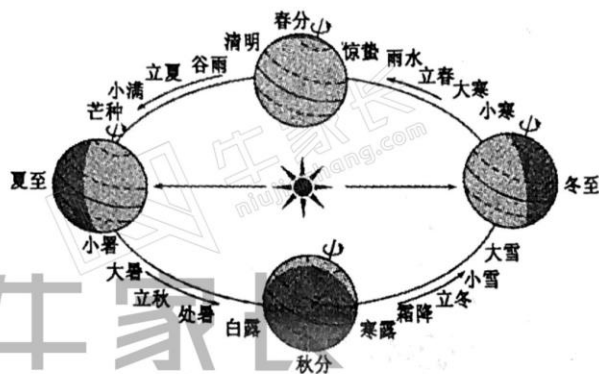
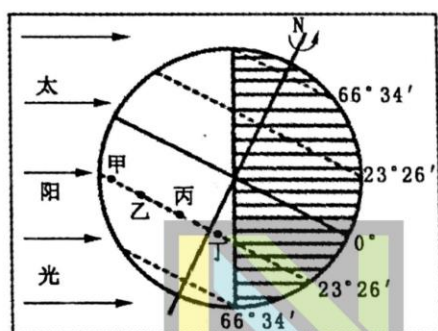


图 1

1. 该日,下列四地中最先进入黑夜的是  
A. 甲                      B. 乙                      C. 丙                      D. 丁
2. 该日为二十四节气中的  
A. 春分                      B. 夏至                      C. 秋分                      D. 冬至
3. 该日过后,郑州  
A. 昼夜等长,昼渐短                      B. 昼长夜短,昼渐长  
C. 昼短夜长,昼渐短                      D. 昼短夜长,昼渐长

斯里兰卡是印度洋上的一个岛国。读斯里兰卡位置示意图(图 2),完成 4~5 题。

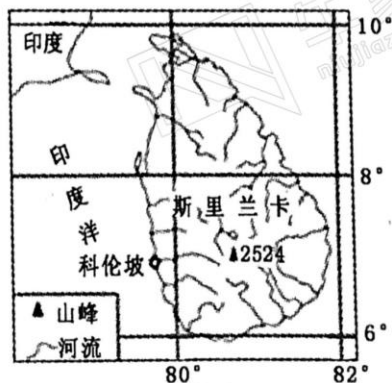


图 2

4. 科伦坡的经纬度位置约为

- A.  $7^{\circ}\text{N}$ ,  $79^{\circ}50'\text{W}$                       B.  $7^{\circ}\text{N}$ ,  $79^{\circ}50'\text{E}$   
C.  $7^{\circ}\text{S}$ ,  $79^{\circ}50'\text{W}$                       D.  $7^{\circ}\text{S}$ ,  $79^{\circ}50'\text{E}$

5. 斯里兰卡位于

- A. 热带                      B. 北温带                      C. 南温带                      D. 南寒带

读某区域等高线地形图(图 3), 完成 6~8 题。

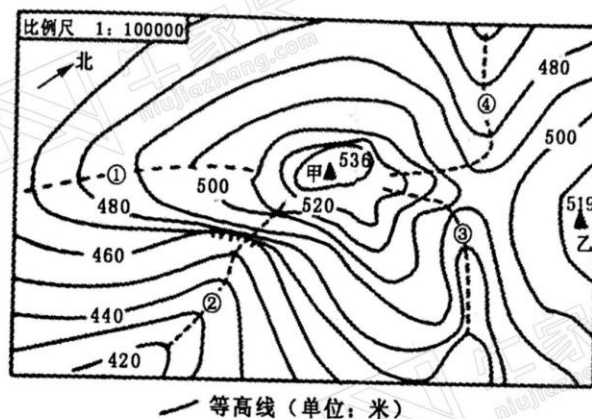


图 3

6. 甲山顶位于乙山顶的

- A. 东北方                      B. 东南方                      C. 西北方                      D. 西南方

7. 甲、乙两山顶的相对高度是

- A. 17 米                      B. 27 米                      C. 37 米                      D. 47 米

8. 下列登山线路中, 一直沿山脊行走的是

- A. ①                      B. ②                      C. ③                      D. ④

读世界海陆分布图(图 4), 完成 9~10 题。

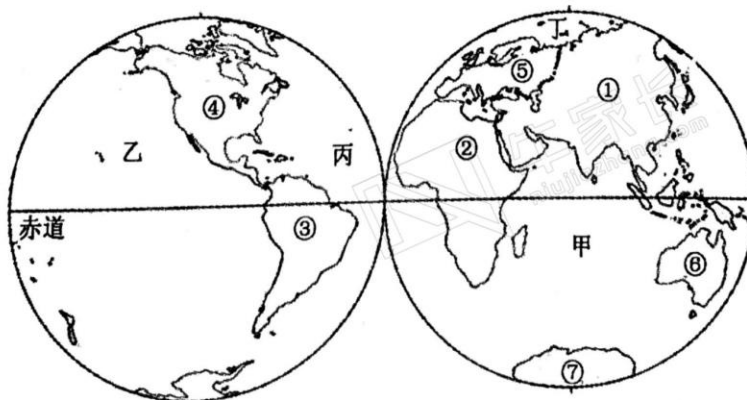
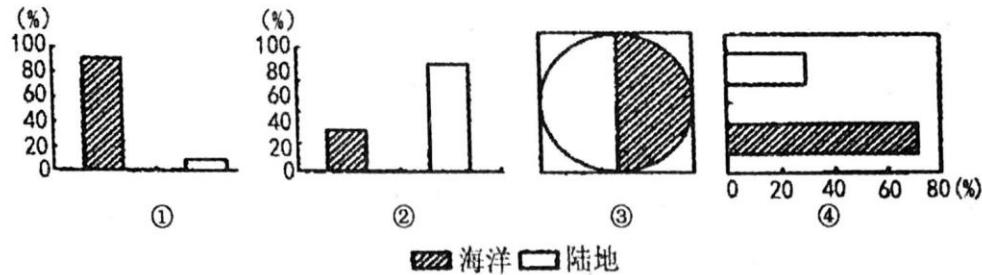


图 4

9. 世界上最大的大洲和最大的大洋分别是

- A. ①和乙                      B. ②和丙                      C. ③和丁                      D. ④和甲

10. 能正确反映地球表面海陆面积比例的是



- A. ① B. ② C. ③ D. ④

读世界某山脉东西两侧气候资料图(图 5),完成 11~13 题。

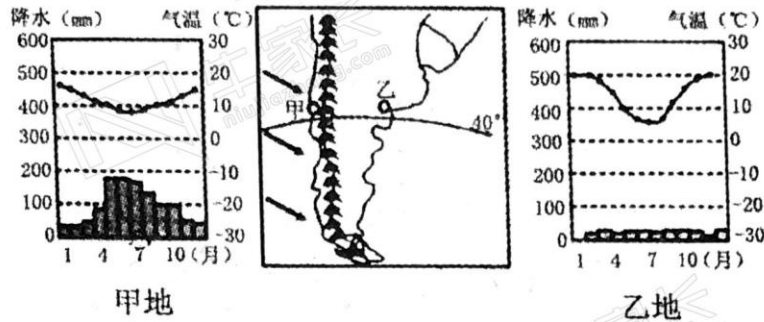


图 5

11. 甲、乙两地

- A. 1 月气温最高,位于南半球 B. 1 月气温最低,位于南半球  
C. 7 月气温最高,位于北半球 D. 7 月气温最低,位于北半球

12. 甲地的降水特点是

- A. 夏季多雨 B. 冬季多雨 C. 全年湿润 D. 全年干燥

13. 与甲地相比,乙地

- A. 位于迎风坡,降水多 B. 位于背风坡,降水少  
C. 位于沿海,降水多 D. 深居内陆,降水少

读北半球年平均气温分布图(图 6),完成 14~16 题。

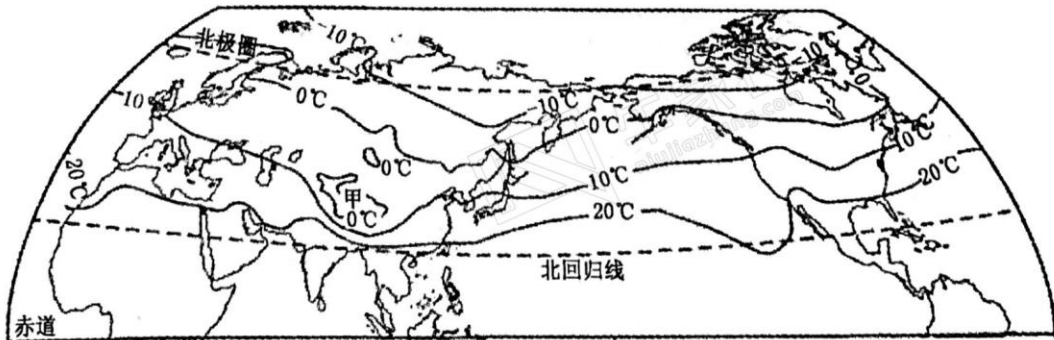


图 6

14. 北半球的气温分布规律是

- A. 从南向北递减 B. 从北向南递减 C. 从东向西递减 D. 从东向西递增

15. 影响北半球气温分布的主要因素是

- A. 纬度位置 B. 海陆位置 C. 地形地势 D. 人类活动



16. 甲地为低温中心,其主要原因是

- A. 纬度高      B. 距海近      C. 深居内陆      D. 海拔高

读某国人口出生率和死亡率变化曲线图(图 7),完成 17~18 题。

17. 该国人口自然增长率最低的年份是

- A. 1960 年      B. 1980 年  
C. 1990 年      D. 2010 年

18. 2000 年以后,该国面临的主要人口问题最可能是

- A. 人口增长过快  
B. 劳动力过剩  
C. 人口总量保持不变  
D. 人口老龄化严重

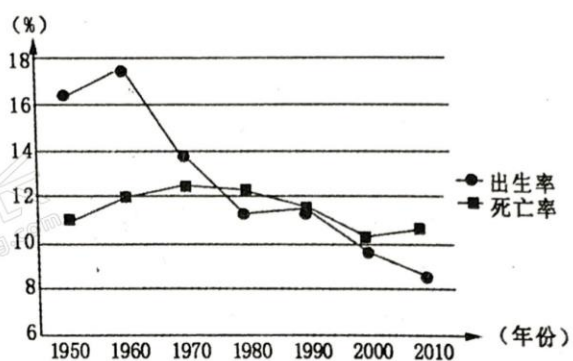


图 7

读世界局部地区人口分布图(图 8),完成 19~20 题。

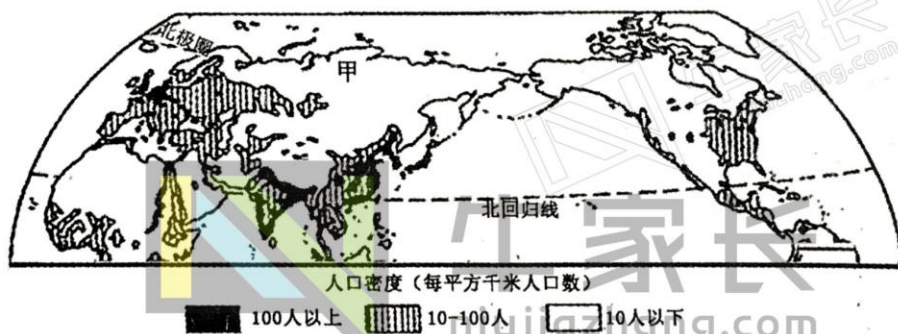


图 8

19. 每平方千米人口数量在 100 人以上的地区主要位于

- A. 中、低纬度内陆地区      B. 中、低纬度沿海平原  
C. 中、高纬度沿海平原      D. 中、高纬度内陆地区

20. 甲地人口密度小,其主要原因是甲地位于

- A. 过于潮湿的雨林地区      B. 终年严寒的高纬度地区  
C. 极端干旱的沙漠地区      D. 地势高峻的高原山区

某中学学生暑假期间参观了位于河流沿岸的古城阆中,古城中有众多文物古迹。读阆中古城景观图(图 9),完成 21~22 题。




图 9

21. 从照片中可以看出该古城形成的最有利条件是

- A. 气候适宜      B. 水源充足      C. 能源丰富      D. 交通便利

22. 在古城旅游资源开发时,我们对文物古迹应

- A. 拆除重建      B. 翻新使用      C. 加强保护      D. 杜绝参观

读第 29~31 届奥运会举办地点信息示意图(图 10),完成 23~25 题。

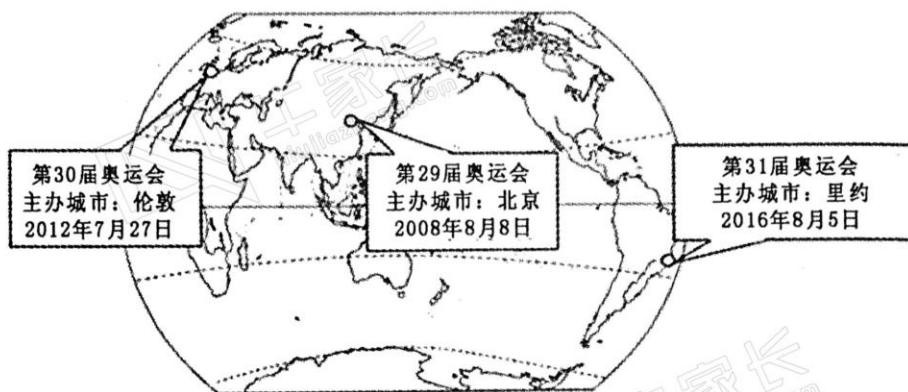
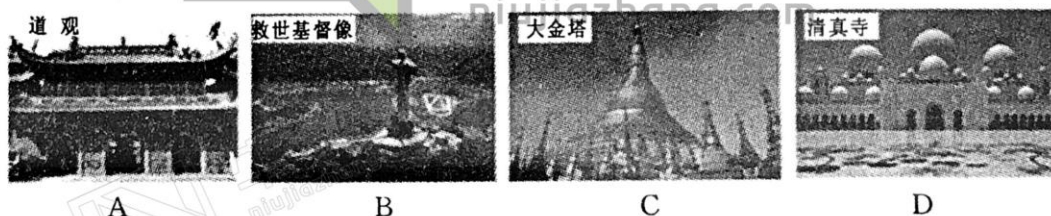


图 10

23. 第 30 届奥运会承办国的官方语言是

- A. 英语      B. 汉语      C. 法语      D. 俄语

24. 在里约热内卢看到的典型宗教建筑是



25. 中国与巴西之间的互助合作称为

- A. 南北对话      B. 南南合作      C. 南北差距      D. 南北合作

## 二、综合题(50 分)

26. 读 30°N 纬线附近地区简图(图 11),完成下列问题。(8 分)

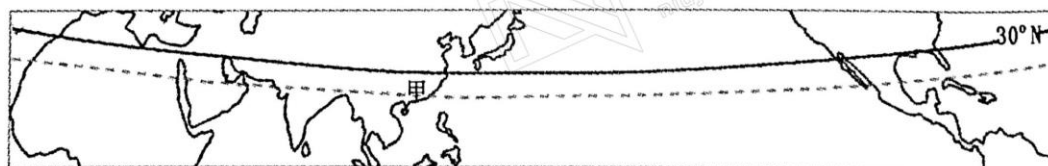


图 11

(1) 30°N 纬线自西向东依次穿越的大洲是非洲、\_\_\_\_\_和\_\_\_\_\_。(4 分)

(2) 说明甲地被誉为“回归线上的绿洲”的主要自然原因。(4 分)



27. 读某地等高线地形图(图 12),完成下列问题。(12 分)

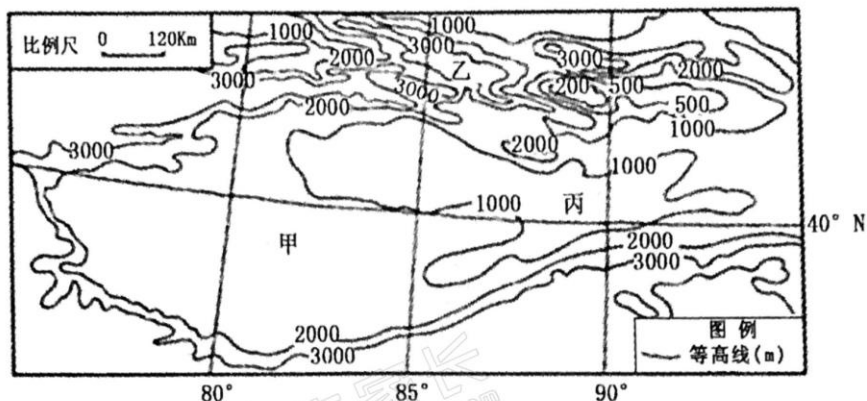
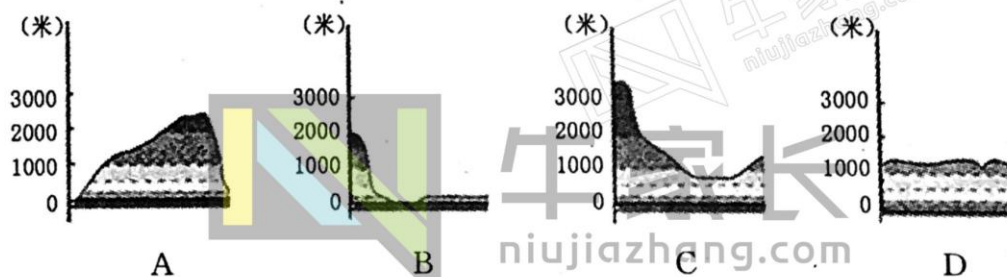


图 12

- (1) 甲、乙、丙三地中海拔最低的是 \_\_\_\_\_。(2 分)
- (2) 甲地的地形类型是 \_\_\_\_\_,判断依据是 \_\_\_\_\_。(4 分)  
乙地的地形类型是 \_\_\_\_\_,判断依据是 \_\_\_\_\_。(4 分)
- (3) 该地区沿 40°N 纬线的地形剖面图是 \_\_\_\_\_。(2 分)



28. 读某地 5 月 27 日~31 日天气统计图(图 13),完成下列问题。(10 分)

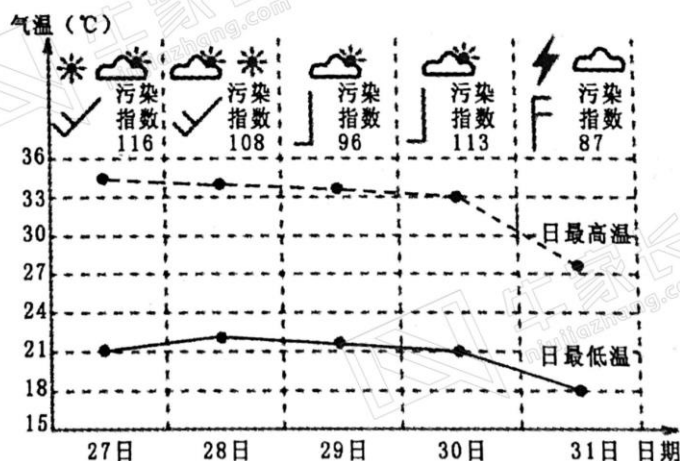


图 13

- (1) 图中温差最大的日期是 \_\_\_\_\_。(2 分)
- (2) 说出从 5 月 30 日至 31 日空气污染指数的变化,并分析其主要的天气原因。(6 分)
- (3) 近年来,雾霾对身体健康的影响受到广泛关注。请你为改善当地空气质量提出一条合理化建议。(2 分)

29. 读亚洲气候类型分布图(图 14),完成下列问题。(10 分)

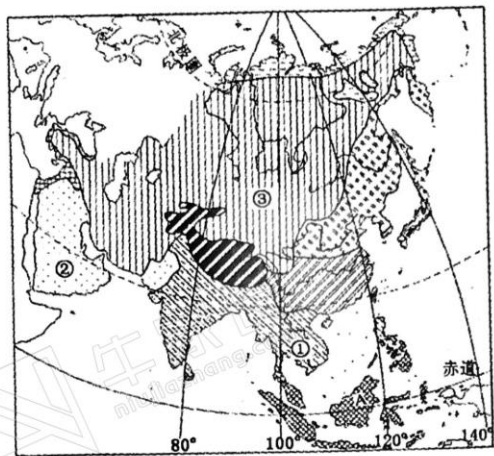
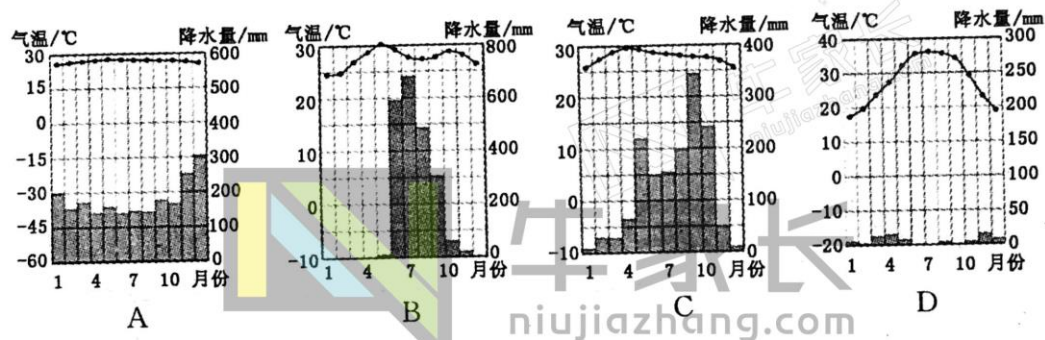



图 14

(1)下列气候统计图中与 ②气候类型相符的是 \_\_\_\_\_。(2 分)



(2)描述③气候类型的分布特点。(2 分)

(3)传统民居反映了当地的自然环境特点。与①、②、③三种气候类型分别对应的传统民居是 \_\_\_\_\_、\_\_\_\_\_、\_\_\_\_\_。(6 分)



甲

乙

丙


30. 郑州市动物园位于花园路上,正门朝西。小明在参观完郑州动物园后需乘坐地铁前往郑州东站。图 15 中左图为动物园附近百度地图截图,右图为郑州市地铁线路局部示意图。读图完成下列问题。(10 分)



图 15

(1) 根据百度地图提示,小明从郑州动物园出来后,应该朝 \_\_\_\_\_ (填方向)行走,可到达最近的 \_\_\_\_\_ 号线的 \_\_\_\_\_ 站(地铁站名)乘坐地铁。(6 分)

(2) 要到达郑州东站,小明还需在 \_\_\_\_\_ 站(地铁站名)下车,换乘 \_\_\_\_\_ 号线。(4 分)




牛家长  
niujiashang.com



# 2017-2018学年上期期末考试 七年级地理答题卡

姓名: _____ 班级: _____ 考场: _____	<b>注意事项:</b> 1. 答题前, 考生务必将自己的班级、姓名、考场号填写在相应位置。 2. 选择题必须使用2B铅笔填涂, 非选择题必须使用0.5毫米的黑色墨水签字笔书写, 字体工整、笔迹清晰。 3. 保持答题卡清洁、完整。严禁折叠, 严禁在答题卡上作任何标记, 严禁使用涂改液、胶带纸和修正带。	准考证号									
		0	0	0	0	0	0	0	0	0	0
正确填涂 		1	1	1	1	1	1	1	1	1	1
错误填涂 <input checked="" type="checkbox"/> <input checked="" type="checkbox"/>		2	2	2	2	2	2	2	2	2	2
<input checked="" type="checkbox"/> <input checked="" type="checkbox"/>		3	3	3	3	3	3	3	3	3	3
缺考标记 <input type="checkbox"/>		4	4	4	4	4	4	4	4	4	4
		5	5	5	5	5	5	5	5	5	5
		6	6	6	6	6	6	6	6	6	6
		7	7	7	7	7	7	7	7	7	7
		8	8	8	8	8	8	8	8	8	8
		9	9	9	9	9	9	9	9	9	9

## 选择题答题区 (每小题2分, 共50分)

1. 用 2B 铅笔填涂; 2. 修改时用塑料橡皮擦干净后, 重新填涂所选项; 3. 填涂的正确方法是: 

- |   |  |  |  |  |
|---|--|--|--|--|
| 1 <input type="checkbox"/> A <input type="checkbox"/> B <input type="checkbox"/> C <input type="checkbox"/> D | 6 <input type="checkbox"/> A <input type="checkbox"/> B <input type="checkbox"/> C <input type="checkbox"/> D  | 11 <input type="checkbox"/> A <input type="checkbox"/> B <input type="checkbox"/> C <input type="checkbox"/> D | 16 <input type="checkbox"/> A <input type="checkbox"/> B <input type="checkbox"/> C <input type="checkbox"/> D | 21 <input type="checkbox"/> A <input type="checkbox"/> B <input type="checkbox"/> C <input type="checkbox"/> D |
| 2 <input type="checkbox"/> A <input type="checkbox"/> B <input type="checkbox"/> C <input type="checkbox"/> D | 7 <input type="checkbox"/> A <input type="checkbox"/> B <input type="checkbox"/> C <input type="checkbox"/> D  | 12 <input type="checkbox"/> A <input type="checkbox"/> B <input type="checkbox"/> C <input type="checkbox"/> D | 17 <input type="checkbox"/> A <input type="checkbox"/> B <input type="checkbox"/> C <input type="checkbox"/> D | 22 <input type="checkbox"/> A <input type="checkbox"/> B <input type="checkbox"/> C <input type="checkbox"/> D |
| 3 <input type="checkbox"/> A <input type="checkbox"/> B <input type="checkbox"/> C <input type="checkbox"/> D | 8 <input type="checkbox"/> A <input type="checkbox"/> B <input type="checkbox"/> C <input type="checkbox"/> D  | 13 <input type="checkbox"/> A <input type="checkbox"/> B <input type="checkbox"/> C <input type="checkbox"/> D | 18 <input type="checkbox"/> A <input type="checkbox"/> B <input type="checkbox"/> C <input type="checkbox"/> D | 23 <input type="checkbox"/> A <input type="checkbox"/> B <input type="checkbox"/> C <input type="checkbox"/> D |
| 4 <input type="checkbox"/> A <input type="checkbox"/> B <input type="checkbox"/> C <input type="checkbox"/> D | 9 <input type="checkbox"/> A <input type="checkbox"/> B <input type="checkbox"/> C <input type="checkbox"/> D  | 14 <input type="checkbox"/> A <input type="checkbox"/> B <input type="checkbox"/> C <input type="checkbox"/> D | 19 <input type="checkbox"/> A <input type="checkbox"/> B <input type="checkbox"/> C <input type="checkbox"/> D | 24 <input type="checkbox"/> A <input type="checkbox"/> B <input type="checkbox"/> C <input type="checkbox"/> D |
| 5 <input type="checkbox"/> A <input type="checkbox"/> B <input type="checkbox"/> C <input type="checkbox"/> D | 10 <input type="checkbox"/> A <input type="checkbox"/> B <input type="checkbox"/> C <input type="checkbox"/> D | 15 <input type="checkbox"/> A <input type="checkbox"/> B <input type="checkbox"/> C <input type="checkbox"/> D | 20 <input type="checkbox"/> A <input type="checkbox"/> B <input type="checkbox"/> C <input type="checkbox"/> D | 25 <input type="checkbox"/> A <input type="checkbox"/> B <input type="checkbox"/> C <input type="checkbox"/> D |

## 综合题 (共5小题, 50分)

26. (8分)

(1)(4分) \_\_\_\_\_

(2)(4分) \_\_\_\_\_

27. (12分)

(1)(2分) \_\_\_\_\_

(2)(8分) \_\_\_\_\_

(3)(2分) \_\_\_\_\_

请不要在此区域做任何标记！

28. (10分)

(1)(2分) \_\_\_\_\_

(2)(6分) \_\_\_\_\_

\_\_\_\_\_

(3)(2分) \_\_\_\_\_

29. (10分)

(1)(2分) \_\_\_\_\_

(2)(2分) \_\_\_\_\_

(3)(6分) \_\_\_\_\_

30. (10分)

(1)(6分) \_\_\_\_\_

(2)(4分) \_\_\_\_\_

请在各题规定的黑色矩形区域内答题,超出该区域的答案无效!

七年级地理答题卡 第2面(共2面)

# 郑州牛家长

微信号 :zzniujiashang

长按二维码关注



💡 升学信息    💡 家长社群    💡 名师讲座

🧑‍🎓 我们不是搬运工    原创才是我们的特色



小牛聊升学

每个牛孩身后都有一个牛家长



长按二维码 > 识别图中二维码 > 添加好友

备注【孩子年级+学校】邀你加入微信升学群